

ش سندلی (ش داوطلب):	نام واحد آموزشی:	نخبگان علامه طباطبایی	نوبت امتحانی:	میان ترم دوم	ساعت امتحان:	۷:۳۰	صبح
نام و نام خانوادگی:	پایه:	هشتم	مقطع:	دوره اول متوسطه	وقت امتحان:	۶۰	دقیقه
سؤال امتحان درس:	مطالعات اجتماعی	نام دبیر / دبیران:	خانم شهسواری	سال تحصیلی:	تعداد برگ سئوال:	۴	صفحه
				۱۳۹۵ - ۱۳۹۶			

بارم	متن سوال	
۰/۵	گزینه‌ی صحیح را انتخاب کنید. ۱- کدام پادشاه به سبب لشکرکشی‌هایش به هند در تاریخ شهرت دارد؟ <input type="checkbox"/> (۱) سلطان ملکشاه <input type="checkbox"/> (۲) سلطان محمود غزنوی <input type="checkbox"/> (۳) سلطان جلال‌الدین <input type="checkbox"/> (۴) سلطان مسعود غزنوی	الف
۰/۵	۲- مغولان در زمان کدام سلسله به ایران هجوم آوردند؟ <input type="checkbox"/> (۱) سلجوقیان <input type="checkbox"/> (۲) تیموریان <input type="checkbox"/> (۳) خوارزمشاهیان <input type="checkbox"/> (۴) غزنویان	۰/۵
۰/۵	۳- کدام شهر از پایتخت‌های سلجوقیان نبود؟ <input type="checkbox"/> (۱) بغداد <input type="checkbox"/> (۲) ری <input type="checkbox"/> (۳) اصفهان <input type="checkbox"/> (۴) نیشابور	۰/۵
۰/۵	من کیستم؟ ۱- از شاعران معروف و از دانش‌آموختگان مدارس نظامیه هستم.	ب
۰/۵	۲- همسر یکی از شاهزادگان تیموری هستم که در مشهد در جوار امام رضا (ع) مسجدی بنا کردم.	۰/۵
۰/۲۵	درستی یا نادرستی عبارت‌های زیر را مشخص کنید. ۱- به سفارش شاهزاده‌ی سلجوقی بایسنقر میرزا یکی از نفیس‌ترین نسخه‌های کهن شاهنامه نگارگری و تذهیب شد. ۲- در نتیجه‌ی فتوحات آلب ارسلان، بخش وسیعی از آسیای صغیر به تصرف سلجوقیان درآمد. ۳- در دوران سلسله‌های ترک تبار زبان و ادب فارسی مورد توجه و حمایت قرار گرفت.	پ
۰/۲۵	<input type="checkbox"/> <input type="checkbox"/>	
۰/۲۵	<input type="checkbox"/> <input type="checkbox"/>	
۰/۲۵	<input type="checkbox"/> <input type="checkbox"/>	
۰/۷۵	وزیران معروف را با خطی به سلاطین مربوطه وصل کنید. (یک مورد اضافی است). <input type="checkbox"/> - خواجه نظام الملک <input type="checkbox"/> - عمید الملک کندی <input type="checkbox"/> - خواجه رشیدالدین فضل ... <input type="checkbox"/> - سلطان محمد خدابنده <input type="checkbox"/> - هلاکوخان <input type="checkbox"/> - آلب ارسلان <input type="checkbox"/> - طغرل	ت
۰/۵	نمودار زیر را کامل کنید. <div style="border: 1px solid black; padding: 5px; margin: 5px 0;">۱-</div> <div style="border: 1px solid black; padding: 5px; margin: 5px 0;">۲- تأسیس حکومت ایلخانان</div> <div style="border: 1px solid black; padding: 5px; margin: 5px 0;">۳-</div> اقدامات هلاکوخان:	ث
۰/۵	پاسخ کوتاه دهید. ۱- خلیفه‌ی عباسی به دلیل اقدامات طغرل به وی چه لقبی داد؟	ج

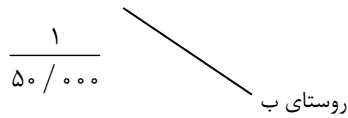
۰/۵	۲- مجموعه قوانین چنگیز خان مغول چه نام داشت؟	
۰/۵	۳- رصدخانه‌ی مراغه با تشویق و همت چه کسی ساخته شد؟	
۱	<p>در رابطه با سربهداران به پرسش‌های زیر پاسخ دهید.</p> <p>۱- علت به پا خواستن و قیام آن‌ها چه بود؟</p> <p>۲- چرا به این نام معروف شدند؟</p>	ج
۱	<p>پاسخ کامل دهید.</p> <p>۱- ملکشاه چگونه توانست سلجوقیان را به اوج قدرت برساند؟</p> <p>۲- خواجه نظام الملک برای اداره‌ی بهتر مدارس نظامیه چه اقداماتی انجام داد؟</p> <p>۳- چند مورد از هنرهای دوره سلجوقی را نام ببرید. (ذکر دو مورد کفایت)</p>	ح
	سوالات بخش جغرافیا	
۰/۵	<p>گزینه‌ی صحیح را انتخاب نمایید.</p> <p>۱- متراکم‌ترین منطقه‌ی جهان از نظر جمعیت کجاست؟ <input type="checkbox"/> هند (۱) <input type="checkbox"/> چین (۲) <input type="checkbox"/> جاوه (۳) <input type="checkbox"/> مالزی (۴)</p>	الف
۰/۵	<p>۲- کدام یک از مناطق ذکر شده آب و هوای گرم و شرجی ندارد؟ <input type="checkbox"/> دریای سرخ (۱) <input type="checkbox"/> دریای مدیترانه (۲) <input type="checkbox"/> دریای عمان (۳) <input type="checkbox"/> اقیانوس هند (۴)</p>	
۰/۵	<p>۳- منطقه‌ی جنوب غربی آسیا از شرق به کجا ختم می‌شود؟ <input type="checkbox"/> ارتفاعات پامیر (۱) <input type="checkbox"/> خلیج عدن (۲) <input type="checkbox"/> تنگه‌ی داردانل (۳) <input type="checkbox"/> تنگه‌ی بسفر (۴)</p>	

	غلط صحیح <input type="checkbox"/> <input type="checkbox"/> <input type="checkbox"/> <input type="checkbox"/> <input type="checkbox"/> <input type="checkbox"/>	درستی یا نادرستی عبارات زیر را مشخص کنید. ۱- مهم‌ترین محصول کشاورزی آسیا گندم است که غذای اصلی مردم آسیا را تشکیل می‌دهد. ۲- ایران از نظر داشتن منابع گاز مقام اول را در منطقه‌ی جنوب غربی آسیا دارد. ۳- مسئله‌ی نفت از مسائلی است که گاهی باعث اختلافات و نزاع‌هایی بین کشورهای جنوب غربی آسیا می‌شود.	ب
۰/۵ ۰/۵ ۰/۵		پاسخ کوتاه دهید. ۱- یهودیان و مسیحیان به بیت المقدس چه می‌گویند؟ ۲- سرزمین‌های شرق و جنوب شرقی آسیا در تابستان در معرض چه بادهایی قرار دارند؟ ۳- لقب چهار کشور آسیایی که صادرات را هدف اقتصادی خود قرار داده‌اند چیست؟	پ
۰/۷۵		در رابطه با سازمان همکاری اقتصادی (اِکو) به پرسش‌های زیر پاسخ دهید. ۱- ایران با کدام کشورها این پیمان را بست؟ ۲- کشورهای این سازمان در چه زمینه‌ای با هم همکاری می‌کنند؟ ۳- این سازمان هم اکنون چند عضو دارد؟	ت
۰/۵ ۰/۲۵ ۰/۲۵		پاسخ کامل دهید. ۱- برخی کشورهای قدرتمند جهان در کشورهای وابسته به خود در منطقه‌ی جنوب غربی آسیا پایگاه نظامی ایجاد نموده‌اند. (الف) دو کشور بزرگی که در این منطقه پایگاه نظامی دارند را نام ببرید. (ب) هدف این کشورها از ایجاد پایگاه نظامی چیست؟ (پ) در این پایگاه‌ها چه چیزهایی مستقر کرده‌اند؟ (یک مورد)	ث

۲- جدول را کامل کنید.

آب و هوا	منطقه
تمام روزهای سرد و یخبندان
.....	مرکز و داخل آسیا
همیشه گرم

۱ ۳- فاصله‌ی روستای « الف » تا روستای « ب » در نقشه ۲ سانتی‌متر است. فاصله‌ی واقعی این دو روستا چندمتر و چند کیلومتر است؟





۱ ۴- پدر حسین از دلاوران نیروی دریایی جمهوری اسلامی ایران است، ایشان و سایر دلاوران نیروی دریایی در زمان جنگ و صلح چه اقداماتی انجام می‌دهند؟

۱ ۵- خالد در منطقه‌ی جنوب غربی آسیا و تسو در چین زندگی می‌کنند. چه جاذبه‌ی گردشگری در منطقه‌ی زندگی خالد و تسو می‌شناسید؟ برای هر کدام یک مورد بنویسید.

۲۰ جمع نمرات

دانش آموز گرامی جهت مشاهده پاسخ تشریحی آزمون امروز ، به کانال بانک سوالات نخبگان مراجعه کنید.

 <https://telegram.me/banksoalnokhbegan>  Nokhbegan_Complex

فنی تاریخ

(الف)

- ۱- سلطان محمد غزنوی
- ۲- خوارزمشاهیان
- ۳- بغداد

(ب)

- ۱- بصری
- ۲- گره‌شمار بانو

(پ)

- ۱- شاهزاده‌ی تیموری (غ)
- ۲- ص
- ۳- ص

(ت)

خواجه تقی‌الملک به آب ارسلان
عبدالملک کنیری به خزل
خواجه رشیدالدین فضل‌الله به سلطان محمد خدابنده

(ث)

- ۱- ملکه‌های اسماعیلیان را به اندامت
- ۳- خدمت عباسی به امامت امامت
(کنش خدمت)

(ج)

- ۱- سلطان رشیدالدین
- ۲- بایا
- ۳- خواجه رشیدالدین عطارسی

(ح)

- ۱- زیاده خواهی و تکلفی شاهان حاکم مغولی
- ۲- به بیت شاعران «سر به راهی دهم تن به ذلت نمی دهم»

(ع)

- ۱- با فتح مناطقی از حاورالزور و شام که باعث شد محدودی خیز اجتماعی ایران با زمان سلطنت
مهمی نیز. و از حاورالزور در

۲- اصول و اهداف زیاری را وقت این ملاقاتی کرد. به هر حال بعد از آن در کارکنان رضامندی، حقوق و پیرایه می کند. صفات خاص گذشت که استادان را شایسته باروت خاصی از پیش می ریزد. در قابلیت زندگی برای رسیدن به سطح استواری و مورد است

۳- مفهوم خاصین صاحب دار، بدین معنی، مفهوم زیرین فکر یا طایفه بنفشه و نظارهای مختلف، انگیزگاری اخلاقی، مذهب، ماسمتن و مذهب از میم

(در مورد فائیت)

نفس و خیرات

الف)

۱- جاوه ۲- ربا و سترانه ۳- ارتفاعات یا صبر

ب)

۱- غی بزیج ۲- حق ۳- غی مند که بود آب شیرین

ج)

۱- اورشلم ۲- صومعی (مردون) ۳- «بیرها اعتباری آبی»

د)

۱- بالستان و تکریم ۲- اعتباری - فرزندی ۳- ره کرد و غیره

۱-۲

۱- الف آمریکا و انگلستان
ب- حفظ منافذ خود
پ- استیلاهای نظامی، با ایجاد نظامی

	صنعت	آب و هوا
۲-	تخلیه آب	تغذیه ماهی و سایر آبزیان
	فریزر داخل آب	خاروبای باغی
	صنوبر آب	ترنم

1 km = 1000 m

۳- 2 x 50,000 = 100,000

100,000 ÷ 100,000 = 1 km

۴- در مواقع جنگ با شایسته در شرایط فراوان در آب ها با دشمنان خلیج فارس

دفاع کردند و نتوانستند که در روستا و آبادی های تجاری واردات کالا به ایران منع بشود

باید در زمان صلح احاطه منافذ کشور ایران در دریاها باشند.

۵- هر کشور عربی با آن هم بر اسم خاله هم شده - عرب - عیال عربات

اعراب هندی عربی

سبب دیوار چین