

ایران عزیز ما دارای فرهنگ و تمدن چند هزار ساله و بسیار عمیق و ارزشمندی است.

علت اصلی طمع برخی کشورهای استعمارگر به کشور ما نیز همین منابع و استعدادهای فراوان و همچنین مقاومت مردم

این سرزمین در مقابل زورگویی های دیگران است.

کشور ما یکی از کشورهای نسبتا وسیع جهان است و اکنون ۱,۶۴۸,۱۹۵ کیلومتر مربع وسعت دارد جمعیت ایران در سال

۱۳۹۵ نزدیک به ۸۰ میلیون بوده است.



عده زیادی از مردم ایران در شهرهای کوچک و بزرگ زندگی می کنند.



و تعدادی از مردم نیز در روستاها به سر می برند.



عده کمی از هم وطنان ما نیز زندگی عشایری دارند.



به نقشه نگاه کنید.

برای اداره بهتر کشور، آن را به بخش هایی تقسیم کرده

اندکه به هریک استان می گویند. استان به وسیله

استانداری اداره می شود.

هر استان نیز به چند شهرستان تقسیم می شود

در هر شهرستان تعدادی شهر و روستا وجود دارد.

شهر یا روستای محل زندگی شما جزو کدام شهرستان

است؟



روستاها چگونه اداره می شوند؟



روستاها توسط شورای اسلامی روستا و دهیار اداره می شوند. برای تشکیل شورای اسلامی روستا افراد باتجربه و مورد اعتماد روستا با رای مردم انتخاب می شوند. این شورا برای اداره روستا و بهتر شدن وضع آن اقداماتی از قبیل مشارکت و همکاری های عمومی برای آبادانی بیشتر روستا ، شناسایی نیازهای مختلف روستا (مانند ساخت و تعمیر مدرسه پل مسجد قنات و...) و تلاش برای رفع آنها و امور دیگر تصمیم گیری می کنند.

اشکال زمین در ایران



به نقشه نگاه کنید. همان طور که می بینید همه جای ایران از نظر پستی و بلندی یکسان نیست. بخش هایی از ایران مرتفع و بلند و بخش های دیگر پست و هموار هستند.



سیلان



دماوند

- ❖ کوه های آذربایجان در شمال غربی ایران قرار گرفته اند. قله های آتشفشانی این کوهها کدام اند؟ **سهند و سیلان**
- ❖ رشته کوه البرز در شمال ایران واقع است و مانند دیواری دریای خزر را از قسمت های داخلی کشور جدا می کند. قله های مهم این رشته کوه را پیدا کنید و نام ببرید. **علم کوه و دماوند و توچال**
- ❖ کوه های خراسان در شمال شرقی ایران قرار دارند.



❖ در دامنه های شمالی رشته کوه البرز که رو به دریا

قرار دارد، برف و باران فراوان می بارد. این دامنه ها پوشیده

از جنگل های انبوه است؛ به عکس، دامنه های جنوبی البرز

کم رطوبت مانده و فقط در فصل زمستان برف و باران

دریافت می کنند و در نتیجه پوشش گیاهی کمتری دارند.

وقتی خورشید به آب های دریای خزر می تابد، آب ها تبخیر می شوند و این بخارها در امتداد کوه های البرز بالا می روند و در ارتفاعات سرد می شوند و دوباره به صورت باران فرو می ریزند.



دنا (در استان کهگیلویه و بویراحمد) یکی از قله های مرتفع زاگرس است که ۴۴۰۹ متر ارتفاع دارد.

❖ رشته کوه زاگرس در غرب ایران کشیده شده است.

و جهت آن شمال غربی - جنوب شرقی (↘) است.

در دامنه های شمال غربی برف و باران فراوانی می

بارد اما هر چه به سمت جنوب زاگرس پیش می

رویم از میزان برف و باران کاسته می شود. به نقشه

نگاه کنید. قله های بلند زاگرس کدام اند؟

دنا ، زردکوه و الوند



قله کرکس



تفتان

در نواحی مرکزی و جنوب شرقی ایران نیز کوه های بلند و پراکنده ای وجود دارد.

آیا می توانید چند قله بلند را در نواحی مرکزی ایران پیدا

کنید و نام ببرید؟ کرکس ، لاله زار ، هزار ، شیرکوه

نواحی پست و هموار



نواحی پست و هموار ایران شامل **دشت‌ها و جلگه‌ها**

دودشت وسیع ایران کدامند؟ **کویر و لوت**

برخی از دشت‌ها به دلیل داشتن **خاک مساعد و آب و هوای مناسب** حاصلخیزند. جلگه‌ها نیز زمین‌های حاصلخیز و مناسبی برای **کشاورزی** هستند.

آیا می‌توانید با توجه به آنچه در سال‌های قبل خواندید بگویید جلگه چگونه تشکیل می‌شود؟

رودها خاک‌ها را شسته با خود حمل و در کنار رود ویا سواحل دریا ته نشین می‌کنند که این آبرفت‌ها جلگه را تشکیل می‌دهد.

در **کوهپایه‌ها** یعنی زمین‌هایی که از یکسویه کوه‌ها و از سوی دیگر به دشت‌ها مربوط می‌شود، علفزارهایی روئیده‌است که از آنها به عنوان **چراگاه** استفاده می‌شود.



زمین، خانه ما



همه مردم در خانه بزرگ تری زندگی می‌کنند. این خانه بزرگ **سیاره زمین** نام دارد. کشور ما ایران یکی از کشورهای سیاره زمین است. سیاره زمین قاره‌ها و اقیانوس‌های پهناور دارد. ایران در **جنوب غربی قاره آسیا** واقع شده است.



پاسخ فعالیت های درس ۱۰

۱- کاربرگه ی شماره (۳) را برای آشنایی بیشتر با تقسیمات کشوری در کلاس کامل کنید. (صفحه ۵۰)

پاسخ به عهده دانش آموز

۲- همفکری کنید. شما از چه راه هایی می توانید برای حفاظت از شهر یا روستای خود با شهرداری یا دهیاری همکاری کنید؟ چند مورد بگویید. (صفحه ۵۲)

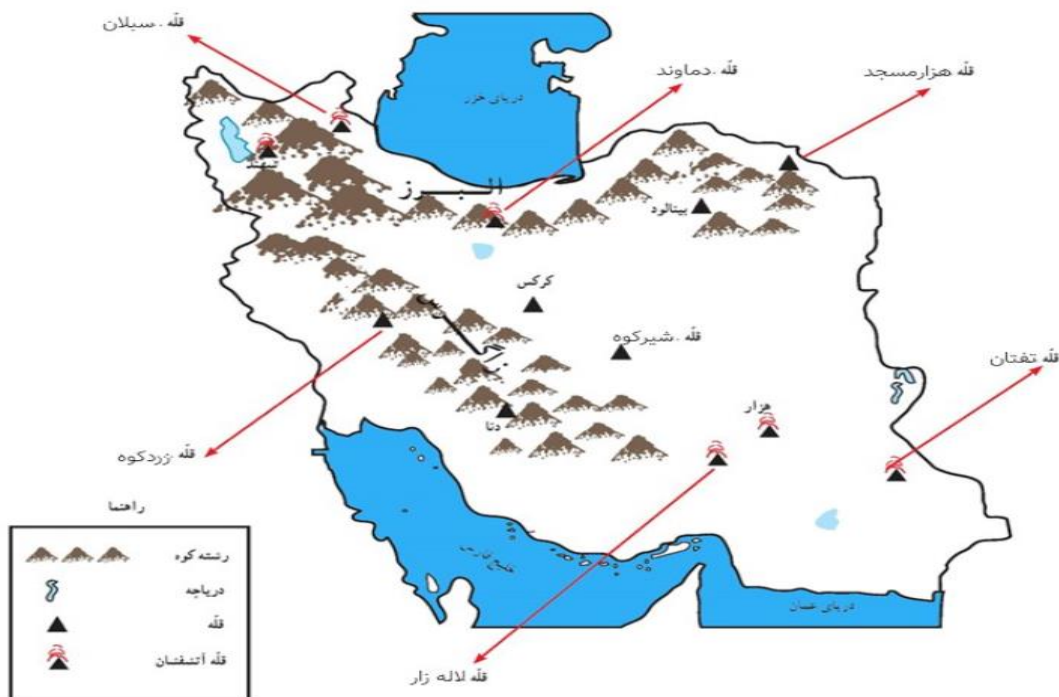
از ریختن زباله در کوچه و خیابان خودداری کنیم - زباله ها را در سطل های آهنی زباله که در هر محله و خیابانی است بیندازیم تا ماموران شهرداری آنها را جمع آوری کنند - از وسایل بازی و ورزشی که در پارک ها گذاشته شده به درستی استفاده کنیم - گل ها باعث زیبایی پارک ها شده اند پس از چیدن آنها خودداری کنیم.

۳- به تصویر قبض عوارض نوسازی توجه کنید. از پدر و مادرتان درباره آن پرس و جو کنید و اگر می توانید یک نمونه آن را به کلاس بیاورید و به همکلاسی هایتان نشان دهید. (صفحه ۵۲)

شهرداری سالی یک بار مبالغی از شهر نشینان تحت عنوان عوارض نوسازی دریافت می کند که جزء ردیف های درآمدی شهرداری می باشد ، در چارچوبی که قانون برای آنها تعیین کرده وظیفه دارند در قبال اخذ مبالغی مشخص، خدماتی را به شهروندان ارائه دهند.

۴- مردم چگونه می توانند با مشارکت خود، مسئولان اداره شهر یا روستا را یاری رسانند؟ (صفحه ۵۲) شرکت در مراسم های اجتماعی) ماه محرم و میلادها و... و با تزیین کردن محله و خیابان ها - کمک رسانی در مواجهه با حوادث غیرمترقبه از نظیر سیل و زلزله

کاربرگه شماره (۴) قله های مهم ایران



۵- کاربرگه شماره (۴) قله های مهم ایران را در کلاس کامل کنید. (صفحه ۵۴)

پاسخ :

- روی نقشه نام قله هایی را که نوشته نشده است بنویسید.

- دریاها را با مداد آبی رنگ کنید.

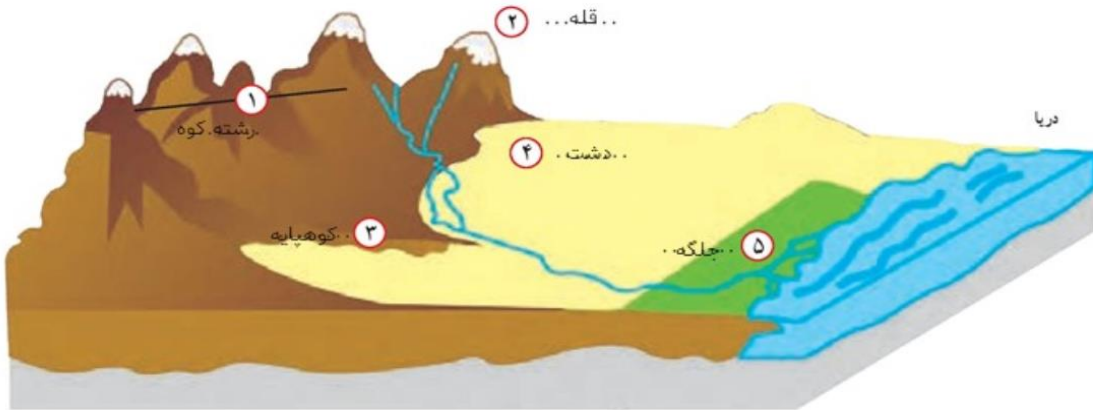
- کدام قله ها آتشفشان بوده اند؟ بنویسید. سیلان - دماوند - تفتان - لاله زار

۶- کاربرگه شماره (۵) اشکال ناهمواری ها و دشت ها و جلگه های ایران را در کلاس انجام دهید. (صفحه ۵۵)

کاربرگه شماره (۵) دشت و جلگه

۱- روی مثل، کنار شماره ها، کلمه جلگه، دشت، کوهپایه، قله و رشته کوه را بنویسید.

پاسخ: ←



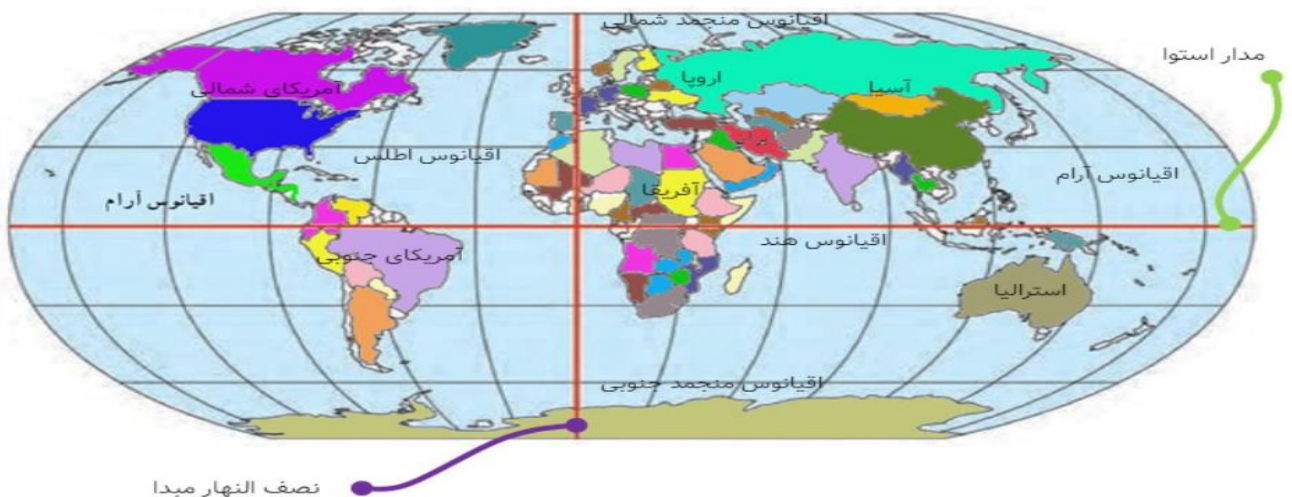
۲- نام جلگه ها و دشت هایی را

که روی نقشه نوشته نشده، بنویسید. جلگه ها را با مداد سبز رنگ کنید.

پاسخ: ←

۷- کاربرگه شماره (۶) ایران در جهان را در کلاس انجام دهید. (صفحه ۵۵) پاسخ: ←

کاربرگه شماره (۶) ایران در جهان





سوالات متن به همراه پاسخ مطالعات اجتماعی پایه هفتم درس ۱۰

۱- کشور ما ایران چند کیلومتر مربع وسعت دارد؟ $1/648/195$ کیلومتر مربع

۲- کشور ما در سال ۱۳۹۵ چند میلیون نفر جمعیت داشت؟ ۸۰ میلیون نفر

۳- زندگی مردم ایران به چند صورت است؟ شهری - روستایی - عشایری

۴- تقسیم بندی کشور چرا و چگونه صورت گرفته است؟

برای اداره بهتر کشور را به بخش های تقسیم کردند که به هر یک استان می گویند. استان به وسیله استانداری اداره می شود. هر

استان نیز به چند شهرستان تقسیم می شود. در هر شهرستان تعدادی شهر و روستا وجود دارد.

۵- شهرداری چگونه موسسه ای است؟

شهرداری مؤسسه ای است که برای اداره بهتر شهر به وجود آمده و خدماتی به ساکنان شهر ارائه می کند.

۶- شهرها توسط و اداره می شوند. شورای اسلامی شهر - شهردار

۷- اعضای شورای شهر را آن شهر انتخاب می کنند. مردم

۸- مهم ترین خدمات شهرداری را ذکر کنید.

- ایجاد و نگهداری فضای سبز، زیباسازی شهرواحداث بوستانها و مکانهای ورزشی و تفریحی برای کودکان و بزرگسالان
- صادرکردن پروانه ساختمان، نظارت بر چگونگی ساخت وسازها و تلاش برای حفظ و تقویت هویت بومی و اسلامی در آنها
- توسعه و نظارت بر حمل و نقل عمومی (تاکسی، اتوبوس و مترو) و تأمین آنها
- ترویج دین داری و فضیلت های اخلاقی در فضای شهر
- احداث، تعمیر یا اصلاح راه های شهری، پل ها، تونل ها و...
- ایجاد خانه های سلامت و فرهنگ سراها، برای ترویج سبک زندگی اسلامی و پرکردن صحیح اوقات فراغت

۹- شهرداری هزینه خدماتی را که به مردم ارائه می کند چگونه تأمین می کند؟

شهرداری بخشی از درآمد خود را از مردم و بخشی را از بودجه عمومی کشور دریافت می کند.

۱۰- شهروانشینان باید هر سال مبلغی به عنوان به شهرداری بپردازند. عوارض نوسازی

۱۱- روستاها چگونه اداره میشوند؟

روستاها توسط شورای اسلامی روستا و دهیار اداره می شوند. برای تشکیل شورای اسلامی روستا، افراد با تجربه و مورد اعتماد روستا با

رأی مردم انتخاب می شوند. این شورا برای اداره روستا و بهتر شدن وضع آن و اقداماتی از قبیل: جلب مشارکت و همکاری های عمومی

برای آبادانی بیشتر روستا، شناسایی نیازهای مختلف روستا (مانند ساخت یا تعمیر مدرسه، پل، مسجد، قنات و ...) و تلاش برای رفع آنها

و امور دیگر، تصمیم گیری می کند.

۱۲- همه جای ایران از نظر پستی و بلندی یکسان نیست. صحیح غلط

۱۳- ایران از نظر پستی و بلندی به پند بخش تقسیم می شود؟ مرتفع و بلند - پست و هموار

۱۴- نواحی مرتفع و بلند قسمت شمالی ایران کدامند؟

کوه های آذربایجان در شمال غربی - رشته کوه البرز در شمال - کوه های خراسان در شمال شرقی

۱۵- قله های آتش فشانی کوه های آذربایجان را نام ببرید؟ سهند - سبلان

۱۶- قله های مهم رشته کوه البرز را نام ببرید؟ دماوند - علم کوه - توچال

۱۷- کدام رشته کوه مانند دیوار، دریای مازندران را از قسمت های داخلی کشور جدا می کند؟ رشته کوه البرز

۱۸- دامنه های شمالی رشته کوه البرز را با دامنه های جنوبی آن مقایسه کنید؟

در دامنه های شمالی رشته کوه البرز که رو به دریا قرار دارد، برف و باران فراوان می بارد. این دامنه ها پوشیده از جنگل های انبوه است؛

به عکس، دامنه های جنوبی البرز کم رطوبت مانده و فقط در فصل زمستان برف و باران دریافت می کنند و در نتیجه پوشش گیاهی کمتری

دارند.

۱۹- رشته کوه زاگرس در ایران کشیده شده است و جهت آن است. غرب - شمال غربی - جنوب شرقی

۲۰- دامنه های شمال غربی زاگرس را با دامنه های جنوبی آن مقایسه کنید؟

در دامنه های شمال غربی برف و باران فراوانی می بارد اما هر چه به سمت جنوب زاگرس پیش می رویم از میزان برف و باران کاسته می

شود.

۲۱- قله های بلند زاگرس کدامند؟ دنا - زردکوه - الوند

۲۲- قله های بلند نواحی مرکزی ایران را نام ببرید؟ کرکس - هزار - لاله زار - شیرکوه

۲۳- نواحی پست و هموار ایران شامل دشت ها و جلگه ها است. صحیح غلط

۲۴- دو دشت وسیع ایران را نام ببرید؟ دشت کویر - دشت لوت

۲۵- آیا همه نواحی پست و هموار ایران برای کشاورزی مناسب است؟

برخی از دشت ها به دلیل داشتن خاک مساعد و آب و هوای مناسب حاصلخیزند. جلگه هانیز زمین های حاصلخیز و مناسبی برای کشاورزی هستند.

۲۶- کوهپایه چیست؟ زمین هایی که از یک سو به کوه ها و از سوی دیگر به دشت ها مربوط می شود.

۲۷- معمولا از کدام بخش از مناطق کوهستانی برای چرای دام ها استفاده می شود؟ کوهپایه

۲۸- ایران در قاره آسیا واقع شده است. جنوب غربی



با توجه به مطالب آموخته شده به سوالات تستی درس ۱۰ مطالعات اجتماعی پایه هفتم پاسخ دهید.

۱- نظارت بر حمل و نقل عمومی بر عهده کدام موسسه است؟

- الف) شهرداری ب) راه و ترابری ج) نیروی انتظامی د) راهنمایی و رانندگی

۲- استان از چه طریق اداره می شود؟

- الف) شورای شهر ب) استاندار ج) شهردار د) فرماندار

۳- قله سهند جزء کوه های است.

- الف) خراسان ب) زاگرس ج) آذربایجان د) البرز

۴- کدام رشته کوه مانند دیوار، دریای مازندران را از قسمت های داخلی کشور جدا می کند؟

- الف) زاگرس ب) سهند ج) دماوند د) البرز

۵- جهت رشته کوه زاگرس - است.

- الف) جنوب شرقی - شمال شرقی ب) شمال غربی - جنوب شرقی
ج) شمال شرقی - جنوب غربی د) شمال غربی - جنوب غربی

۶- کدام قله در مرکز و جنوب شرقی ایران قرار ندارد؟

- الف) کرکس ب) تفتان ج) هزار د) بینالود

۷- این ناحیه به دلیل وجود زمین های حاصلخیز برای کشاورزی مناسب است.

- الف) جلگه ب) بیابان ج) کوهپایه د) دامنه کوه ها

۸- ایران در کدام قسمت آسیا واقع شده است.

- الف) جنوب غربی ب) جنوب شرقی ج) شمال غربی د) شمال شرقی

پایان

موفق باشید.