

بسمه تعالی

نام و نام خانوادگی:	آموزش و پرورش ناحیه ۵ مشهد			تاریخ امتحان: ۹۸/۰۳/۰۷
نام دبیر یا طراح: سرگزی	کلاس: ۱۱۷۱	تعداد سوال: ۲۳	تعداد صفحه: ۴	مهر مدرسه:
ساعات شروع: ۱۰:۳۰ صبح	شماره صندلی:	پایه: یازدهم انسانی	شماره دانش آموزی:	نوبت دوم صبح <input checked="" type="checkbox"/>

سوال	"دانش را بجوئید تا با آن شناخته شوید و به آن دانش عمل کنید، تا از اهل آن باشید" (امام علی(ع))	بارم
۱	درست یا نادرست بودن جملات زیر را با عبارت (ص) و (غ) مشخص کنید. الف) پلتیک به معنای سیاست است. () ب) مهم ترین نواحی صنعتی در بخش آسیا کشور چین است. () ج) افراد کشورهای عضو اتحادیه اروپا بر طبق پیمان شنکن آزادانه به همه کشورها سفر می کنند. () د) مرز کشور پاراگوئه، برزیل و آرژانتین مرز مصنوعی است. () ل) وایتکر در طبقه بندی زیست بوم ها به دو عامل بارش و دما توجه کرده است. ()	۱/۲۵
۲	در عبارت های زیر جاهای خالی را با کلمات مناسب پر کنید. الف) معمولا، امکان تبدیل کشورهای که در منطقه واقع شده اند به قدرت سیاسی منطقه ای یا جهانی بیشتر است. ب) علت اصلی گرسنگی است. ج) نواحی در امور سیاست خارجی و دفاع تابع حکومت مرکزی هستند. د) نظام تک ساختی از به دیگر نقاط جهان راه یافته است.	۱
۳	گزینه درست را انتخاب کنید. الف) جوهره ژئوپلتیک را تشکیل می دهد. ب) تصویر زیر کدام اشکال فرسایشی را نشان می دهد؟ ۱- سیاست ۲- جغرافیا ۳- قدرت ۴- حکومت ۱- چاله بادی ۲- کلوت ۳- برخان ۴- رگ ج) کدام کشور جز مهم ترین مراکز دامداری تجاری نیست؟ ۱- برزیل ۲- استرالیا ۳- ایالات متحده آمریکا ۴- کانادا د) مرز کشور هند و پاکستان چه نوع مرزی است؟ ۱- تحمیلی ۲- تطبیقی ۳- پیشتاز ۴- قبل از سکونت	۱
۴	به سوالات پاسخ کوتاه بدهید. الف) به سنگ ها و رسوباتی که یخچال ها با خود حمل می کنند چه می گویند ؟ ب) به مکان هایی که ویژگی های مشابه دارند چه می گویند ؟ ج) مهم ترین نواحی صنعتی اروپا در کدام قسمت این قاره قرار دارد ؟	۱/۲۵

د) مرز بین فرانسه و اسپانیا چه نوع مرزی است؟




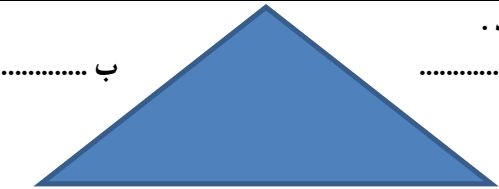
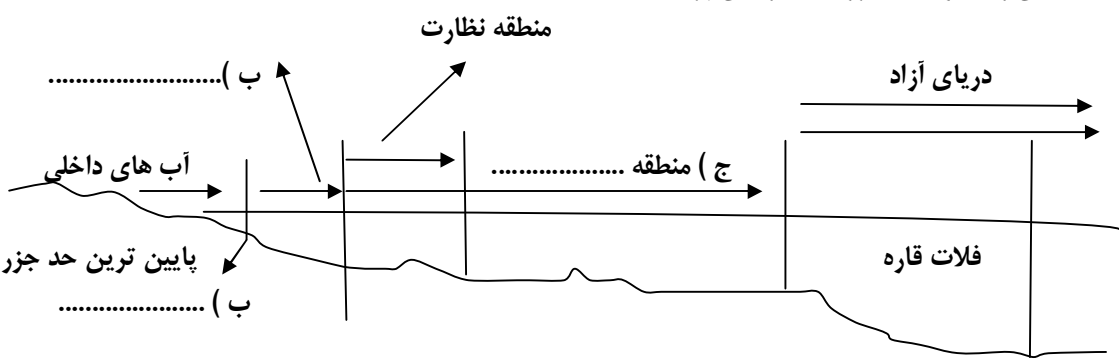
ل) بخش هاشور زده در امتداد دو ناحیه زبانی انگلیسی و اسپانیایی چه ناحیه ای را نشان می دهد؟



۱	<p>کلمات مناسب را برای جملات مورد نظر انتخاب کنید .</p> <p>الف) اگر ارزش صادرات یک کشور بیشتر از واردات باشد موازنه تجاری (منفی _ مثبت) می باشد .</p> <p>ب) مناطق آزاد تجاری در مجاورت (مرزها - بنادر) مهم ایجاد می شود .</p> <p>ج) هر کشور مستقل که نظام حکومتی مستقلی دارد را یک ناحیه سیاسی (فرو ملی _ ملی) می گویند .</p> <p>د) خطی که عمیق ترین نقاط پستر را به هم متصل می کند را (منصف _ تالوگ) می گویند .</p>	۵
۱	<p>جملات سمت راست را به طور مناسب به عنوان های سمت چپ مربوط کنید .</p> <p>الف) تایلند</p> <p>ب) نروژ</p> <p>ج) لهستان</p> <p>د) اندونزی</p> <p>فشرده</p> <p>دنباله دار</p> <p>محاطی</p> <p>طویل</p> <p>چند تکه</p>	۶
۱/۵	<p>مفاهیم زیر را تعریف کنید .</p> <p>الف) ژئوپلتیک :</p> <p>ب) اقتصاد جهانی :</p> <p>ج) جغرافیای سیاسی :</p>	۷
+۰/۵	<p>انسان ها چگونه بر نواحی طبیعی غلبه یافتند؟</p>	۸



۱	علت توزیع نامساوی انرژی خورشید در سطح زمین را توضیح دهید .	۹
+۰/۵	فشار هوا در این تصاویر چگونه می باشد ؟  <p>.....</p>	۱۰
+۰/۷۵	یکی از انواع پخش و انتشار فرهنگی را همراه با مثال بنویسید .	۱۱
+۰/۷۵	کشورها از چه نظر در صنایع کارخانه ای یکسان نیستند؟	۱۲
+۰/۷۵	چرا برنج در نواحی خاصی کشت می شود ؟	۱۳
+۰/۵	چرا بیشتر مزارع پلاتیشن در نزدیکی دریاها ی نواحی استوایی قرار دارند؟	۱۴
+۰/۵	اروپاییان در قرن های پانزدهم و شانزدهم میلادی چگونه به سرزمین های نو دست یافتند ؟	۱۵
+۰/۵	شرکت های چند ملیتی چند ملیتی از شرکت های محلی کشورهای میزبان چه استفاده ای می کنند ؟	۱۶
۱/۵	در ارتباط با کشورهای مرکز _ پیرامون به این سوالات پاسخ دهید . الف) مهم ترین کشورهای مرکز را نام ببرید . (۲ مورد) ب) منظور از کشورهای نیمه پیرامون چیست ؟ ج) کشورهای پیرامون عمدتاً تولید کننده و صادر کننده و هستند .	۱۷

۱۸	ارکان ناحیه سیاسی را در جایگاه خود بر روی تصویر بنویسید . الف ب ج).....		+ / ۷۵
۱۹	منظور از کانون ناحیه سیاسی چیست ؟ با مثال توضیح دهید .		۱
۲۰	جاهای خالی را با توجه به مرزهای دریایی پر کنید . منطقه نظارت دریای آزاد فلات قاره منطقه (ج) آب های داخلی پایین ترین حد جزر ب) ب) (.....)		+ / ۷۵
۲۱	در نظام فدرال ایالت ها در چه زمینه ای از حکومت مرکزی تبعیت می کنند ؟		+ / ۷۵
۲۲	مهم ترین عوامل پیدایش و بقای یک کشور را نام ببرید .		+ / ۷۵
۲۳	چرا داشتن جمعیت زیاد از عوامل قدرت ملی است ؟ (۳ مورد)		+ / ۷۵
	مشرق و مغرب خدای راست ، پس به هر جا روی آورید ؛ رو به سوی خداوند است ، بیگمان خدا گشایگر داناست (آیه ۱۱۵ سوره بقره)		
	((موفق باشید.))		

نام و نام خانوادگی مصحح/دبیر	نمره نهایی پس از رسیدگی به اعتراضات	نام و نام خانوادگی مصحح/دبیر	تصحیح و نمره گذاری
با عدد	با حروف	با عدد	با حروف
امضاء :	امضاء :	امضاء :	امضاء :

د) مرز بین فرانسه و اسپانیا چه نوع مرزی است ؟
مرز طبیعی (کوه)



ل) بخش هاشور زده در امتداد دو ناحیه زبانی انگلیسی و اسپانیایی چه ناحیه ای را نشان می دهد ؟
ناحیه ی انتقالی



۱

کلمات مناسب را برای جملات مورد نظر انتخاب کنید .
الف) اگر ارزش صادرات یک کشور بیشتر از واردات باشد موازنه تجاری (منفی _ مثبت) می باشد . مثبت
ب) مناطق آزاد تجاری در مجاورت (مرزها - بنادر) مهم ایجاد می شود . بنادر
ج) هر کشور مستقل که نظام حکومتی مستقلی دارد را یک ناحیه سیاسی (فرو ملی _ ملی) می گویند . ملی
د) خطی که عمیق ترین نقاط بستر را به هم متصل می کند را (منصف _ تالوگ) می گویند . تالوگ

۵

۱

جملات سمت راست را به طور مناسب به عنوان های سمت چپ مربوط کنید .

الف) تایلند ← فشرده
ب) نروژ ← دنباله دار
ج) لهستان ← محاطی
د) اندونزی ← طویل
چند تکه ←

۶

۱/۵

مفاهیم زیر را تعریف کنید .
الف) ژئوپلیتیک :
شاخه ای از دانش جغرافیا است که با موضوعات قدرت و ارتباط آن با جغرافیا و سیاست سرو کار دارد و روابط متقابل این سه عنصر را مطالعه می کند .
ب) اقتصاد جهانی :
منظور از اقتصاد جهانی ، تجارت بین المللی کالاها و خدمات است که بر مبنای ارزش یک پول معین صورت می گیرد .
ج) جغرافیای سیاسی :
علم مطالعه کنش ها های متقابل جغرافیا و سیاست و پیامدهای تاثیر این دو را بر یکدیگر تحلیل می کند .


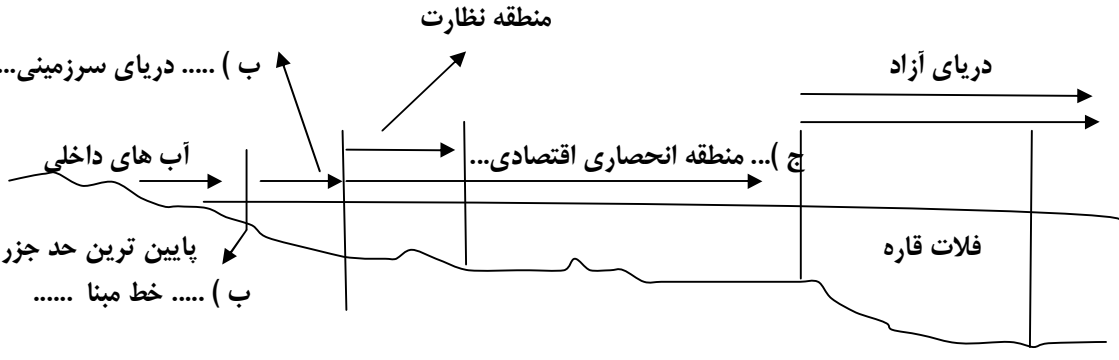
۷

۰/۵

انسان ها چگونه بر نواحی طبیعی غلبه یافتند ؟
انسان ها با پیشرفت و دانش و تولید ابزار و فناوری بر محیط های طبیعی غلبه می کند و این محیط ها را در اختیار گرفته اند .

۸

۱	<p>علت توزیع نامساوی انرژی خورشید در سطح زمین را توضیح دهید .</p> <p>زاویه تابش خورشید و میزان پراکندگی آن بر روی زمین یکنواخت نیست . مایل بودن محور موجب می شود که اشعه خورشید به مناطق استوایی عمود و نزدیک به عمود بتابد - و زاویه تابش به سمت قطب مایل و مایل تر می شود . بنابراین ، مقدار انرژی خورشید که هر سانتی متر مربع از زمین در مناطق استوایی دریافت می کند ، بسیار بیشتر از مقداری است که مناطق قطبی جذب می کنند .</p>	۹
+۵	<p>فشار هوا در این تصاویر چگونه می باشد ؟</p>  <p>..... کم فشار پر فشار</p>	۱۰
+۷۵	<p>یکی از انواع پخش و انتشار فرهنگی را همراه با مثال بنویسید . (یک مورد کافی است)</p> <p>۱ - گاهی نواحی (دو ناحیه) به هم خیلی نزدیک هستند و پدیده فرهنگی در اثر تماس مردم ، از ناحیه ای به ناحیه دیگر منتقل می شود مانند ورزش ها که مبدا آن کانادا است اما بین مردم آمریکا و نواحی مرزی آن نیز رواج دارد .</p> <p>۲- گاهی پخش و انتشار از یک فرهنگ به فرهنگ های دیگر بدون آن که فرهنگ در تماس مستقیم با یکدیگر باشند انتقال می یابد و رسانه ها نقش عمده درند مانند شیوه لباس پوشیدن ، تفریحات ، نوع غذا ، رفتارها ، و</p>	۱۱
+۷۵	<p>کشورها از چه نظر در صنایع کارخانه ای یکسان نیستند؟</p> <p>تعداد صنایع - کمیت و کیفیت تولیدات کارخانه ای - سودی که از راه صدور کالاهای صنعتی به دست می آید .</p>	۱۲
+۷۵	<p>چرا برنج در نواحی خاصی کشت می شود ؟</p> <p>به دلیل اینکه به شرایط خاص آب و هوایی گرمسیری و نیمه گرمسیری - رطوبت هوا - آب زیاد وابسته است .</p>	۱۳
+۵	<p>چرا بیشتر مزارع پلاتیشن در نزدیکی دریاها ی نواحی استوایی قرار دارند؟</p> <p>تا بتوان از کشتی برای صدور محصولات به نواحی مختلف جهان استفاده کنند .</p>	۱۴
+۵	<p>اروپاییان در قرن های پانزدهم و شانزدهم میلادی چگونه به سرزمین های نو دست یافتند ؟</p> <p>با ورود به عصر اکتشافات جغرافیایی و پیشرفت در دریانوردی</p>	۱۵
+۵	<p>شرکت های چند ملیتی چند ملیتی از شرکت های محلی کشورهای میزبان چه استفاده ای می کنند ؟</p> <p>برای تولید یا فروش کالاهای خود استفاده می کنند</p>	۱۶
۱/۵	<p>در ارتباط با کشورهای مرکز _ پیرامون به این سوالات پاسخ دهید .</p> <p>الف) مهم ترین کشورهای مرکز را نام ببرید . (۲ مورد)</p> <p>کشورهای آمریکای شمالی - اروپای غربی - ژاپن - استرالیا</p> <p>ب) منظور از کشورهای نیمه پیرامون چیست ؟ بین مرکز و پیرامون قرار دارند</p> <p>این کشورها از کشورهای پیرامون قوی تر اما هنوز از نظر اقتصاد به کشورهای مرکز نرسیده اند</p> <p>ج) کشورهای پیرامون عمدتاً تولید کننده و صادر کننده مواد اولیه و خام هستند .</p>	۱۷

+۷۵	<p>ارکان ناحیه سیاسی را بر روی تصویر بنویسید .</p> <p>الف (سازه انسانی ، جمعیت</p> <p>ب) ...نظام مدیریت ..</p>  <p>ج) قلمرو جغرافیایی.....</p>	۱۸
۱	<p>منظور از کانون ناحیه سیاسی چیست ؟ با مثال توضیح دهید .</p> <p>هر ناحیه سیاسی کانونی دارد که محل تمرکز قدرت سیاسی است و قدرت سیاسی از آن نقطه در سطح ناحیه سیاسی اعمال می شود . کانون ناحیه سیاسی همان پایتخت ها ، مراکز ایالت ها و استان ها و شهرهای مهم ناحیه ای یا مقرر سازمان های بین المللی هستند .</p>	۱۹
+۷۵	<p>جاهای خالی را با توجه به مرز های دریایی پر کنید .</p> 	۲۰
+۷۵	<p>در نظام فدرال ایالت ها در چه زمینه ای از حکومت مرکزی تبعیت می کنند ؟</p> <p>ایالت ها در دفاع ، سیاست خارجی و واحد پول ملی از حکومت مرکزی تبعیت می کنند .</p>	۲۱
+۷۵	<p>مهم ترین عوامل پیدایش و بقای یک کشور را نام ببرید .</p> <p>هویت ملی - همبستگی ملی - پیوستگی سرزمینی</p>	۲۲
+۷۵	<p>چرا داشتن جمعیت زیاد از عوامل قدرت ملی است ؟ (۳ مورد)</p> <p>منبع کار - تولید ثروت - نیروی نظامی و دفاعی - سرچشمه روحیه ملی است</p>	۲۳
	<p>مشرق و مغرب خدای راست ، پس به هر جا روی آورید ؛ رو به سوی خداوند است ، بیگمان خدا گشایگر داناست (آیه ۱۱۵ سوره بقره)</p>	
	<p>((موفق باشید.))</p>	