

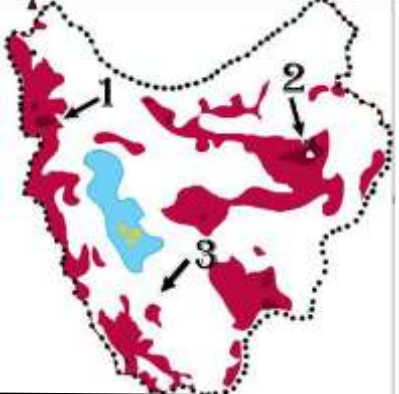


نام و نام خانوادگی :		هوالرحیم	
شماره صندلی :		آموزش و پرورش منطقه ۲ تهران	
شماره کلاس :		دبیرستان دخترانه فرهنگ رضوان	
نام دبیر : سرکارخانم رزم پور		سال تحصیلی ۹۸-۹۷	
نام درس :		نام درس :	
مدت امتحان : دقیقه		مدت امتحان : دقیقه	
تاریخ امتحان :		تاریخ امتحان :	
تعداد سؤال :		تعداد سؤال :	
تعداد صفحات :		تعداد صفحات :	
بارم	ردیف		
۱	۱	الف: گزینه صحیح را انتخاب کنید. محل قرارگیری هر مکان نسبت به سایر پدیده های طبیعی یا انسانی چه نام دارد؟ الف) موقعیت جغرافیایی <input type="checkbox"/> ب) موقعیت ریاضی <input type="checkbox"/> ج) موقعیت نسبی <input checked="" type="checkbox"/> د) موقعیت طبیعی <input type="checkbox"/>	
	۲	عامل شکل گیری بیابان لوت چیست؟ الف) قرار گرفتن در داخل کوهستانها <input type="checkbox"/> ب) فشار جنب حاره ای <input checked="" type="checkbox"/> ج) دوری از دریا ها <input type="checkbox"/> د) موارد الف و ب <input type="checkbox"/>	
	۳	تنگه هرمز، آبراهه هلالی شکلی است که اقیانوس هند و دریای را به خلیج فارس متصل می کند. الف) خزر <input type="checkbox"/> ب) سرخ <input type="checkbox"/> ج) مدیترانه <input type="checkbox"/> د) عمان <input checked="" type="checkbox"/>	
	۴	کدام مورد از ارزش اقتصادی دشت ها محسوب می شود؟ الف) دامپروری <input type="checkbox"/> ب) ذخایر آب <input type="checkbox"/> ج) تولید انرژی خورشیدی و بادی <input checked="" type="checkbox"/> د) حمل و نقل کالا <input type="checkbox"/>	
۱/۲۵	۱	ب) جای خالی را با کلمات مناسب پر کنید. در هر پژوهش . فرضیه نقش راهنما را دارد و به فعالیت های محقق جواب می دهد.	
	۲	پرسش نامه، مصاحبه و مشاهده ، از جمله ابزارهای گردآوری اطلاعات به روش میدانی هستند.	
	۳	تبخیر شدید باعث بوجود آمدن نمک زارهای پف کرده ای بنام کویر میشود.	
	۴	علت پیدایش گل فشان ها در استان هرمزگان خروج گاز یابخار آب از اعماق زمین به بالا است.	
	۵	منطقه آذر بایجان توسط کوههای تالش از کناره ی دریای خزر جدا می شود.	
۰/۷۵	۱	ج) جمله صحیح را با ص و غلط را با خ مشخص کنید. در دامنه های شرقی زاگرس بارندگی بیشتر است نادرست	
	۲	جغرافیدانان با دید ترکیبی به مطالعه محیط می پردازند. درست	
	۳	پرسش چطور ، به سیر تکوین و تحول پدیده ها می پردازد. درست	
۰/۵	۱	به سوالات زیر پاسخ کوتاه دهید مهم ترین عامل تشخیص و جدایی هر کشور از کشور همسایه است؟ مرز	
۰/۵	۲	چه عاملی خاورمیانه را به بازار مصرف بزرگی تبدیل کرده است؟ درآمدها و دلارهای ناشی از صدور و فروش نفت	
۰/۵	۳	عامل شکل گیری بزرگترین کمربند بیابانی کره زمین چیست؟ عامل پرفشار جنب حاره ای	
۰/۵	۴	عملکرد انسان در ارتباط با محیط طبیعی به چند صورت است؟ درک توان ها و استفاده از منابع برای رفع نیازها ☑ نگاه سودجویانه برای رسیدن به خواسته ها	

	نام و نام خانوادگی:	صفحه ۲ از						
۱	هر یک از مراحل زیر مربوط به کدام مراحل تحقیق و پژوهش در جغرافیا است: الف) حذف اطلاعات غیر ضروری : پردازش اطلاعات ب) ارتباط مستقیم با مکان: روش میدانی ج) رد یا تایید فرضیه: نتیجه گیری د) بررسی پژوهش دیگران در مورد موضوع تحقیق جمع آوری اطلاعات	۱						
۲	چه رابطه ای بین عرض جغرافیایی و آب و هوای ایران وجود دارد؟ در مناطق جنوبی کشور، که در عرض های پایین جغرافیایی قرار دارند زاویه تابش خورشید هنگام ظهر، نزدیک به عمود است و به همین دلیل در این نواحی، مقدار تابش خورشید بیشتر و هوا گرم تر است ولی در مناطق شمالی کشور که در عرض های بالای جغرافیایی قرار دارند و زاویه تابش خورشید مایل تر است، مقدار تابش کمتر و هوا سردتر است	۲						
۳	دسترسی به آبهای آزاد برای ایران چه مزیت هایی را به دنبال دارد؟(سه مورد) دسترسی به آب های آزاد برای هر کشوری، علاوه بر امکان ارتباط با سایر نقاط جهان، دستیابی به منابع غذایی و منابع معدنی و سوخت های فسیلی را نیز فراهم می کند.	۳						
۴	جدول ریرا کامل کنید:	۴						
	<table border="1"> <thead> <tr> <th>عوامل طبیعی تغییر دهنده زاگرس</th> <th>عوامل انسانی تغییر دهنده زاگرس</th> </tr> </thead> <tbody> <tr> <td>۱ رودها ۲- توفان های گرد و غبار</td> <td>۱- احداث سدهای متعدد ۲- احداث جاده ها،</td> </tr> <tr> <td>۳- ریزش های جوی شدید</td> <td>۳- احداث شهرهای متعددی در کناره رودها و.....</td> </tr> </tbody> </table>	عوامل طبیعی تغییر دهنده زاگرس	عوامل انسانی تغییر دهنده زاگرس	۱ رودها ۲- توفان های گرد و غبار	۱- احداث سدهای متعدد ۲- احداث جاده ها،	۳- ریزش های جوی شدید	۳- احداث شهرهای متعددی در کناره رودها و.....	
عوامل طبیعی تغییر دهنده زاگرس	عوامل انسانی تغییر دهنده زاگرس							
۱ رودها ۲- توفان های گرد و غبار	۱- احداث سدهای متعدد ۲- احداث جاده ها،							
۳- ریزش های جوی شدید	۳- احداث شهرهای متعددی در کناره رودها و.....							
۵	برای جلگه های شمالی و جنوبی کشور هریک به تفکیک دو ارزش اقتصادی ذکر کنید: گذران اوقات فراغت، ارزش ارتباطی، منابع طبیعی نظیر نفت و گاز و پرورش آبزیان	۵						
۶	موارد ذیل رابا توجه به نقشه پاسخ دهید:  <p>۱- نام رود؟ سفید رود</p> <p>۲- نام قله؟ دماوند</p> <p>۳- نام جلگه؟ گرگان</p>	۶						
۷	وجود ریزگردها در هوا منجر به چه پیامدهایی می شود؟(دو مورد) ریزگرد ها موجب عفونت های ریوی و اختلالات تنفسی در انسان می شوند. ریزگردها همچنین موجب آسیب رساندن به جنگل های زاگرس(جنگل بلوط) و کاهش میزان تولید محصولات کشاورزی شده و همچنین میدان دید را کاهش می دهند.	۷						
۸	وارونگی د ما چیست و چرا باعث تشدید آلودگی هوا می شود؟ در حالت عادی در لایه اولیه جو، (تروپوسفر) با افزایش ارتفاع از سطح زمین، دمای هوا کاهش می یابد؛ از این رو در شرایط عادی، هوای مجاور سطح زمین گرم تر و سبک تر از لایه های بالایی است و به راحتی می تواند به سمت بالا صعود کند و جابه جا شود. اما در ماه های سرد سال، وضعیت برعکس می شود، در این شرایط هوای سرد و سنگین تر در مجاورت زمین ساکن است و لایه هوای گرمی در بالای آن قرار می گیرد. در چنین شرایطی، حرکت صعودی و جابه جایی هوا صورت نمی گیرد و موجب افزایش آلودگی هوا در شهرهای بزرگ و نواحی صنعتی می شود.	۸						

	نام و نام خانوادگی:	
۰/۷۵	<p>صفحه ۳ از</p> <p>به دلخواه نام چهارمورد از توده هوا را در محل آن روی شکل وارد کنید:</p> 	۹ ۱۰
۰/۷۵	<p>مثلث کوهستانی مرکزی از اتصال کدام سه رشته کوه یه وجود می آید؟</p>  <p>سه نقطه کوه جغتای در خراسان رضوی، گردنه آوج در استان قزوین و قله کوه بزمان یا خضر زنده در سیستان و بلوچستان</p>	۱۱
۰/۷۵	<p>موارد زیر را با توجه به نقشه پاسخ دهید:</p>  <p>1- رشته کوه؟ رشته کوه مرزی ایران و ترکیه،</p> <p>2- قله؟ سبلان</p> <p>3- رود؟ رود زرینه رود</p>	۱
۱ ۱ ۱/۵ ۱	<p>سوالات کتاب استان شناسی تهران</p> <p>۲ در استان تهران برای مقابله با بیابان زایی چه اقداماتی صورت گرفته است؟ کاشت جنگلهای دست کاشت ۲ مدیریت هرز آبهای سطحی</p> <p>۳ به چه دلایلی استان تهران یکی از مهمترین استان های کشور است؟ (۴مورد) مرکزیت سیاسی و اداری کشورها - تمرکز فعالیت اقتصادی و صنعتی - تراکم و تمرکز بالای جمعیت - راههای ارتباطی</p> <p>۴ انواع آب و هوای تهران را با مثال نام ببرید؟ ۱- کوهستانی مانند ارتفاعات توجال و پالان گردن ۲- کوهپایه ای مانند فیروزکوه و دماوند ۳ بیابانی و نیمه بیابانی مانند ورامین و رباط کریم</p> <p>۱ دو مورد از مسائل و مشکلات ناشی از افزایش و تمرکز جمعیت تهران را بنویسید؟ ۱ تغییر کاربری زمین های کشاورزی ۲ فشار بر منابع آب - ۳ آلودگی هوا - ۴ آلودگی آب و خاک - ۵ مصرف زیاد انرژی افزایش میزان شهرنشینی و افزایش نیاز خدماتی</p> <p>برای کاهش آثار تخریبی سیل در شهر تهران چه اقدامات صورت گرفته است؟ ۱ احداث شبکه فاضلاب ۲ احیای قنات ها و مسیل های قدیمی ۳ لایروبی جوی ها ۴ کاشت درخت در حریم رودخانه ها</p>	۲ ۳ ۴