

بسمه تعالی

سوالات متن مطالعات اجتماعی

پایه هفتم دوره متوسطه اول

درس ۱ تا ۲۴

قابل استفاده برای دبیران و دانش آموزان

تهیه کننده: علی فروتن

دبیر مطالعات اجتماعی ناحیه یک اردبیل

وبلاگ:

www.alifrotan.blogfa.com

ایمیل:

alifrotan@ymail.com



درس اول

(۱) منظور از حق چیست؟ (نمره)

(۲) انسان ها از ابتدای خلقت و تولد دارای حقوق می شوند. (۵/۰ نمره)

الف) طبیعی ب) اجتماعی ج) فردی د) فطری

(۳) مهمترین حق انسانها چیست؟ (۵/۰ نمره)

(۴) چرا انسانها حق دارند آزاد باشند؟ (۵/۰ نمره)

(۵) آیا همه انسان ها صرف نظر از قوم، نژاد، زبان، اعتقادات، ثروت، فقر و ... دارای حقوق طبیعی هستند؟ چرا؟ (نمره)

(۶) تبعهٔ یک کشور بودن موجب می شود افراد حقوقی بر مبنای قوانین آن کشور داشته باشند. (۵/۰ نمره)

صحیح غلط

(۷) دونمونه از حقوق خود در خانه و خانواده را نام ببرید؟ (نمره)

(۸) دونمونه از حقوق خود در مدرسه را نام ببرید؟ (نمره)

(۹) دونمونه از حقوق خود در محیط زندگی و کشور را نام ببرید؟ (نمره)

درس دوم

(۱) مادر روابطی که با دیگران برقرار می کنیم دارای حقوق هستیم؟ (۵/۰ نمره)

الف) متقابل ب) یکسان ج) فردی د) گروهی

(۲) بین حق و مسئولیت چه رابطه ای وجود دارد؟ (نمره)

(۲) همراه با هر حق، مسئولیت ها و تکالیفی وجود دارد. (۵/۰ نمره) صحیح غلط

(۳) منظور از مسئولیت چیست؟ (نمره)

(۴) چه موقعی می گویند یک فرد، فرد مسئولی است؟ (۵/۰ نمره)

(۵) افراد در نقش های مختلف، مسئولیت های مختلف دارند. (۵/۰ نمره) صحیح غلط

(۶) ما در برابر چه چیز و چه کسانی مسئول هستیم؟ (نمره)

(۷) تکالیف ما در مقابل خداوند متعال چیست؟ (۷۵/۰ نمره)

۸) شکرگزار بودن یعنی چه؟ (۰/۷۵)

۹) یکی از مسئولیت های مهم من مراقبت از..... است. (۵/۰ نمره)

الف) خودم ب) اعضای خانواده ج) همکلاسی ها د) اعضای جامعه

۱۰) ما چه مسئولیت هایی نسبت به خودمان داریم؟ چهارمورد رانام ببرید؟ (۱ نمره)

۱۱) ما چه مسئولیت هایی نسبت به اعضای خانواده داریم؟ دومورد رانام ببرید؟ (۵/۰ نمره)

۱۲) ما چه مسئولیت هایی نسبت به معلمان و همکلاسی ها داریم؟ چهارمورد رانام ببرید؟ (۱ نمره)

۱۳) ما چه مسئولیت هایی نسبت به اعضای جامعه داریم؟ دومورد رانام ببرید؟ (۵/۰ نمره)

۱۴) ما چه مسئولیت هایی نسبت به محیط زندگی خود و عالم آفرینش داریم؟ دومورد رانام ببرید؟ (۵/۰ نمره)

۱۵) هر یک از مسئولیت های زیر مربوط به چه چیزی یا چه کسانی است، با خطی به یکدیگر وصل کنید؟ (هر کدام ۰/۲۵ نمره)

شکرگزاری از نعمت ها	مسئولیت مانسبت به خدا
رعایت بهداشت و نظافت فردی	مسئولیت مانسبت به خودمان
با پدر و مادر خود باگستاخی صحبت نکردن	مسئولیت مانسبت به اعضای خانواده
محافظت از اموال عمومی مدرسه	مسئولیت مانسبت به معلمان و همکلاسی ها
همکاری با اهالی محل برای حفظ امنیت	مسئولیت مانسبت به اعضای جامعه
آسیب نزدن به درختان	مسئولیت مانسبت به محیط زندگی

درس سوم

۱) چرا به قانون مقررات نیاز داریم؟ (۱ نمره)

۲) آیا ما در استفاده از حقوق خود، آزادی مطلق و بی قید و شرط داریم؟ مثال بزنید؟ (۱ نمره)

۳) یکی از مهم ترین علل پدید آمدن مقررات و قوانین در جامعه چیست؟ (۱ نمره)

۴) عدم پیروی از قانون و مقررات در جامعه چه پیامدهایی دارد؟ (۱ نمره)

۵) به این موقعیت ها توجه کنید و بگویید هر کدام چه پیامد هایی دارد و کدام حقوق نادیده گرفته می شود؟ (هر مورد ۰/۵ نمره)

الف) فردی زباله های خانه خود را در گوشه پارکی مقابل محوطه بازی کودکان بریزد.

ب) فردی بخواهد خارج از صف افرادی که در نانوایی ایستاده اند، نان بگیرد.

ت) فروشنده ای که رایانه ای را فروخته و وقتی مشتری از او برگه خرید (صورت حساب) می خواهد به او نمی دهد.

ث) راننده ای که بدون توجه به علامت عبور ممنوع داخل خیابان یک طرفه می شود و ترافیک به وجود می آورد.

ج) موتور سواری که به علت شلوغی خیابان وارد پیاده رو می شود و از بین مردم عبور می کند.

چ) شرکت ساختمانی که قرار است سالن ورزشی برای مردم بسازد، اما مقررات ساختمان سازی و مصالح مناسب را به کار نبرد.

درس چهارم

۱) قوانین و مقررات به چه شکل هایی در جامعه وجود دارد؟ برای هر کدام یک مثال بزنید؟ (۵/۱ نمره)

۲) کدام یک از مقررات زیر به صورت دستورهای مذهبی و اخلاقی است؟ (۵/۰ نمره)

الف) واردنشدن با کفش به نمازخانه و مسجد ب) ایستادن در صف اتوبوس و نانوایی

ج) ممنوعیت عبور از چراغ قرمز د) بدون داشتن مدرک پزشکی به درمان مردم پرداختن

۳) کدام یک از مقررات زیرین گروه های اجتماعی و به صورت توافق یا عادت و رسم است؟ (۵/۰ نمره)

الف) واردنشدن با کفش به نمازخانه و مسجد ب) ایستادن در صف اتوبوس و نانوایی

ج) ممنوعیت عبور از چراغ قرمز د) بدون داشتن مدرک پزشکی به درمان مردم پرداختن

۴) کدام یک از مقررات زیر به وسیله یک نهاد دارای صلاحیت مثل مجلس تصویب شده و نام «قانون» به خود گرفته است؟ (۵/۰ نمره)

الف) واردنشدن با کفش به نمازخانه و مسجد ب) ایستادن در صف اتوبوس

ج) ایستادن در صف نانوایی د) بدون داشتن مدرک پزشکی به درمان مردم پرداختن

۵) قانون اساسی چیست؟ (۲ نمره)

۶) مهم ترین قانون هر کشور قانون..... آن کشور است. (۵/۰ نمره)

۷) مادر همه قانون ها است و سایر قوانین در چارچوب آن تصویب می شوند. (۵/۰ نمره)

۸) پس از پیروزی انقلاب اسلامی،..... برای نوشتن قانون اساسی جمهوری اسلامی ایران تشکیل شد. (۵/۰ نمره)

۹) چه کسانی قانون اساسی را نوشتند و تصویب کردند؟ (۵/۰ نمره)

۱۰) قانون اساسی در روزهای به همه پرسى گذاشته شد و مردم به آن رأى مثبت يا آرى دادند. (۵/۰نمره)

الف) ۱۱ و ۱۲ آذرماه ۱۳۵۸ ب) ۱۱ و ۱۲ آذرماه ۱۳۵۹

ج) ۱۱ و ۱۲ آبان ماه ۱۳۵۸ د) ۱۱ و ۱۲ آبان ماه ۱۳۵۹

۱۱) قانون اساسی جمهوری اسلامی ایران چند اصل دارد؟ (۵/۰نمره)

الف) ۱۷۷ ب) ۱۷۶ ج) ۱۸۷ د) ۱۷۸

۱۲) قانون اساسی توجه خاصی به حقوق اساسی و اجتماعی همهٔ مردم دارد. (۵/۰نمره) صحیح غلط

۱۳) منظور از اینکه همهٔ افراد در مقابل قانون مساوی هستند چیست؟ مثال بزنید. (۵/۰نمره)

۱۴) کارقوه مقننه چیست؟ (۵/۰نمره)

۱۵) تهیه و تصویب قوانین عادی کشور را در چارچوب قانون اساسی به عهده دارد. (۵/۰نمره)

۱۶) قوه مقننه از چه بخش هایی تشکیل شده است؟ (۵/۰نمره)

۱۷) نمایندگان مردم در مجلس شورای اسلامی به مدت چندسال انتخاب می شوند؟ (۵/۰نمره)

الف) ۵سال ب) ۴سال ج) ۳سال د) ۲سال

۱۸) شورای نگهبان از چند نفر تشکیل شده و این افراد از طرف چه کسانی انتخاب می شوند؟ (۱نمره)

۱۹) شش نفر فقیه شورای نگهبان از طرف چه کسی انتخاب می شوند؟ (۵/۰نمره)

۲۰) شش نفر حقوقدان شورای نگهبان از طرف چه کسی انتخاب می شوند؟ (۵/۰نمره)

۲۱) وظیفه شورای نگهبان چیست؟ (۲نمره)

۲۲) اعضای شورای نگهبان چند نفر هستند؟ (۵/۰نمره)

الف) ۶ نفر ب) ۹ نفر ج) ۱۰ نفر د) ۱۲ نفر

۲۳) بررسی و تایید صلاحیت نامزدهای انتخاباتی برعهده کیست؟ (۵/۰نمره)

الف) شورای نگهبان ب) مجلس شورای اسلامی ج) قوه مجریه د) رئیس جمهور

(۱) همدلی یعنی چه؟ (۵/۰نمره)

(۲) همیاری یعنی چه؟ (۵/۰نمره) یا

همیاری یعنی پس از درک احساس فرد حادثه دیده به کمک اوشتابیم. (۵/۰نمره) صحیح غلط

(۳) چرا در هنگام وقوع حوادث با همنوعان، همدلی و همدردی می کنیم؟ (۵/۰نمره)

(۴) امام رضا (ع) در مورد همدلی و همدردی چه می فرمایند؟ (۵/۰نمره)

(۵) کدام مؤسسات اجتماعی در حوادث به ما کمک می کنند؟ (۱نمره)

(۶) جمعیت هلال احمر چگونه موسسه ای است؟ (۱نمره)

(۷) جمعیت هلال احمر در هنگام حوادث چه کارهایی انجام می دهد؟ (۲نمره)

(۸) جمعیت هلال احمر بخشی به نام سازمان جوانان هلال احمر دارد. (۵/۰نمره) صحیح غلط

(۹) علامت زیر نشانگر کدام موسسه است؟ دوسطر درباره آن توضیح دهید؟ (۵/۱نمره)



(۱۰) در حوادث کوهستان جاده وسیل و آوارو... با گرفتن کدام شماره امدادگران هلال احمر به کمک مامی شتابند؟ (۵/۰نمره)

الف) ۱۴۷ ب) ۱۱۵ ج) ۱۲۵ د) ۱۱۰

(۱۱) در حوادث کوهستان و جاده وسیل و آوارو... با گرفتن کدام شماره امدادگران هلال احمر به یاری مامی شتابند؟ (۵/۰نمره)

(۱۲) این شعر از کیست؟ معنای شعر را توضیح دهید؟ (۱نمره)

بنی آدم اعضای یک پیکرند که در آفرینش زیک گوهرند

چو عضوی به درد آورد روز گار دگر عضو ها را نماند قرار

تو کز محنت دیگران بی غمی نشاید که نامت نهند آدمی

۱) بیمه دانش آموزی چه فایده ای دارد؟ (۵/۰ نمره)

۲) بیمه شونده وبیمه گر یعنی چه؟ (۱ نمره)

۳) چرا افراد خودشان را بیمه می کنند؟ (۱ نمره)

۴) چرا بیمه به وجود آمده است؟ (۵/۱ نمره)

۵) بیمه چیست؟ (۱ نمره)

۶) در یک قرارداد بیمه، بیمه گرو بیمه شونده هر کدام چه چیزی را برعهده می گیرند؟ بیان کنید؟ (۱ نمره)

بیمه گر متعهد می شود

بیمه شونده متعهد می شود

۷) در کشور ما، مؤسسات مختلفی برای بیمه به وجود آمده است که همه آنها زیر نظر «.....» فعالیت

می کنند. (۵/۰ نمره)

۸) وظیفه بیمه مرکزی چیست؟ (۵/۰ نمره)

۹) علامت زیر نشانگر کدام موسسه است؟ یک سطر درباره آن بنویسید؟ (۱ نمره)



۱۰) انواع بیمه نام ببرید؟ (۱ نمره)

۱۱) بیمه از نظر خدماتی که به بیمه شوندگان ارائه می کند، چند نوع است، نام ببرید؟ (۱ نمره)

۱۲) چرا همه دارندگان وسایل نقلیه موتوری، باید سالیانه خودروی خود را برای حوادث جانی و مالی ناشی از تصادف بیمه

کنند؟ (۵/۰ نمره)

۱۳) در چه مواردی از دفترچه بیمه بهداشت و درمان استفاده می کنید؟ (۵/۰ نمره)

۱۴) خانواده ها برای جبران خسارت های ناشی از حوادث احتمالی چون زلزله، سیل و آتش سوزی در محل زندگی خود بهتر

است چه اقدامی انجام دهند؟ (۵/۰ نمره)

درس هفتم

۱) چرا تولید صورت می گیرد؟ (۵/۰ نمره)

۲) محصولات تولید شده به چند بخش تقسیم می شوند؟ (۱ نمره)

۳) عوامل لازم برای تولید یک کالا به چند دسته تقسیم می شوند؟ هر کدام را در یک سطر توضیح دهید؟ (۵/۱ نمره)

۴) کدام مورد جزء سرمایه حساب نمی شود؟ (۵/۰ نمره)

الف) ماشین آلات ب) ابزار کار ج) زمین یا ساختمان د) جنگل ها

۵) کدام یک از عوامل تولید مهمتر است؟ چرا؟ (۱ نمره)

۶) کدام یک از عوامل تولید از بقیه مهمتر است؟ (۵/۰ نمره)

الف) منابع طبیعی ب) سرمایه ج) نیروی انسانی د) ابزار و تجهیزات

۷) کدام مورد از عوامل تولید نیست؟ (۵/۰ نمره)

الف) منابع طبیعی ب) سرمایه ج) نیروی انسانی د) منابع خارجی

۸) تقسیم کار در جامعه چگونه بوجود آمد؟ (۱ نمره)

۹) امروزه هیچ کس توانایی تأمین همه نیاز های خود را ندارد. (۵/۰ نمره) صحیح غلط

۱۰) به طور کلی مشاغل و فعالیت های اقتصادی را می توان به چند گروه عمده طبقه بندی کرد؟ (۷۵/۰ نمره)

۱۱) به نظر شما اگر بخواهیم تولید امروز را با گذشته مقایسه کنیم کدام عوامل تولید بیشتر تغییر کرده اند؟ یک مثال بزنید. (۱ نمره)

۱۲) به نظر شما از چه راه هایی می توانیم به تولید ملی کمک کنیم؟ (۵/۰ نمره)

۱۳) چگونه می توانیم از تولید کنندگان کشورمان حمایت کنیم؟ (۵/۰ نمره)

۱۴) توزیع یعنی چه؟ (۵/۰ نمره)

۱۵) تولیدات چگونه توزیع و عرضه می شوند؟ (۱ نمره)

۱۶) از زمان ساخت اولین شهر ها در ایران، یکی از مکان های مهم شهر، بوده است. (۵/۰ نمره)

الف) بازار ب) مسجد ج) میدان د) قلعه

۱۷) بازارها در قدیم چه نقشی داشتند؟ (۵/۱نمره)

۱۸) فروشنده ای که می خواهد کسب حلال داشته باشد باید از چه کارهایی پرهیز کند؟ (۵/۰نمره)

۱۹) در آمد حاصل از کم فروشی و گرانی فروشی حرام است. (۵/۰نمره) صحیح غلط

۲۰) اگر در آینده فروشنده کالا یا محصولی باشید، چه نکاتی را رعایت می کنید؟ با مشتری ها چگونه رفتار می کنید؟ (۵/۰نمره)

۲۱) هریک از واحدهای زیر بیانگر فعالیت در کدام بخش کشاورزی، صنعت یا خدمات است؟ (هر کدام ۲۵/۰نمره)

قالیشویی تولیدماکارونی پلیس +۱۰ خودروسازی
تولیدقارچ دامداری مبیل سازی خواربارفروشی
مهمانسرا آرایشگاه پرورش زنبورعسل بیمه
خشکشویی نساجی سیمان سازی مرغداری
کمپوت سازی اورژانس

۲۲) کدام فعالیت نمایانگر به بخش صنعت است؟ (۵/۰نمره)

الف) دامداری ب) مرغداری ج) پرورش زنبورعسل د) نساجی

۲۳) کدام فعالیت نماگر بخش کشاورزی است؟ (۵/۰نمره)

الف) تولیدماکارونی ب) کمپوت سازی ج) مبیل سازی د) دامداری

درس هشتم

۱) مصرف کننده به چه کسی می گویند؟ (۵/۰نمره)


۲) چه کار هایی برای رعایت و احترام به حقوق مصرف کننده انجام می شود، آنها را نام ببرید؟ (۷۵/۰نمره)

۳) چرا برای تولیدیک کالا قوانین و مقرراتی وضع کرده اند؟ (نمره)

۴) در روی برچسب مشخصات کالا چه چیزهایی نوشته می شود؟ (نمره)

۵) استاندارد یعنی چه؟ (۵/۰نمره)

۶) این علامت نشانگر کدام موسسه است؟ و بیانگر چیست؟ (نمره)



- ۷) وظیفه مؤسسه استاندارد و تحقیقات صنعتی ایران چیست؟ (۱ نمره)
- ۸) بین دو کالای مشابه که یکی مهر استاندارد دارد و دیگری ندارد کدام را انتخاب می کنید؟ چرا؟ (۵/۰ نمره)
- ۹) مسئولیت های مابه عنوان مصرف کننده چیست؟ (۵/۰ نمره)
- ۱۰) مصرف یعنی چه؟ (۵/۰ نمره)
- ۱۱) مصرف گرائی چیست؟ (۱ نمره)
- ۱۲) مصرف گرایی چه آسیب های اخلاقی برای مردم ایجاد می کند؟ (۱ نمره)
- ۱۳) مصرف گرایی به اسراف می انجامد. (۵/۰ نمره) صحیح غلط
- ۱۴) این آیه قرآن به کدام موضوع اشاره دارد؟ (إِنَّ الْمُبْتَدِرِينَ كَانُوا إِخْوَانَ الشَّيَاطِينِ) (۵/۰ نمره)
- ۱۵) چرا باید تا حد امکان از مصرف نایلون و ظروف یک بار مصرف پلاستیکی خودداری کرد؟ (۱ نمره)
- ۱۶) ما چگونه می توانیم به بازیافت زباله کمک کنیم؟ (۱ نمره)
- ۱۷) این علامت که بر روی برچسب بسته بندی برخی کالاها وجود دارد، نشانه چیست؟ (۵/۰ نمره)



درس نهم

- ۱) هر مکان دارای چند ویژگی است؟ مثال بزنید. (۱ نمره)
- ۲) ویژگی های طبیعی و انسانی رامشخص کنید؟ (هر کدام ۲۵/۰ نمره)
- موقعیت جغرافیایی نوع آب و هوا ناهمواریها رودها
- پوشش گیاهی زندگی جانوری تعداد جمعیت سواد
- فعالیت های اقتصادی زبان آثار تاریخی



۳) کدام مورد مربوط به ویژگی های انسانی است؟ (۵/۰ نمره)

الف) موقعیت جغرافیایی ب) نوع آب و هوا ج) ناهمواریها د) تعداد جمعیت

۴) کدام مورد مربوط به ویژگی های طبیعی است؟ (۵/۰ نمره)

الف) تعداد جمعیت ب) فعالیت های اقتصادی ج) آثار تاریخی د) پوشش گیاهی

۵) برای شناخت یک مکان، چگونه پرسش های جغرافیایی مطرح می کنیم؟ (۱ نمره)

۶) چه وسایلی به شناخت محیط زندگی ما کمک می کند؟ (۲۵/۱ نمره)

۷) چرانشه، وسیله مهمی در جغرافیا است؟ (۱ نمره)

۸) انواع نقشه کدام است و چگونه می توان از نقشه ها استفاده کرد؟ (۵/۱ نمره)

۹) نقشه را تعریف کنید؟ (۵/۰ نمره)

۱۰) محل دقیق پدید ههای طبیعی مانند کوه، رود، جنگل و پدیده های انسانی مثل راهها، پل ها، سدها و ... را نشان می دهند. (۵/۰ نمره)

الف) نقشه ب) کره جغرافیایی ج) عکس ها د) کتاب و فرهنگ نامه ها

۱۱) منظور از مقیاس خطی چیست؟ (۱ نمره)

۱۲) انواع عکس های جغرافیایی کدامند؟ هر یک را توضیح دهید؟ (۵/۱ نمره)

۱۳) عکس هایی که بادوربین از مناظر طبیعی، شهرها، خانه ها و فعالیت های انسانی گرفته می شود، چه نوع عکسهایی هستند؟ (۵/۰ نمره)

الف) عکس هایی معمولی ب) عکس های هوایی ج) عکس های ماهواره ای د) عکس های اینترنتی

۱۴) از کدام عکس ها برای تهیه نقشه های جغرافیایی استفاده می شود؟ (۵/۰ نمره)

الف) عکس هایی معمولی ب) عکس های هوایی ج) عکس های ماهواره ای د) عکس های اینترنتی

۱۵) این نوع از عکس ها بادوربین هایی که از هواپیما نصب می شود، گرفته می شوند؟ (۵/۰ نمره)

الف) عکس هایی معمولی ب) عکس های هوایی ج) عکس های ماهواره ای د) عکس های اینترنتی

۱۶) کدام عکس هاتوسط ماهواره ها تهیه و به زمین فرستاده می شود. (۵/۰ نمره)

الف) عکس هایی معمولی ب) عکس های هوایی ج) عکس های ماهواره ای د) عکس های اینترنتی

۱۷) عکس های با دوربین از مناظر طبیعی، شهرها، خانه ها و فعالیت های انسانی گرفته می شود. (۵/۰نمره)

۱۸) از عکس های برای تهیه نقشه های جغرافیایی استفاده می شوند. (۵/۰نمره)

۱۹) کره ی جغرافیای را تعریف کنید؟ (۵/۰نمره)

۲۰) با مطالعه کدام وسایل می توانیم با مکان های مختلف و شیوه های زندگی مردم در این مکان آشنا شویم؟ (۵/۰نمره)

الف) نقشه ب) عکس ج) کتاب ها و فرهنگ نامه ها د) کره جغرافیایی

درس دهم

۱) به چه دلیلی کشور را به استان های مختلفی تقسیم کرده اند؟ (۵/۰نمره)

۲) استان به وسیله اداره می شود. (۵/۰نمره)

الف) استاندار ب) فرماندار ج) بخشدار د) شهردار

۳) هر استان به چند تقسیم می شود. (۵/۰نمره)

الف) شهرستان ب) شهر ج) روستا د) بخش

۴) در هر شهرستان تعدادی شهر و روستا وجود دارد. (۵/۰نمره) صحیح غلط

۵) در هر شهر تعدادی شهرستان و روستا وجود دارد. (۵/۰نمره) صحیح غلط

۶) شهرداری چگونه موسسه ای است؟ (۵/۰نمره)

۷) شهر به وسیله چه کسی اداره می شوند؟ (۵/۰نمره)

۸) چهارمورد از مهم ترین خدمات شهرداری را نام ببرید؟ (۱نمره)

۹) اگر افراد بخواهند ساختمانی برای محل سکونت یا کسب و کار خود بسازند باید از پروانه ساختمانی بگیرند. (۵/۰نمره)

۱۰) روستاها چگونه اداره می شوند؟ (۱نمره)

۱۱) نواحی مرتفع و بلندایران را نام ببرید؟ (۱نمره)

۱۲) کوههای در شمال غربی ایران قرار گرفته اند. (۵/۰نمره)

الف) آذربایجان ب) خراسان ج) البرز د) زاگرس

۱۳) قله های آتشفشانی کوه های آذربایجان کدام اند؟ (۵/۰نمره)

۱۴) رشته کوه در شمال ایران واقع است و مانند دیواری دریای خزر را از قسمت های داخلی کشور جدا می کند. (۵/۰نمره)

الف) آذربایجان ب) خراسان ج) البرز د) زاگرس

۱۵) قله های مهم رشته کوه البرز را نام ببرید؟ (۷۵/۰نمره)

۱۶) کوههای در شمال شرقی ایران قرار دارد. (۵/۰نمره)

الف) آذربایجان ب) خراسان ج) البرز د) زاگرس

۱۷) دامنه شمالی و جنوبی رشته کوه البرز را نام ببرید؟ (۵/۱نمره)

۱۸) رشته کوه در غرب ایران کشیده شده است و جهت آن شمال غربی جنوب شرقی است. (۵/۰نمره)

الف) آذربایجان ب) خراسان ج) البرز د) زاگرس

۱۹) قله های مهم رشته کوه زاگرس را نام ببرید؟ (۷۵/۰نمره)

۲۰) قله های مهم نواحی مرکزی و جنوب شرقی ایران را نام ببرید؟ (۱نمره)

۲۱) نواحی پست و هموار ایران شامل و است. (۵/۰نمره)

۲۲) نواحی پست و هموار ایران شامل چه چیزهایی است؟ (۵/۰نمره)

۲۳) دو دشت وسیع ایران کدام اند؟ (۵/۰نمره)

۲۴) چرادشتهای حاصلخیزند؟ (۵/۰نمره)

۲۵) کوهپایه به کجا گفته می شود؟ (۱نمره)

۲۶) ایران در قاره آسیا واقع شده است. (۵/۰نمره)

الف) جنوب غربی ب) جنوب شرقی ج) جنوب د) غرب

۲۷) ایران در جنوب غربی قاره واقع شده است. (۵/۰نمره)

الف) آسیا ب) آفریقا ج) اروپا د) آمریکا

درس یازدهم

۱) زیستگاه (زیست بوم) را تعریف کنید؟ (نمره)

۲) چرا در ایران زیستگاه های گوناگونی بوجود آمده است؟ (۵/۰ نمره)

۳) مهمترین عناصر آب و هوا، و است. (نمره)

۴) مهمترین عناصر آب و هوا، چیست؟ (نمره)

۵) چگونه می توان آب و هوای یک مکان را تعیین کرد؟ (۵/۰ نمره)

۶) میزان دما و بارش را به صورت نمودار نشان می دهیم. (۵/۰ نمره) غلط صحیح

۷) میزان دمای هوای یک ناحیه را با نمودار و با رنگ نشان می دهند. (۵/۰ نمره)

الف) خطی - قرمز ب) خطی - آبی ج) ستونی - آبی د) ستونی - قرمز

۸) میزان بارش یک ناحیه را با نمودار و به رنگ نشان می دهند. (۵/۰ نمره)

الف) خطی - قرمز ب) خطی - آبی ج) ستونی - آبی د) ستونی - قرمز

۹) میزان دمای هوای یک ناحیه را با کدام نمودار و با چه رنگی نشان می دهند؟ (۵/۰ نمره)

۱۰) میزان بارش یک ناحیه را با کدام نمودار و به چه رنگی نشان می دهند؟ (۵/۰ نمره)

۱۱) به طور کلی ایران را می توان به چهار ناحیه آب و هوایی تقسیم نمود. (۵/۰ نمره) غلط صحیح

۱۲) چهار ناحیه آب و هوایی ایران را نام ببرید؟ (نمره)

۱۳) ناحیه معتدل و مرطوب خزری در کدام مناطق از کشور مادیده می شود؟ (۵/۰ نمره)

۱۴) ویژگی های ناحیه معتدل و مرطوب خزری را بنویسید؟ (۵/۰ نمره)

۱۵) کدام ناحیه آب و هوایی ایران در تمام ماه های سال بارندگی دارد؟ (۵/۰ نمره)

الف) ناحیه معتدل و مرطوب خزری ب) ناحیه معتدل و نیمه خشک کوهستانی

ج) ناحیه گرم و خشک داخلی د) ناحیه گرم و شرجی سواحل جنوب

۱۶) کدام ناحیه آب و هوایی ایران تابستان ها و زمستان ها ی معتدل دارد؟ (۵/۰ نمره)

الف) ناحیه معتدل و مرطوب خزری ب) ناحیه معتدل و نیمه خشک کوهستانی

(ج) ناحیه گرم و خشک داخلی (د) ناحیه گرم و شرجی سواحل جنوب

(۱۷) کدام ناحیه، مرطوبترین ناحیه آب و هوایی ایران به شمار می آید؟ (۵/۰ نمره)

(الف) ناحیه معتدل و مرطوب خزری (ب) ناحیه معتدل و نیمه خشک کوهستانی

(ج) ناحیه گرم و خشک داخلی (د) ناحیه گرم و شرجی سواحل جنوب

(۱۸) میزان بارندگی از غرب به شرق ناحیه معتدل و مرطوب خزری کاهش می یابد. (۵/۰ نمره)

صحيح غلط

(۱۹) ناحیه معتدل و نیمه خشک کوهستانی، شامل کدام مناطق از کشور است؟ (۵/۰ نمره)

(۲۰) ویژگی های ناحیه معتدل و نیمه خشک کوهستانی را بنویسید؟ (۵/۱ نمره)

(۲۱) کدام ناحیه آب و هوایی ایران دارای زمستان های سرد و تابستانهای معتدل است؟ (۵/۰ نمره)

(الف) ناحیه معتدل و مرطوب خزری (ب) ناحیه معتدل و نیمه خشک کوهستانی

(ج) ناحیه گرم و خشک داخلی (د) ناحیه گرم و شرجی سواحل جنوب

(۲۲) کدام ناحیه آب و هوایی ایران، تقریباً ۹ ماه از سال باران دارد؟ (۵/۰ نمره)

(الف) ناحیه معتدل و مرطوب خزری (ب) ناحیه معتدل و نیمه خشک کوهستانی

(ج) ناحیه گرم و خشک داخلی (د) ناحیه گرم و شرجی سواحل جنوب

(۲۳) ناحیه گرم و خشک داخلی، شامل کدام نواحی از کشور است؟ (۵/۰ نمره)

(۲۴) کدام ناحیه آب و هوایی ایران دارای تابستانهای گرم و خشک است؟ (۵/۰ نمره)

(الف) ناحیه معتدل و مرطوب خزری (ب) ناحیه معتدل و نیمه خشک کوهستانی

(ج) ناحیه گرم و خشک داخلی (د) ناحیه گرم و شرجی سواحل جنوب

(۲۵) علت خشکی ناحیه گرم و خشک داخلی چیست؟ (۵/۰ نمره)

(۲۶) ویژگی های ناحیه گرم و خشک داخلی را بنویسید؟ (۵/۱ نمره)

(۲۷) ناحیه گرم و خشک داخلی، شامل کدام نواحی از کشور است؟ (۵/۰ نمره)

۲۸) کدام ناحیه آب وهوایی ایران دارای تابستانهای بسیار گرم و زمستانهای ملایم است؟ (۵/۰ نمره)

الف) ناحیه معتدل و مرطوب خزری ب) ناحیه معتدل و نیمه خشک کوهستانی

ج) ناحیه گرم و خشک داخلی د) ناحیه گرم و شرجی سواحل جنوب

۲۹) چرا در ناحیه ساحلی جنوب ایران حالت شرجی به وجود می آید؟ (۵/۰ نمره)

۳۰) گزینه های مرتبط را به یکدیگر وصل کنید؟ (یک مورد اضافی است) (۵/۱ نمره)

ناحیه معتدل و مرطوب خزری جنگلهای انبوه

ناحیه معتدل و نیمه خشک کوهستانی جنگلهای و مراتعی سرسبز در ارتفاعات

ناحیه گرم و خشک داخلی درختان تاغ و گز و بوته های خاردار

ناحیه گرم و شرجی سواحل جنوب

۳۱) در کدام نواحی آب وهوایی ایران کشاورزان می توانند کشت دیم داشته باشند؟ چرا؟ (۵/۱ نمره)

۳۲) در کدام نواحی آب وهوایی ایران کشاورزان نمی توانند کشت دیم داشته باشند؟ چرا؟ (۵/۱ نمره)

۳۳) ناحیه شمال و جنوب ایران هر دو در کنار دریا قرار دارند، اما در ناحیه شمال بارندگی بسیار زیادی وجود دارد، علت بارندگی زیاد این ناحیه چیست؟ (۱ نمره)

۳۴) از هر ناحیه آب وهوایی ایران دو شهر را نام ببرید؟ (۲ نمره)

درس دوازدهم

۱) سه نمونه از گونه های گیاهی و جانوری که مخصوص سرزمین ایران هستند و در جاهای دیگر جهان یافت نمی شوند را نام ببرید؟ (۷۵/۰ نمره)

۲) چه عاملی موجب از بین رفتن پوشش گیاهی و زندگی جانوری در ناحیه می شود؟ (۵/۱ نمره)

یا چرا زیستگاهها تخریب می شوند؟ (۵/۱ نمره)

۳) مهمترین عاملی که موجب شده است برخی از گونه ها برای همیشه از بین بروند یا برخی از گونه ها در معرض خطر قرار بگیرند، چیست؟ (۵/۰ نمره) یا مهمترین عامل نابودی حیات وحش چیست؟ (۵/۰ نمره)

۴) یکی از چیزهایی که حیات زیستگاهها را تهدید می کند، است. (۵/۰ نمره)

الف) زباله ب) شکار ج) گازهای سمی د) آفت کش

۵) مهم ترین دلایل محافظت از زیستگاه ها چیست؟ (۲۵/۱ نمره)

۶) مهمترین وظیفه سازمان حفاظت از محیط زیست چیست؟ (۵/۰ نمره)

۷) یکی از مشاغل مهم در سازمان حفاظت از محیط زیست «محیط بانی» است. (۵/۰ نمره) صحیح غلط

۸) یکی از مشاغل مهم در سازمان حفاظت از محیط زیست «.....» است. (۵/۰ نمره)

۹) محیط بان ها چه مسئولیتی دارند؟ (۱ نمره)

۱۰) برای حفاظت از محیط زیست چه کارهایی رامی توان انجام داد؟ (چهارمورد) (۱ نمره)

۱۱) سازمان حفاظت محیط زیست، برخی از مناطق کشور را که در آنجا حفظ و تکثیر نسل جانوران یا گیاهان اهمیت خاصی دارد، به عنوان اعلام می کند. (۵/۰ نمره)

۱۲) منظور از منطقه حفاظت شده چیست؟ (۵/۰ نمره)

۱۳) سه مورد از مناطق حفاظت شده در ایران را نام ببرید؟ (۷۵/۰ نمره)

۱۴) در منطقه حفاظت شده، چه مقرراتی برای حفظ گیاهان و جانوران تعیین شده است؟ (۷۵/۰ نمره)

۱۵) از اصل ۵۰ قانون اساسی جمهوری اسلامی چه می فهمید؟ (۵/۰ نمره)

۱۶) روز دختکاری چه روزی است؟ (۵/۰ نمره)

الف) ۱۵ فروردین ب) ۱۵ اسفند ج) ۲۵ فروردین د) ۲۵ اسفند

درس سیزدهم

۱) طبق سرشماری سال ۱۳۹۰ کشور ما ایران میلیون نفر جمعیت دارد. (۵/۰ نمره)

الف) ۶۵ ب) ۷۰ ج) ۷۵ د) ۸۰

۲) ایران در بین کشورهای همسایه خود کشوری نسبتاً پر جمعیت است. (۵/۰ نمره) صحیح غلط

۳) ایران در بین کشورهای همسایه از نظر جمعیت در چه رتبه ای قرار دارد؟ (۵/۰ نمره)

۴) جمعیت چگونه افزایش می یابد؟ (۱ نمره) یا معنای رشد جمعیت چیست؟ (۱ نمره)

۵) اگر تعداد افرادی که متولد می شوند بیشتر از افرادی که می میرند باشد، جمعیت (۵/۰ نمره)

الف) افزایش می یابد ب) کاهش می یابد ج) متعادل می شود د) فرقی نمی کند

۶) جمعیت چگونه کاهش می یابد؟ (۵/۰ نمره)

۷) اگر تعداد افرادی که متولد می شوند کمتر از افرادی که می میرند باشد، جمعیت می یابد. (۵/۰ نمره)

الف) افزایش می یابد ب) کاهش می یابد ج) متعادل می شود د) فرقی نمی کند

۸) منظور از رشد منفی جمعیت چیست؟ (۱ نمره)

۹) جمعیت را به چه گروه های سنی می توان تقسیم کرد؟ (۷۵/۰ نمره)

۱۰) وقتی رشد جمعیت منفی می شود کشور ها با چه مشکلاتی روبرو می شوند؟ (۱ نمره)

یا به نظر شما اگر در کشور ما زاد و ولد کم شود در آینده با چه مشکلاتی روبرو می شویم؟ (۱ نمره)

یا داشتن جمعیت جوان برای کشور ما چه مزایایی دارد؟ (۱ نمره)

۱۱) در کشور هایی که رشد جمعیت زیاد است کدام گروه سنی افزایش می یابد؟ (۵/۰ نمره)

۱۲) جدول گروه های سنی را کامل کنید؟ (۷۵/۰ نمره)

۳	۲	۱
بیشتر از ۶۵	سال ۲۵-۶۵	سال ۱-۲۵
.....

۱۳) در کشور ما «.....» مسئولیت سرشماری جمعیت را برعهده دارد. (۵/۰ نمره)

۱۴) در کشور ما مسئولیت سرشماری جمعیت برعهده کدام موسسه است؟ (۵/۰ نمره)

۱۵) وظیفه مرکز آمار ایران چیست؟ (۵/۰ نمره)

۱۶) معنای تراکم جمعیت چیست؟ (۵/۰ نمره)

۱۷) تراکم جمعیت یک منطقه را چگونه محاسبه می کنند؟ (۵/۰ نمره)

۱۸) تراکم جمعیت در کدام مکان بیشتر است؟ چرا؟ (۱ نمره)



۱۹) تراکم جمعیت کشور ما در سال ۱۳۹۰ معادل ۴۹ / ۱ نفر در کیلومتر مربع بوده است. این تراکم چگونه محاسبه شده است؟

۲۰) جمعیت کشور ما در سال ۱۳۹۰، ۷۵ میلیون نفر و مساحت کل کشور ۱/۶۴۸/۱۵۵ کیلومتر بوده تراکم جمعیت را حساب کنید؟

۲۱) تراکم جمعیت کشور ما در سال ۱۳۹۰ معادل نفر در کیلومتر مربع بوده است. (۵/۰نمره)

۴۹/۲(د)

۴۸/۲(ج)

۴۹/۱(ب)

۴۸/۱(الف)

۲۲) چه عواملی روی پراکندگی جمعیت ایران تأثیر می گذارد؟ (۲نمره) یا جمعیت ایران چگونه در کشور پراکنده شده است و این پراکندگی به چه عواملی بستگی دارد؟ (۲نمره)

۲۳) در کدام نواحی ایران جمعیت بسیار کمی زندگی می کنند؟ چرا؟ (۱نمره)

۲۴) پرجمعیت ترین و پرتراکم ترین ناحیه کشور ما منطقه شهری است. (۵/۰نمره)

۲۵) پرجمعیت ترین و پرتراکم ترین ناحیه کشور ما کجاست؟ (۵/۰نمره)

(ب) جلگه های کناره دریای خزر

(الف) منطقه شهری تهران

(د) کوهپایه های البرز و زاگرس

(ج) ناحیه خوزستان

۲۶) چرا پرجمعیت ترین و پرتراکم ترین ناحیه کشور ما منطقه شهری تهران است؟ (۱نمره)

۲۷) دومین ناحیه پر تراکم در کشور ما کجا است؟ (۵/۰نمره)

(ب) جلگه های کناره دریای خزر

(الف) منطقه شهری تهران

(د) کوهپایه های البرز و زاگرس

(ج) ناحیه خوزستان

۲۸) چرا جلگه های کناره دریای خزر دومین ناحیه پر تراکم در کشور ما است؟ (۷۵/۰نمره)

۲۹) علت زیادی جمعیت در ناحیه خوزستان چیست؟ (۵/۰نمره)

۳۰) علت زیادی جمعیت در کوهپایه های البرز و زاگرس و دشت های حاصلخیز چیست؟ (۵/۰نمره)

۳۱) عوامل مختلف پراکندگی جمعیت و ناحیه های مربوطه را با خطی به یکدیگر وصل کنید؟ (۲نمره)

جلگه های کناره دریای خزر

باران کافی و هوای معتدل

منطقه شهری تهران

سازمانهای مهم دولتی

دشت لوت و دشت کویر

آب و هوای گرم و خشک

ناحیه خوزستان

منابع نفت و گاز

کوهپایه های البرز و زاگرس

درس چهاردهم

۱) وقتی جمعیت یک ناحیه زیاد می شود مصرف منابع بیشتری شود. (۵/۰ نمره) صحیح غلط

۲) برای جلوگیری از کاهش یا به خطر افتادن منابع چه کار باید کرد؟ (۵/۰ نمره)

۳) به طور کلی آب مورد نیاز انسان از کجاها تامین می شود؟ (۱ نمره)

۴) کشور ما ایران دارای منابع آب محدود است. (۵/۰ نمره) صحیح غلط

۵) چرا کشور ما با کمبود آب مواجه است؟ (۵/۰ نمره)

۶) میانگین بارش سالانه کشور ما چند میلی متر است؟ (۵/۰ نمره)

۷) میانگین بارش سالانه کشور ما میلی متر است. (۵/۰ نمره)

الف) ۱۳۰ ب) ۲۳۰ ج) ۲۳۵ د) ۲۲۵

۸) یکی از منابع مهم تأمین آب شهرنشینان و روستاییان، هستند. (۵/۰ نمره)

۹) یکی از منابع مهم تأمین آب شهرنشینان و روستاییان، کجاست؟ (۵/۰ نمره)

الف) رود ب) چاه ج) قنات د) دریاچه

۱۰) اغلب رود های دائمی و پرآب ایران از کجا سرچشمه می گیرند؟ (۵/۰ نمره)

۱۱) چرا رود های پرآب ایران قابل کشتی رانی نیستند؟ (۵/۰ نمره)

۱۲) رود های ایران را از نظر جهت جریان آب یعنی جایی که به آن می ریزند می توان به چند حوزه آبریز تقسیم کرد؟ (۷۵/۰ نمره)

۱۳) چرا با آنکه کشور ایران از شمال و جنوب به دریا های بزرگی راه دارد با مشکل کمبود آب مواجه است؟ (۵/۰ نمره)

۱۴) میزان مجاز مصرف آب برای یک نفر در شبانه روز چند لیتر است؟ (۵/۰ نمره)

الف) ۱۵۰ ب) ۲۰۰ ج) ۲۵۰ د) ۳۰۰

۱۵) متوسط مصرف آب برای یک نفر در شبانه روز در ایران چقدر است؟ (۵/۰ نمره)

۱۶) وظیفه ما برای مصرف صحیح آب چیست؟ (۵/۰ نمره)

۱۷) چرا باید از خاک به عنوان یک منبع مهم باید حفاظت کرد؟ (۱ نمره)

۱۸) خاک چگونه تشکیل می شود؟ (۱نمره)

۱۹) چرا خاک برخی مناطق مرکزی، داخلی یا جنوبی کشور برای کشاورزی مناسب نیست؟ (۵/۰نمره)

۲۰) چه عواملی موجب از بین رفتن خاک می شود؟(چهارمورد) (۱نمره)

۲۱) در کشور ما سازمان کدام سازمان مسولیت حفاظت از خاک را به عهده دارد؟ (۵/۰نمره)

درس پانزدهم

۱) ایران از نظر داشتن مکان های زیبای طبیعی مقام رادردنیادارد. (۵/۰نمره)

الف) چهارم ب) پنجم ج) ششم د) هفتم

۲) ایران از نظر داشتن مکان های تاریخی و فرهنگی مقام رادردنیادارد.

الف) هفتم ب) هشتم ج) نهم د) دهم

۳) ایران از نظر داشتن مکان های زیبای طبیعی مقام واز نظر داشتن مکان های تاریخی و فرهنگی مقام رادردنیادارد.

الف) پنجم- دهم ب) دهم- پنجم ج) دهم- ششم د) ششم- دهم

۴) گردشگر کیست؟ (۱نمره)

۵) انواع گردشگری رانام ببرید؟ (۱نمره)

۶) چه عواملی موجب شده که سفر کردن و گردشگری افزایش یابد؟(۱نمره)

۷) اهمیت گردشگری را توضیح دهید؟(۵/۱نمره)

۸) یکی از وسایل مهمی که باید برای گردشگری یا انجام هر نوع سفر از آن استفاده کرد، است. (۵/۰نمره)

۹) نقشه هادر گردشگری چه کمکی به مامی کنند؟ (۱نمره)

۱۰) از روی نقشه راه هاچه چیزهایی می توان فهمید؟ (۱نمره)

درس شانزدهم

۱) سفرهای زیارتی به چه منظوری صورت می گیرد؟ (۵/۰ نمره)

۲) کدام مساجد ایرانی از نظر معماری زیبایی اسلامی نیز مورد توجه گردشگران هستند؟ (۱ نمره)

۳) مهم ترین قطب زیارتی کشور است. (۵/۰ نمره)

۴) مهم ترین قطب زیارتی کشور کجاست؟ (۵/۰ نمره)

الف) مشهد ب) قم ج) اصفهان د) شیراز

۵) امام رضا(ع) در کجاست و در چند سالگی به امامت رسید؟ (۵/۰ نمره)

۶) از القاب امام رضا(ع) چند مورد را نام ببرید؟ (۱ نمره)

۷) هدف مامون از انتخاب امام رضا(ع) به ولیعهدی چه بود؟ (۷۵/۰ نمره)

۸) چرا مامون دستور داد تا امام علیه السلام را مسموم کنند و به شهادت برسانند؟ (۱ نمره)

۹) حرم مطهر امام رضا (ع) و مجموعه آستان قدس رضوی از چه لحاظ اهمیت فراوانی دارد؟ (۱ نمره)

۱۰) در صحن های مطهر امام رضا (ع) آرامگاه کدام شخصیت های بزرگ علمی مذهبی است؟ (۵/۰ نمره)

۱۱) مجموعه آستان قدس رضوی دارای چه بخش هایی است؟ (۵/۱ نمره)

۱۲) در موزه مجموعه آستان قدس رضوی چه اشیایی نگهداری می شوند؟ (۱ نمره)

۱۳) جاذبه های تاریخی - فرهنگی مهم گردشگری کشور ما کدامند؟ (۱ نمره)

۱۴) هدف از گردشگری طبیعت گردی چیست؟ (۱ نمره)

۱۵) جاذبه های طبیعی مهم گردشگری کشور ما کدامند؟ (۱ نمره)

۱۶) یکی از بنادر مهم و مراکز گردشگری در سواحل دریای عمان، بندر است. (۵/۰ نمره)

الف) چابهار ب) کیش ج) قشم د) عباس

۱۷) به سواحل خلیج فارس و دریای عمان و دریای خزر در چه فصولی سفر می کنند؟ (۵/۰ نمره)

۱۸) امروزه در کشورها برای جلوگیری آسیب رساندن گردشگران محیط زیست چه برنامه ریزی هایی شده است. (۵/۰ نمره)

۱۹) هدف از ایجاد پارک های ملی چیست؟ (۵/۱ نمره)

درس هفدهم

۱) چگونه می توان پی برد که ایران جایگاه تمدن های بزرگ بوده است؟ (نمره)

۲) میراث یعنی چه؟ (نمره)

۳) میراث فرهنگی چیست؟ (نمره)

۴) میراث فرهنگی شامل چه چیزهایی است؟ (نمره)

۵) چرا می گویند باید از میراث فرهنگی حفاظت کنیم؟ (نمره)

۶) علم تاریخ چیست؟ (نمره)

۷) مورخ به چه کسی می گویند؟ (نمره)

۸) مورخان در مطالعات خود از چه منابعی استفاده می کنند؟ (نمره) یا

چه کسانی گذشته را مطالعه می کنند؟ چگونه؟ (نمره)

۹) مورخان در کار خود از دانش «.....» نیز استفاده می کنند. (نمره)

۱۰) کارباستان شناسان چیست؟ (نمره)

۱۱) باستان شناسان موقعی که خاک ها را لایه برداری می کنند، به هر شیئی که برخورد می کنند، همان موقع از آن عکس

وفیلم تهیه می کنند. چرا؟ (نمره)

۱۲) مورخان معمولاً کار خودشان را چگونه آغاز می کنند؟ (نمره)

۱۳) علت به وجود آمدن موزه ها چیست؟ (نمره)

۱۴) چرا آثار تاریخی را در موزه ها نگهداری می کنند؟ (نمره) یا

موزه ها چه کاربردهایی دارند؟ (نمره)

۱۵) وظیفه سازمان میراث فرهنگی چیست؟ (نمره)

۱۶) در کشور ما، یکی از مهم ترین سازمان های که مسئولیت حفاظت و نگهداری از میراث فرهنگی را به عهده دارد،

«.....» است. (نمره)

غلط

صحیح (نمره)

- ۱) علت نامگذاری موزه ایران باستان چیست؟ (۵/۰ نمره)
- ۲) مهمترین رویداد تاریخی کشور ما چیست؟ (۵/۰ نمره)
- ۳) چرا تاریخ ایران به دو دوره زمانی تقسیم شده است؟ (۵/۰ نمره)
- ۴) تاریخ ایران به چند دوره زمانی تقسیم شده است؟ (۵/۰ نمره)
- ۵) تاریخ قبل از اسلام که به آن دوره ایران می گویند. (۵/۰ نمره)
- ۶) تاریخ دوره اسلامی چگونه آغاز می شود؟ (۵/۰ نمره)
- ۷) انسان های اولیه چگونه زندگی می کردند؟ (۵/۰ نمره)
- ۸) ابزار های انسانهای غارنشین در این دوره از بود. (۵/۰ نمره)
- ۹) چرا غارنشینان نقش هایی بر روی دیوار غارها یا کوه های اطراف خود کنده بودند؟ (۵/۰ نمره)
- ۱۰) کشاورزی چه عاملی موجب شد که انسان هایکجانشین شدند؟ (۵/۰ نمره)
- ۱۱) موجب شد که انسان هایکجانشین شدند. (۵/۰ نمره)
- ۱۲) اولین روستاها در کجاها پدید آمدند؟ (۵/۰ نمره)
- ۱۳) در کجای ایران ظروف و وسایلی از زندگی مردم از دوران باستان پیدا شده است؟ (۵/۰ نمره)
- ۱۴) تمدن چه ویژگی هایی دارد؟ (۵/۱ نمره)
- ۱۵) در گذشته های دور تمدن های بزرگی در ایران پدید آمدند، چهار مورد از این تمدن ها را نام ببرید؟ (۱ نمره)
- ۱۶) شهر سوخته در کجاست؟ چرا به آن چنین نامی داده اند؟ (۱ نمره)
- ۱۷) مهمترین اثر به جای مانده از تمدن ایلام چه نام دارد؟ (۵/۰ نمره)
- ۱۸) چرا می گوئیم ایلام یک تمدن است؟ چهار دلیل بیاورید؟ (۱ نمره)
- ۱۹) معبد که شهرت جهانی دارد، در نزدیکی شوش است. (۵/۰ نمره)
- ۲۰) تمدن جیرفت در کجاست و چه وسایلی در آن کشف شده است؟ (۱ نمره)
- ۲۱) قدیمی ترین خط دنیا مربوط به کدام تمدن است؟ (۵/۰ نمره)

۲۲) در پدید آمدن تمدن ایلام کدام رود نقش داشته است؟ (۵/۰ نمره)

۲۳) در پدید آمدن تمدن جیرفت کدام رود نقش داشته است؟ (۵/۰ نمره)

۲۴) هم زمان با تمدن ایلام در ایران، در بین النهرین و کنار رود نیل چه تمدن هایی شکل گرفتند؟ (انمره)

۲۵) دوتن از پیامبران بزرگ الهی که در بین النهرین می زیستند، رانام ببرید؟ (۵/۰ نمره)

۲۶) کدام پیامبران بزرگ الهی برای مدت زیادی در مصر بسر می بردند؟ (۵/۰ نمره)

۲۷) کدام پیامبران الهی در زمان حکمرانی امپراتوری روم در فلسطین متولد شدند؟ (۵/۰ نمره)

الف) حضرت نوح (ع) ب) حضرت ابراهیم (ع) ج) حضرت یوسف (ع) د) حضرت عیسی (ع)

۲۸) حضرت نوح (ع) برای مدت زیادی در مصر بسر می بردند. (۵/۰ نمره) صحیح غلط

۲۹) حضرت موسی (ع) از پیامبران بزرگ الهی بود که در بین النهرین می زیست. (۵/۰ نمره) صحیح غلط

درس نوزدهم

۱) سه گروه بزرگ آریایی هارنام برده و بنویسید هر کدام از این قوم هادر کدام بخش ایران ساکن شدند؟ (۷۵/۰ نمره)

۲) چگونه شکل گیری حکومت ماد را توضیح دهید؟ (انمره)

۳) قبایل ماد چه کسی را به عنوان فرمانروا انتخاب کردند، چرا؟ (انمره)

۴) اولین حکومت قدرتمند در ایران به دست پایه گذاری شد. (۵/۰ نمره)

الف) مادها ب) هخامنشیان ج) اشکانیان د) ساسانیان

۵) از نوادگان هخامنش بنیا نگذار سلسله هخامنشیان است. (۵/۰ نمره)

۶) بنیا نگذار سلسله هخامنشیان چه کسی است؟ (۵/۰ نمره)

الف) هخامنش ب) کوروش ج) داریوش د) دیاکو

۷) کوروش قلمرو ایران تا کجا گسترش داد؟ (۵/۰ نمره)

۸) رفتار کوروش با سرزمین هایی که فتح شده چگونه بود؟ (۵/۰ نمره)

۹) بعد از کوروش، پادشاهان دیگری از هخامنشیان به سلطنت رسیدند که معروفترین آنها « » است.

(۵/۰ نمره)

۱۰) چرا داریوش دستور داد تا نقش بر روی کوه بیستون حجاری کنند؟ (۵/۰ نمره)

۱۱) چرا از حکومت هخامنشی به عنوان نخستین امپراتوری جهانی می توان یاد کرد؟ (۵/۰ نمره)

۱۲) به نظر شما چرا شاهان دستور می دادند چنین نقش برجسته هایی روی سنگ هاکنده شود؟ (۵/۰ نمره)

۱۳) حکومت هخامنشیان بدست چه کسی از بین رفت؟ (۵/۰ نمره)

۱۴) علت حمله اسکندر به ایران چه بود؟ (۵/۰ نمره)

۱۵) اسکندر کدام نواحی را فتح کرد؟ (۵/۰ نمره)

۱۶) سلسله سلوکیان را چه کسی تاسیس کرد؟ (۵/۰ نمره)

۱۷) چرا مردم ایران سلوکیان را نمی پذیرفتند و با آنها مخالفت می کردند؟ (۵/۰ نمره)

۱۸) اشکانیان چگونه توانستند سلوکیان را از ایران بیرون کنند؟ (۵/۰ نمره)

۱۹) موسس سلسله اشکانیان چه نام دارد؟ (۵/۰ نمره)

۲۰) در زمان فرمانروایی حکومت اشکانی به امپراتوری قدرتمند تبدیل شد. (۵/۰ نمره)

۲۱) در زمان فرمانروایی کدام پادشاه، حکومت اشکانی به امپراتوری قدرتمند تبدیل شد؟ (۵/۰ نمره)

الف) اشک ب) مهرداد دوم ج) سلوکوس د) اردشیر

۲۲) آخرین حکومت ایران باستان کدام حکومت بود؟ (۵/۰ نمره)

۲۳) آخرین حکومت پیش از ورود اسلام به ایران سلسله است. (۵/۰ نمره)

۲۴) موسس سلسله ساسانیان چه کسی بود؟ (۵/۰ نمره)

۲۵) یکی از مهم ترین پادشاهان ساسانی، است. (۵/۰ نمره)

الف) شاپور اول ب) اردشیر بابکان ج) یزدگرد سوم د) مهرداد دوم

۲۶) در زمان کدام پادشاه ساسانی وسعت قلمرو ایران بسیار زیاد شد و او توانست امپراتور روم (والریانوس) را شکست دهد؟

(۵/۰ نمره)

الف) شاپور اول ب) اردشیر بابکان ج) یزدگرد سوم د) مهرداد دوم

۲۷) سلسله ساسانیان چگونه به پایان رسید؟ (۵/۰ نمره)

۲۸) آخرین پادشاه ساسانی چه نام داشت؟ (۵/۰ نمره)

(د) مهرداد دوم

(ج) یزدگرد سوم

(ب) اردشیر بابکان

(الف) شاپور اول

(۲۹) مبدأ تاریخ ما مسلمانان چیست؟ (۵/۰ نمره)

(۳۰) مورخان برای تعیین زمان رویدادهای پیش از اسلام از چه تقویمی استفاده می کنند؟ (۵/۰ نمره)

(۳۱) مبدأ تقویم میلادی چیست، و با چه حرفی نشان می دهند؟ (۱ نمره)

(۳۲) برای تعیین زمان رویدادهای قبل از میلاد حضرت مسیح (ع) چه کاری کنند؟ (۵/۰ نمره)

(۳۳) بیشترین مدت زمان حکومت در ایران دوره باستان مربوط به کدام سلسله است؟ (۵/۰ نمره)

(۳۴) از تأسیس حکومت اشکانی در ۲۴۸ ق.م چند سال می گذرد؟ (۵/۰ نمره)

(۳۵) شاپور ساسانی در سال (۲۶۰ م) والرین امپراتور روم را شکست داد و به اسارت گرفت. محاسبه کنید چند سال پیش این

رویداد به وقوع پیوسته است؟ (۵/۰ نمره)

(۳۶) ما اکنون در سال ۲۰۱۳ میلادی به سر می بریم. محاسبه کنید از هریک از وقایع زیر چند سال گذشته است؟ (۵/۱ نمره)

آغاز حکومت اشکانیان (۲۴۸ ق.م) یعنی..... سال پیش

پایان حکومت ساسانیان (۶۵۱ م) یعنی..... سال پیش

پیروزی شاپور ساسانی بر والرین امپراتور روم (۲۶۰ م) یعنی..... سال پیش

درس بیستم

(۱) در ایران باستان شیوه حکومت بود. (۵/۰ نمره)

(۲) چهار مورد از ویژگی های حکومت در ایران باستان را بنویسید؟ (۱ نمره)

(۳) چرا در دوره اشکانیان، قدرت و نفوذ پادشاهان مانند سایر شاهان ایران باستان نبود؟ (۵/۰ نمره)

(۴) چرا برای اداره امور کشور، شغل ها و مقامهای مختلفی به وجود آمده بود؟ (۵/۰ نمره)

(۵) مقام های مهم حکومتی در ایران باستان را نام ببرید؟ (۱ نمره)

(۶) وزیر بزرگ در ایران باستان چه وظیفه ای داشت؟ (۵/۰ نمره)

(۷) رئیس دربار یا تشریفات در ایران باستان چه وظیفه ای داشت؟ (۱ نمره)

(۸) منشیان و دبیران در ایران باستان چه وظایفی داشتند؟ (۵/۰ نمره)

۹) مأموران مخفی شاه در ایران باستان چه وظایفی داشتند؟ (۱نمره)

۱۰) بعضی از منشیان و دبیران به چند زبان و خط آشنایی داشتند. چرا؟ (۵/۰نمره)

۱۱) ، برای اولین بار تقسیم سرزمین به بخش های مختلف را ابداع کردند. (۵/۰نمره)

۱۲) داریوش برای اداره بهتر کشور چه اقداماتی انجام داد؟ (۱نمره)

۱۳) پایتخت ایران در زمان حکومت ماد کدام شهر بود؟ (۵/۰نمره)

۱۴) پایتخت ایران در زمان حکومت هخامنشیان کدام شهرها بود؟ (۱نمره)

۱۵) پایتخت ایران در زمان حکومت اشکانیان کدام شهرها بود؟ (۵/۰نمره)

۱۶) پایتخت ایران در زمان حکومت ساسانیان کدام شهر بود؟ (۵/۰نمره)

۱۷) کدام شهر جزء پایتخت های هخامنشیان نبود؟ (۵/۰نمره)

الف) شوش ب) همدان ج) تخت جمشید د) تیسفون

۱۸) پایتخت ساسانیان کدام شهر بود؟ (۵/۰نمره)

الف) شوش ب) همدان ج) تخت جمشید د) تیسفون

۱۹) چرا سرزمین ایران همواره از شرق و غرب در معرض هجوم دشمنان بود؟ (۵/۰نمره)

۲۰) چرا در آن زمان جنگ های بزرگی بین حکومت ها در می گرفت؟ هدف از لشکرکشی ها چه بود؟ به نظر شما هدف

از جنگها و لشکرکشی ها در جهان امروز چیست؟ (۱نمره)

۲۱) لباس و تجهیزات سواره نظام و پیاده نظام چه فرقی داشت؟ (۱نمره)

۲۲) جنگ یا عملیات پارتیزانی چه نوع جنگی است و چرا به این نام مشهور است؟ (۱نمره)

۲۳) ایرانیان باستان از چه ابزار و فنون نظامی استفاده می کردند و چه ابتکاراتی از خودشان نشان می دادند؟ (۵/۱نمره)

۲۴) به نظر شما کدامیک از ابتکارات نظامی ایران باستان جالب تر است؟ چرا؟ (۵/۰نمره)

درس بیست و یک

(۱) خانواده در ایران باستان چه نقشی داشت؟ (۱نمره)

(۲) ازدواج در نزد ایرانیان چگونه امری بود؟ (۵/۰نمره)

(۳) پدر در ایران باستان چه نقشی داشت؟ (۵/۰نمره)

(۴) چرا ازدواج در ایران باستان به شکل خویشاوندی و درون گروهی بود؟ (۵/۰نمره)

(۵) خانواده امروز را با خانواده ایران باستان مقایسه کنید (چند شباهت و چند تفاوت بیان کنید). (۱نمره)

(۶) در ایران باستان تربیت و آموزش چگونه صورت می گرفت؟ (۵/۰نمره)

(۷) در کتاب اوستا، مردم رابه چه دسته هایی تقسیم شده بودند؟ (۵/۰نمره)

(۸) چرا به تدریج اختلاف طبقاتی در جامعه به وجود آمد و طبقات اجتماعی امتیازات و حقوق متفاوتی به دست آوردند؟ (۱نمره)

(۹) اختلافات طبقاتی در دوره به اوج رسید. (۵/۰نمره)

(۱۰) الف) هخامنشیان ب) سلوکیان ج) اشکانیان د) ساسانیان

(۱۰) مردم در زمان حکومت ساسانیان به چند دسته تقسیم می شدند؟ (۱نمره)

(۱۲) اشراف و بزرگان در زمان ساسانیان از چه حقوق و امتیازات زیادی برخوردار بودند؟ (۱نمره)

(۱۳) وضعیت کشاورزان در زمان ساسانیان چگونه بود؟ (۱نمره)

(۱۴) آيادر جامعه طبقاتی، رفتن از طبقه ای به طبقه ُ ممکن بود، در این رابطه توضیح دهید؟ (۱نمره)

(۱۵) در دوره ُ ایران باستان، زندگی شاهان و شاهزادگان چگونه بود؟ (۱نمره)

درس بیست و دو

(۱) مهمترین پیشه و وسیله ُ معیشت در ایران باستان بود. (۵/۰نمره)

(۲) مهمترین پیشه و وسیله ُ معیشت در ایران باستان چه بود؟ (۵/۰نمره)

(۳) مهم ترین محصول زراعی ایرانیان باستان بود. (۵/۰نمره)

الف) گندم ب) جو ج) پنبه د) گندم و جو

۴) مهم ترین محصول زراعی ایرانیان باستان چه بود؟ (۵/۰ نمره)

۵) صنعت درایران باستان چگونه بود؟ (۱ نمره)

۶) چهارشغل یا حرفه از دنیای امروز نام ببرید که در جهان باستان وجود نداشته است. بگویید چرا این حرفه هانمی توانستند درجامعه آن زمان وجود داشته باشند؟ (۱ نمره)

۷) چهار شغل یا حرفه از جهان باستان نام ببرید که در دنیای امروز هم وجود دارد. بگویید این حرفه ها چه تغییری نسبت به آن زمان داشته اند؟ (۱ نمره)

۸) به فرمان هخامنشی، «جاده شاهی» ساخته شد. (۵/۰ نمره)

۹) جاده شاهی به فرمان چه کسی ساخته شد؟ (۵/۰ نمره)

الف) کوروش ب) داریوش اول ج) اردشیر د) خشایارشا

۱۰) رفت و آمد بازرگانان از طریق جاده ابریشم علاوه بر تجارت و انتقال کالاها، چه پیامد های دیگری برای مردم کشور های آن زمان داشت؟ (۵/۰ نمره)

۱۱) چرا جاده ابریشم به این نام مشهور است؟ (۵/۰ نمره)

۱۲)..... ارزشمندترین و پرسودترین کالای تجاری درایران باستان بود. (۵/۰ نمره)

۱۳) ارزشمندترین و پرسودترین کالای تجاری درایران باستان چه بود؟ واز کدام کشوربه کجاهاصادرمی شد؟ (۵/۰ نمره)

۱۴) چرا ساسانیان مانع از ارتباط مستقیم تجاری میان چین و هند با روم اروپا می شدند و ازاین کار چه هدفی داشتند؟ (۵/۰ نمره)

۱۵) کدام کالاها درایران باستان صادر می شد؟ (۱ نمره)

بیست و سوم

۱) مردم ایران باستان چه باورها و عقایدی داشتند؟ (۱ نمره)

۲) پیامبر ایران باستان چه نام داشت ودرچه زمانی می زیست؟ (۵/۰ نمره)

۳) ، پیامبر ایران باستان که قبل از سلسله مادها می زیست. (۵/۰ نمره)

۴) زرتشت مردم رابه چه چیزهایی دعوت می کردند؟ (۷۵/۰ نمره)

۵) در آیین زرتشت، ، منشأ تمام خیر و خوبی ها بود و همواره با که سرچشمه شر و بدیها به شمار می رفت، در حال مبارزه بود. (۵/۰نمره)

۶) در آیین زرتشت، اهورا مزداواهریمن منشا چه چیزهایی بودند؟ (۱نمره)

۷) زرتشت به پیروان خود سفارش می کرد که به منظور یاری اهورا مزدا، چه رفتاری را سرمشق زندگی خود قرار دهند؟ (۷۵/۰نمره)

۸) زرتشت به پیروان خود سفارش می کرد که به منظور یاری اهورا مزدا، ، و را سرمشق زندگی خود قرار دهند. (۷۵/۰نمره)

۹) پس از مرگ زرتشت، پیروانش تعالیم او را در کتابی به نام گردآوری کردند. (۵/۰نمره)

۱۰) کتاب مقدس زرتشتیان چه نام داشت؟ (۵/۰نمره)

۱۱) در زمان ساسانیان چه دین هایی بین مردم رواج داشت؟ (۱نمره)

۱۲) در دوره ساسانیان دین ، دین رسمی کشور اعلام شد. (۵/۰نمره)

۱۳) در دوره ساسانیان دین رسمی کشور چه نام داشت؟ (۵/۰نمره)

الف) زرتشت ب) مسیحی ج) بودایی د) یهود

۱۴) غذای اصلی مردم در ایران باستان چه بود؟ (۵/۰نمره)

۱۵) تغذیه و آداب غذا خوردن ایرانیان باستان چگونه بود؟ (۱نمره)

۱۶) تغذیه در ایران باستان چگونه بود؟ (۱نمره)

۱۷) آداب غذا خوردن در ایران باستان چگونه بود؟ (۱نمره) یا

ایرانیان باستان هنگام غذا خوردن چه نکاتی را رعایت می کردند؟ (۱نمره)

۱۸) دردوران باستان روغن زیتون از و ادویه از به ایران وارد می شده است. (۵/۰نمره)

الف) هندوستان- یونان ب) یونان- هندوستان ج) چین- هندوستان د) یونان- چین

۱۹) دردوران باستان بعضی مواد غذایی مانند از یونان و از هندوستان به ایران وارد می شده است. (۵/۰نمره)

الف) روغن زیتون- ادویه ب) ادویه- روغن زیتون ج) گندم- روغن زیتون د) گندم- ادویه

۲۰) بیشتر آنچه که ما از پوشاک مردم دردوران می دانیم مربوط به چیست؟ (۵/۰نمره)

۲۱) پوشاک مردان و زنان در ایران باستان چگونه بود؟ (۱نمره)

۲۲) ، نخستین کسانی بودند که شلوار را طراحی کردند. (۵/۰نمره)

الف) ایرانیان ب) یونانیان ج) رومیان د) مصریان

۲۳) چند ماده غذایی نام ببرید که امروزه مصرف می کنید و در زمان ایران باستان نبوده است. بگویید چرا این مواد نمی توانستند در آن دوره وجود داشته باشند؟ (۱نمره)

۲۴) طبق نوشته هِرودوت ایرانیان به فرزندان خود چندچیز را می آموختند؟ (۷۵/۰نمره)

۲۵) کدام یک از ورزش های ایران باستان در جهان امروز مرسوم است؟ سه مورد نام ببرید؟ (۷۵/۰نمره)

۲۶) کدام ورزش های امروزی در ایران باستان وجود نداشته است؟ چرا؟ (۷۵/۰نمره)

۲۷) واژه جشن به چه معنی است؟ (۵/۰نمره)

۲۸) بیشتر جشن های ایران باستان باچه چیزهایی ارتباط داشت؟ (۵/۰نمره)

۲۹) مهمترین جشن های ایران باستان چه نام داشت؟ (۷۵/۰نمره)

۳۰) یکی از بزرگترین و باشکوه ترین جشن های ایران باستان بوده که در آغاز فصل بهار برگزار می شده است؟ (۵/۰نمره)

۳۱) یکی از بزرگترین و باشکوه ترین جشن های ایران باستان که در آغاز فصل بهار برگزار می شده است، چه نام داشت؟ (۵/۰نمره)

الف) جشن نوروز ب) جشن سده ج) جشن مهرگان د) جشن یسنه

۳۲) نوروز در نزد مردم باستان پیام آورچه چیزهایی بود؟ (۵/۰نمره)

۳۳) در شاهنامه فردوسی جشن نوروز را به تاج گذاری کدام پادشاه نسبت داده اند؟ (۵/۰نمره)

الف) جمشید ب) کورش ج) داریوش د) اردشیر

۳۴) جشن نوروز علاوه بر ایران در کدام کشورهای برپا می شود؟ چرا؟ (۱نمره)

۳۵) آیین های زیبای جشن نوروز را نام ببرید؟ (۱نمره)

۳۶) سازمان ملل متحد چه روزی را به عنوان روز جهانی نوروز اعلام کرد و به رسمیت شناخت؟ (۵/۰نمره)

درس بیست و چهار

۱) علت پیشرفت های ایرانیان در دانش، هنر و معماری چیست؟ (نمره)

۲) زبان ایرانیان در دوره هخامنشیان، «پارسی.....» بود. (۵/نمره)

الف) باستان ب) میانه ج) پهلوی د) دری

۳) زبان ایرانیان در دوره اشکانیان و ساسانیان، «پارسی.....» یا «.....» بود. (۵/نمره)

۴) زبان ایرانیان در دوره اسلامی زبان «فارسی.....» رواج یافت. (۵/نمره)

الف) باستان ب) میانه ج) پهلوی د) دری

۶) زبان رسمی امروز ما نیز فارسی..... است. (۵/نمره)

الف) باستان ب) میانه ج) پهلوی د) دری

۸) زبان ایرانیان در دوره هخامنشیان و اشکانیان و ساسانیان، دوره اسلامی چه بود؟ (نمره)

۹) اصل ۱۵ قانون اساسی می گوید؟ (نمره)

۱۰) خط رایج در زمان هخامنشیان چه بود؟ (۵/نمره)

۱۱) هخامنشیان خط میخی را از چه کسانی اقتباس کرده بودند؟ (۵/نمره)

۱۲) خط رایج در زمان اشکانیان و ساسانیان چه بود؟ (۵/نمره)

۱۳) اشکانیان و ساسانیان خط پهلوی را از چه کسانی اقتباس کرده بودند؟ (نمره)

۱۴) چه نیازهایی باعث اختراع خط شد؟ اگر خط نبود چه کمبودهایی در جوامع پدید می آمد؟ (نمره)

۱۵) ایرانیان باستان در دانش چه پیشرفت هایی کرده بودند؟ (نمره)

۱۶) ایرانیان باستان در علم نجوم چه پیشرفت هایی کرده بودند؟ (نمره)

۱۷) ایرانیان باستان در علم پزشکی چه پیشرفت هایی کرده بودند؟ (نمره)

۱۸) در بخشی از کتاب اوستا از چند نوع پزشک نام برده است؟ (۷۵/نمره)

۱۹) قدیمی ترین مدرسه پزشکی جهان چه نام داشت؟ و توسط چه کسی تاسیس شده بود؟ (نمره)

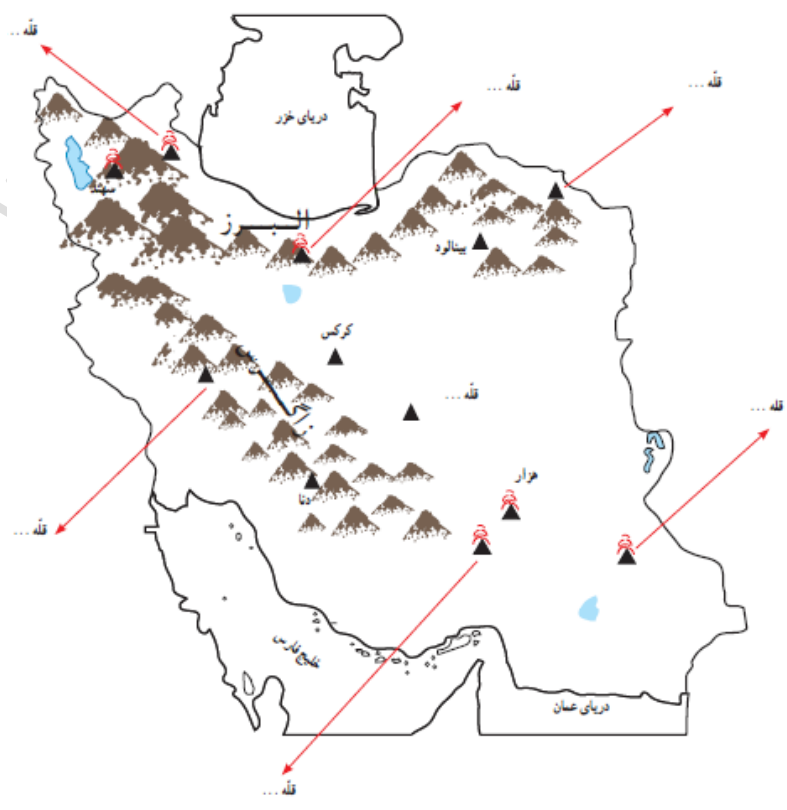
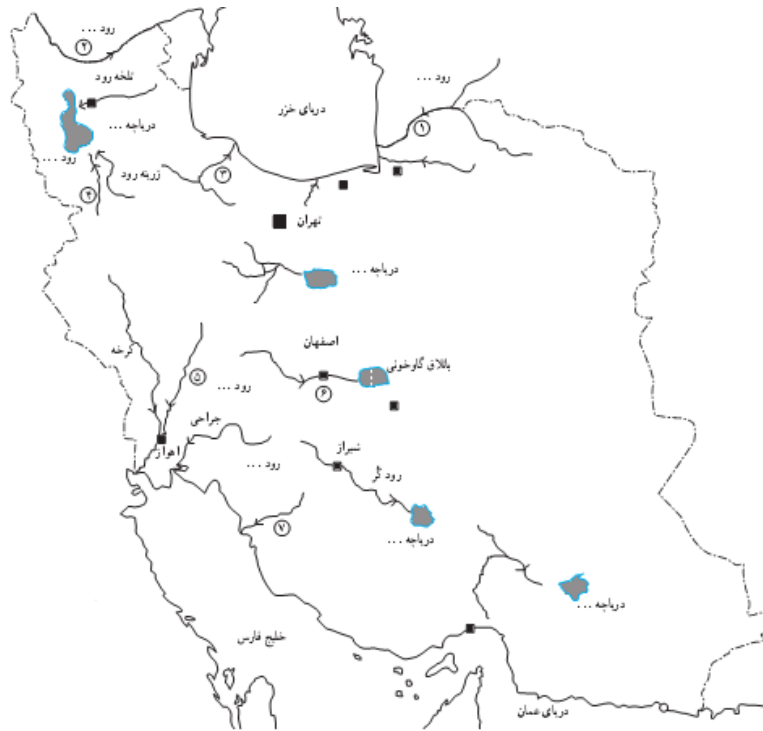
۲۰) هنرمندان ایران باستان در چه رشته هایی مهارت داشتند؟ (نمره)

۲۱) علت ساخته شدن بناهای بزرگ و باشکوهی چون کاخ‌ها، آرامگاه‌ها و آتشکده‌ها در ایران باستان چه بود؟ (۵/۰ نمره)

۲۲) با تأسیس امپراتوری‌های بزرگ و ساختن شهرها به تدریج چه نوع بناهای در ایران ساخته شدند. (۷۵/۰ نمره)

۲۳) از بناهایی ایران باستان که پیشرفت ایرانیان را در معماری نشان می‌دهند، شش مورد نام ببرید؟ (۵/۱ نمره)

۲۴) به نظر شما چرا از خانه‌های مردم معمولی دوران ایران باستان چیزی باقی نمانده، اما بقایای کاخ‌ها، آتشکده‌ها و ... هنوز باقی است؟ (۱ نمره)





موفق و سربلند باشید.

علی فروتن دبیر مطالعات اجتماعی ناحیه یک اردبیل

وبلاگ:

www.alifrotan.blogfa.com

ایمیل:

alifrotan@ymail.com