

- ۱- چه عاملی موجب شده که ایران تنوع زیادی در گونه های گیاهی و جانوری داشته باشد؟ شرایط جغرافیایی.
- ۲- مهم ترین عامل که موجب از بین رفتن یا در معرض خطر قرار گرفتن برخی از گونه های گیاهی و جانوری شده چیست؟ فعالیت های نادرست انسان
- ۳- ما در بهره برداری از طبیعت و رفع نیازهای خودمان چگونه باید عمل کنیم؟ باید طوری برنامه ریزی و فکر کنیم که کمترین آسیب به محیط زیست وارد شود.
- ۴- نابود شدن درختان جنگل چه نتایجی دارد؟ وقتی درختان جنگلی در یک ناحیه نابود می شوند، جانورانی نیز که غذایشان را در این جنگل ها به دست می آورند، از بین می روند و تعادل طبیعت به هم می خورد.

- ۵- چرا زیستگاه‌ها تخریب می‌شوند؟ ۱- فعالیت‌های نادرست انسان ۲- از بین بردن چنگل‌ها و مراتع بدون برنامه‌ریزی و تفکر ۳- شکار بیش از حد و صید بی‌رویه جانوران ۴- تولید زباله توسط انسان ۵- فعالیت‌های کارخانه‌ای و حمل و نقل و تولید مواد سمی
- ۶- شکار بیش از حد و صید بی‌رویه جانوران چه پیامدی به دنبال دارد؟ شکار بیش از حد و صید بی‌رویه باعث کاهش بعضی گونه‌های جانوری شده است. وقتی شکارچیان برای تغذیه یا استفاده (از پوست، شاخ‌ها و استخوان‌های حیواناتی مثل گورخر، آهو یا پرندگان را در یک دشت محاصره و به آنها حمله می‌کنند به تدریج نسل اینگونه رو به کاهش می‌گذارد یا در خطر انقراض قرار می‌گیرد.
- ۷- افزایش جمعیت چه نتایجی برای محیط زیست دارد؟ هرچه جمعیت بیشتر می‌شود، فعالیت‌های کارخانه‌ای و حمل و نقل و تولید مواد سمی هم بیشتر می‌شود. گازهای سمی که از اتومبیل‌ها یا کارخانه‌ها به هوا و آب وارد می‌شوند یا سم‌هایی که در آفت‌کش‌های کشاورزی وجود دارد، اثرات پدی بر زندگی گیاهان و جانوران دارند.
- ۸- مهم‌ترین دلایل حفاظت از زیستگاه‌ها را نام ببرید؟ ۱- سپاسگزاری از نعمت‌های خداوند ۲- لذت بردن از زیبایی‌ها و تفکر در آفرینش ۳- حق حیات ۴- وابستگی موجودات زنده به یکدیگر ۵- فواید گیاهان و جانوران
- ۹- یکی از راه‌های شکب‌گزاری از نعمت‌های الهی چیست؟ این است که رابطه‌ی درست و صحیح با طبیعت داشته باشیم.
- ۱۰- آیا انسان تنها موجودی است که حق حیات دارد؟ توضیح دهید؟ خیر- انسان تنها موجود زنده‌ی روی زمین نیست، بلکه سایر موجودات زنده نیز حق حیات دارند و مثل انسان، مخلوق خداوند هستند.
- ۱۱- انسان‌ها تا چه حدی می‌توانند از طبیعت استفاده کنند؟ انسان‌ها می‌توانند فقط در حدی که نیازهایشان را برآورده کنند، از طبیعت بهره‌برداری کنند و حق ندارند به دلیل زیاده‌روی در مصرف یا سودجویی، گونه‌ها را نابود کنند.
- ۱۲- وقتی برخی گونه‌های یک زیستگاه نابود می‌شود چه مشکلی ایجاد می‌شود؟ غذای برخی گونه‌های دیگر کم می‌شود و آن گونه نیز شروع به کاهش می‌کند، در نتیجه تعادل زندگی در آنجا به هم می‌خورد.
- ۱۳- گیاهان و جانوران چه فوایدی برای انسان دارند؟ بعضی از جانوران و گیاهان منابع غذایی برای انسان هستند. بعضی از گیاهان خاصیت دارویی دارند و برای درمان بیماری‌ها استفاده می‌شوند.
- ۱۴- مهم‌ترین وظیفه‌ی سازمان حفاظت از محیط زیست چیست؟ مراقبت از زیستگاه‌های طبیعی کشور و جلوگیری از تخریب و آلودگی آنها است.
- ۱۵- وظایف محیط بان‌ها چیست؟ محیط بان‌ها مسئول اجرای قوانین و مقررات محیط زیست در یک منطقه هستند- محیط بان‌ها از منطقه‌ی تحت نظارت خود، بازدید می‌کنند و کلیه رویدادها یا فعالیت‌هایی را که موجب تخریب محیط زیست می‌شوند را شناسایی می‌کنند.
- ۱۶- محیط بان‌ها چه مواردی را به سازمان حفاظت از محیط زیست گزارش می‌دهند؟ آنها ممکن است قطع درختان، پوته‌کشی، شکله غیر قانونی، روشن کردن آتش، آلودگی‌های محیط زیستی یا سیل و طغیان رودخانه را در یک مکان مشاهده کنند و به سازمان گزارش دهند.
- ۱۷- بعضی از کارهایی که شما می‌توانید برای حفاظت از محیط زیست انجام دهید را نام ببرید؟ (۴ مورد) ۱- هرگز گل‌ها را نچینید. گل‌های وحشی را در مسیر راه‌ها و چاده‌ها لگد مال نکنید ۲- در محل زندگی خودتان درخت و گل بکارید تا زیستگاه طبیعی کوچکی برای حیوانات درست کنید ۳- ته مانده‌ی سفره را با حفظ نظافت در گوشه‌ای از بالکن یا باغچه بپریم تا به تغذیه‌ی پرندگان کمک کرده باشیم ۴- تصمیم بگیریم حیوانات خشک شده یا وسایل تزئینی که از اعضای بدن حیوانات درست شده (مثل عاج فیل) نخریم.
- ۱۸- منطقه‌ی حفاظت شده به چه مناطقی گفته می‌شود؟ سازمان حفاظت محیط زیست، برخی از مناطق کشور را که در آنجا حفظ و تکثیر نسل جانوران یا گیاهان اهمیت خاصی دارد، به عنوان منطقه‌ی حفاظت شده اعلام می‌کند. این منطقه ممکن است چنگل یا مرتع یا دشت و کوهستان باشد.
- ۱۹- مناطق حفاظت شده‌ی کشور ما کدامند؟ منطقه‌ی چنگل‌های حرا در آب‌های خلیج فارس و دشت ارژن در فارس و اشترانکوه در لرستان.
- ۲۰- در منطقه‌ی حفاظت شده چه مقرراتی وجود دارد؟ شکار و صید یا قطع درختان و از بین بردن گیاهان در این منطقه ممنوع است.

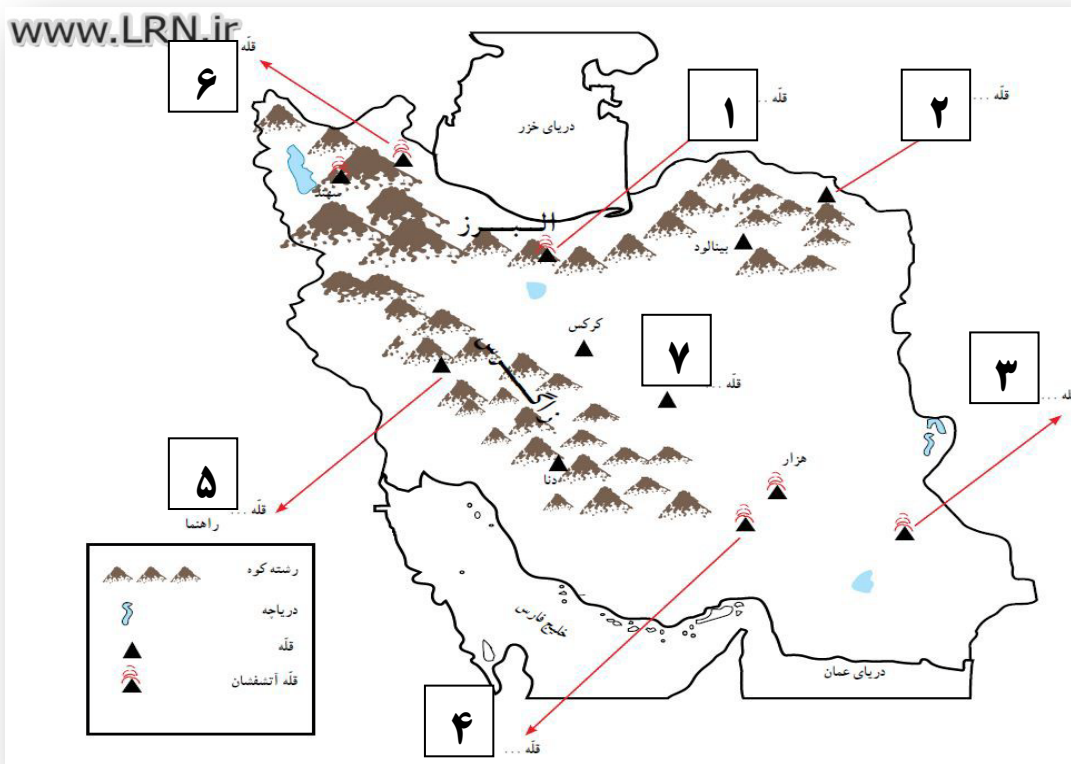
*- تاکنون حدود گونه‌ی گیاهی و حدود گونه حشرات تخمین زده اند . (۹۰۰۰ - ۶۰۰۰)

*- یکی از چیزهایی که حیات زیستگاه‌ها را تهدید می‌کند ، است . (زباله)

*- یکی از مشاغل مهم در سازمان حفاظت محیط زیست است . (محیط پائی)

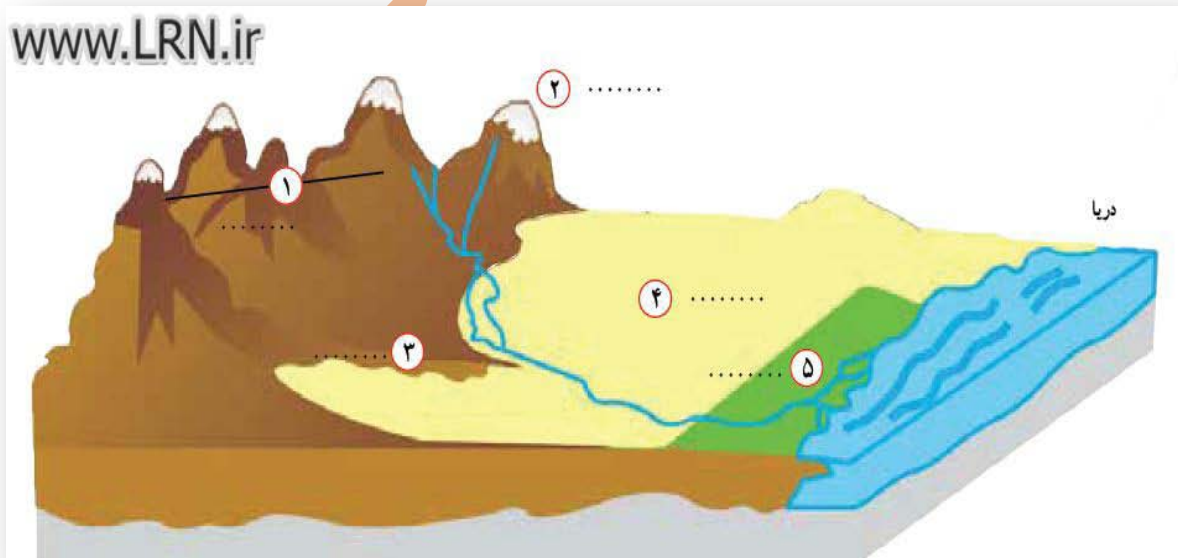


در روی نقشه نام قله هایی که نوشته شده است را بنویسید.



۱- دماوند ۲- هزار مسجد ۳- تققان ۴- لاله زار ۵- زردکوه ۶- سپلان ۷- شیرکوه

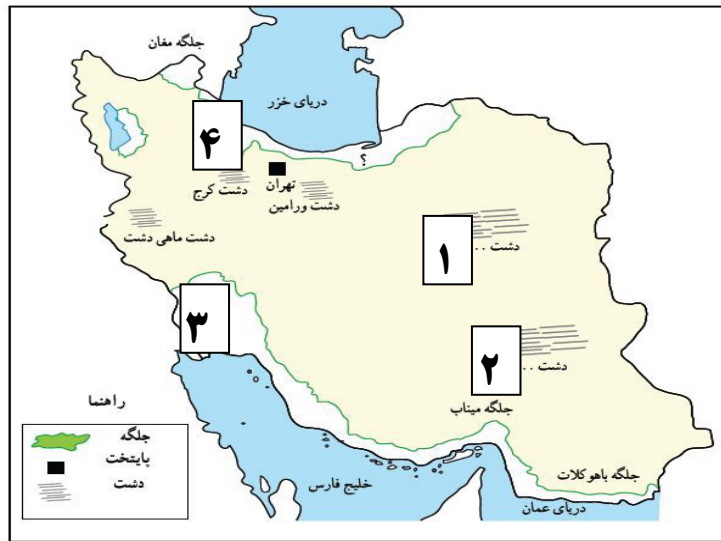
روی مدل ، کنار شماره ها کلمه جلگه ، دشت ، کوهپایه ، قله و رشته کوه را بنویسید.



۱- رشته کوه ۲- قله ۳- کوهپایه ۴- دشت ۵- جلگه

نام جلگه ها و دشت های را که روی نقشه نوشته نشده است بنویسید

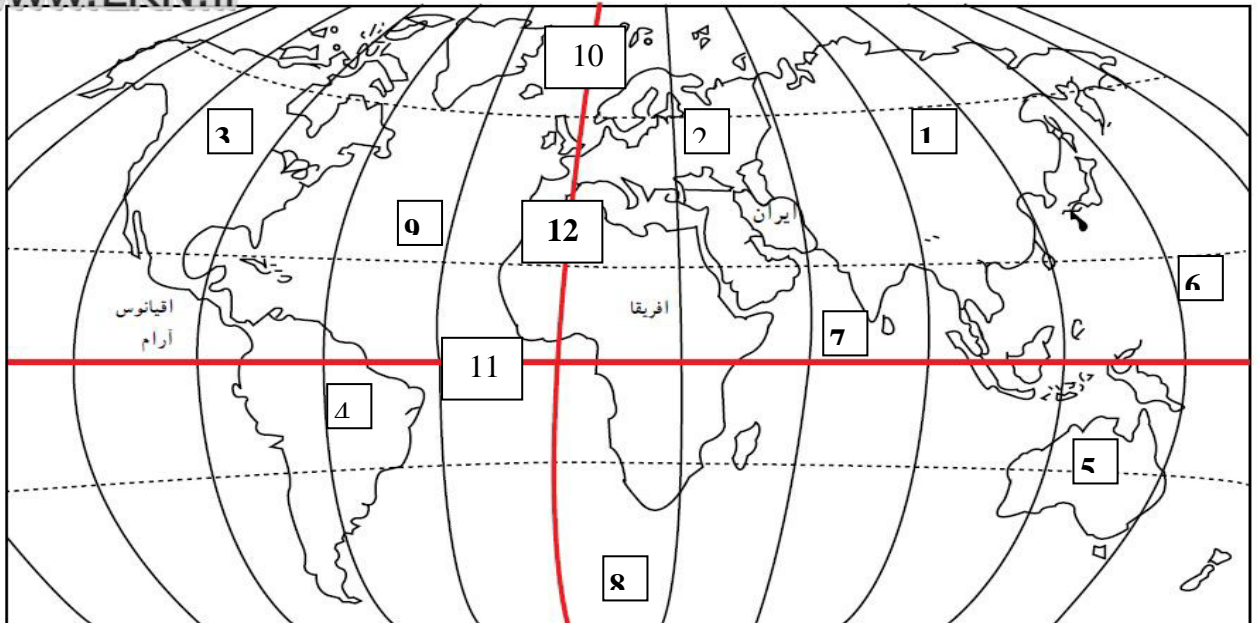
www.LRN.ir



۱- دشت کویر ۲- دشت لوت ۳- جلگه خوزستان ۴- جلگه کیلان

بر روی نقشه زیر نام قاره ها، اقیانوس ها، خط استوا و نام نصف النهار مبدأ را بر اساس شماره ها مشخص کنید

www.LRN.ir



۱- قاره آسیا ۲- قاره اروپا ۳- قاره آمریکای شمالی ۴- قاره آمریکای جنوبی ۵- قاره استرالیا

۶- اقیانوس آرام ۷- اقیانوس هند ۸- اقیانوس منجمد جنوبی ۹- اقیانوس اطلس ۱۰- اقیانوس منجمد شمالی

۱۱- نصف النهار مبدأ ۱۲- خط استوا

علیرضا اسماعیلی ۹۵-۹۴

