

سوالات فصل اول مطالعات نهم

مطالعات نهم – فصل اول – خرداد ۱۳۹۵ – استان فارس

فصل اول:

۱- مدارها نیم دایره های فرضی هستند که از قطب شمال تا قطب جنوب کشیده شده اند. (۵/۵. نمره)

ص غ

۲- کدام گزینه در مورد سیاره زمین صحیح نیست؟ (۵/۵. نمره)

الف) بخش کوچکی از منظومه خورشیدی است.

ب) در میان چهار سیاره نزدیک به خورشید، بزرگترین است.

ج) چهارمین سیاره منظومه و در فاصله ۱۵۰ کیلومتری خورشید است.

د) فقط یک قمر به نام ماه دارد.

۳- با توجه به تصاویر به سوالات زیر پاسخ دهید. (۵/۵. نمره)

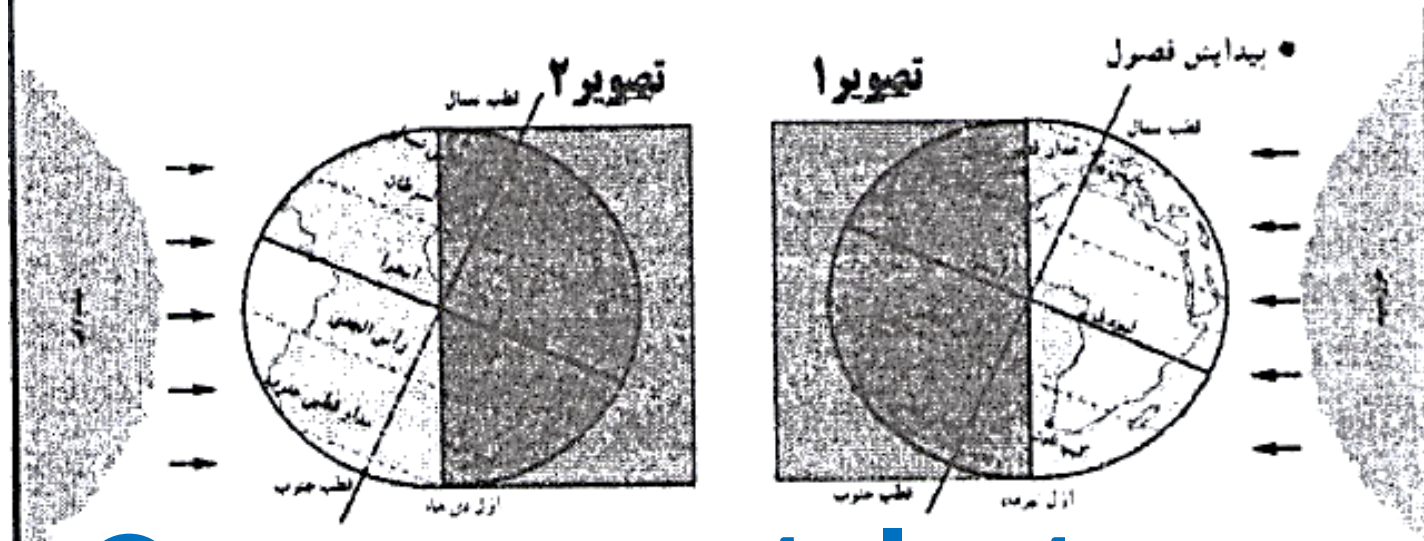
الف) کدام تصویر، فصل تابستان را در نیمکره شمالی

نشان می دهد؟ ()

ب) در کدام تصویر، طول روز در نیمکره جنوبی بیشتر است؟

()

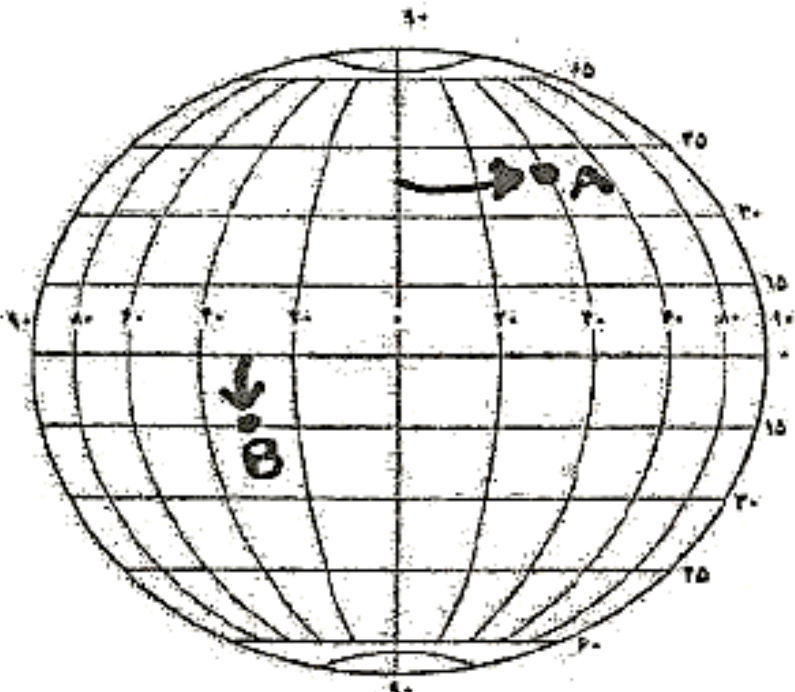
۴- نتایج حرکت وضعی زمین را بنویسید. (۱ نمره)



مطالعات نهم - فصل اول - خرداد ۱۳۹۵ - شیراز

فصل اول :

- ۱- موقعیت مکانی یک پدیده، یعنی مکان دقیق قرار گرفتن آن روی کره زمین، (۵/۱. نمره) ص غم
- ۲- کره زمین به چند قاع ساعتی تقسیم شده و هر قاع، چند درجه پهنا دارد؟ (۵/۱. نمره)
- الف) ۲۴ قاع - ۱۵ درجه ب) ۱۵ قاع - ۲۴ درجه ج) ۲۴ قاع - ۳۶۰ درجه د) ۳۶۰ قاع - ۱۵ درجه
- ۳- تمایل محور قطب ها بر سطح مدار گردش انتقالی زمین چه نتایجی دارد؟ (دو مورد) (۵/۱. نمره)
- ۴- طول جغرافیایی هر مکان را تعریف کنید. (۱ نمره)

۱۵	۱- این تعریف به کدام یک از گزینه های زیر اختصاص دارد؟ (فاصله ی هر مکان با مدار استوا بر حسب درجه) الف) طول جغرافیایی <input type="checkbox"/> ب) نصف النهارها <input type="checkbox"/> ج) عرض جغرافیایی <input type="checkbox"/> د) مدارها <input type="checkbox"/>
۱۵	۲- پدید آمدن شب و روز و اختلاف ساعت بر اثر کدام یک از گزینه های زیر ایجاد می شود؟ الف) حرکت انتقالی <input type="checkbox"/> ب) حرکت وضعی <input type="checkbox"/> ج) حرکت ظاهری <input type="checkbox"/> د) هیچکدام <input type="checkbox"/>
۱۵	۳- با توجه به شکل زیر مختصات نقاط مشخص شده را بیابید. 
۱۵	۴- در اول این ماه در نیمکره ی شمالی، خورشید به مدار راس السرطان به طور عمود می تابد. در این هنگام طولانی ترین روز در این نیمکره است. الف) اول تیر - انقلاب تابستانی <input type="checkbox"/> ب) اول دی - انقلاب زمستانی <input type="checkbox"/> ج) اول دی - انقلاب تابستانی <input type="checkbox"/> د) اول تیر - انقلاب زمستانی <input type="checkbox"/>
۱۵	۵- مبنای ساعت واقعی، موقعیت خورشید در آسمان است. الف) درست <input type="checkbox"/> ب) نادرست <input type="checkbox"/>

مطالعات نهم - فصل اول خرداد ۱۳۹۵ - کردستان

[A]
[B]

مطالعات نهم - فصل اول - خرداد ۱۳۹۵ - هرمزگان

فصل اول	<p>۱- جواب صحیح را انتخاب کنید.</p> <p>۱) سال کیسه چند روز است ؟</p> <p>الف - ۳۶۶ روز <input type="checkbox"/></p> <p>ب - ۳۷۲ روز <input type="checkbox"/></p> <p>ج - ۳۶۵ روز <input type="checkbox"/></p> <p>د - ۳۶۴ روز <input type="checkbox"/></p> <p>۲) زمین هر چند ساعت یک بار به دور محور خود می چرخد ؟</p> <p>الف - ۳۰ ساعت <input type="checkbox"/></p> <p>ب - ۲۴ ساعت <input type="checkbox"/></p> <p>ج - ۲۵ ساعت <input type="checkbox"/></p> <p>د - ۲۷ ساعت <input type="checkbox"/></p>
۱	۳- حرکت انتالی را تعریف کنید ؟
۱	۳- تفاوت سیاره های درونی و سیاره های بیرونی را بنویسید ؟

۱- کدام مورد زیر از سیارات بیرونی منظومه شمسی بوده و از گاز تشکیل شده است؟

- ناهید بهرام برجیس زمین

۲- اگر نقطه ای در فاصله ۷۵ درجه از نصف النهار مبدأ باشد، چند ساعت از آن فاصله دارد؟


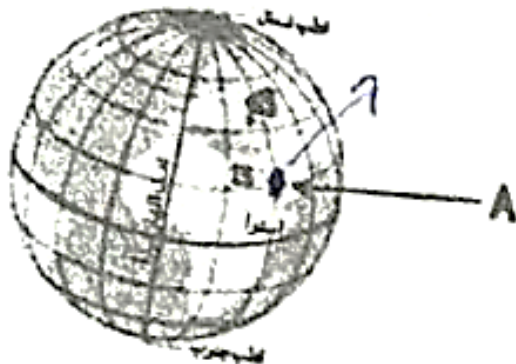
- ۴ ساعت ۶ ساعت ۲ ساعت ۵ ساعت

۳- صحیح یا غلط بودن عبارت زیر را مشخص کنید.

- عامل پیدایش فصول و نامساوی بودن طول شب و روز، انحراف محور زمین است.
- ص غ

۴- به نیم دایره های فرضی که به دو قطب زمین متصل بوده و طول مساوی دارند، چه می گویند؟ (.....)

۵- مختصات جغرافیایی نقطه ی A را در تصویر زیر مشخص کنید.



۶- هریک از اصطلاحات زیر را تعریف کنید.

سال کیبسه:

.....

حرکت انتقالی زمین:


مطالعات نهم

فصل اول

خرداد ۱۳۹۵

اصفهان

فصل اول

۲۵/	۱- سیاره های درونی منظومه شمسی، سطوح سنگی و جامد دارند. صحیح <input type="checkbox"/> غلط <input type="checkbox"/>
۲۵/	۲- مدت زمان واقعی یک دور کامل گردش زمین به گرد خورشید چه مدت می باشد؟ الف - ۳۶۶ روز <input type="checkbox"/> ب - ۳۶۵ روز و ۶ ساعت <input type="checkbox"/> ج - ۳۶۵ روز <input type="checkbox"/> د - ۳۶۶ روز و ۶ ساعت <input type="checkbox"/>
۱۵/	۳- گزینه های مربوط به هم را به یکدیگر وصل کنید. (در گزینه های سمت چپ یک مورد اضافه است) الف - مدار ب - نصف النهار ۱- نیم دایره های فرضی که از قطب شمال تا قطب جنوب کشیده شده است. ۲- دایره های فرضی که موازی با خط استوا هستند. ۳- دایره های فرضی که از قطب شمال تا قطب جنوب کشیده شده است.
۱۵/	۴- مکان دقیقی قرار گرفتن یک پدیده روی کره زمین را چه می نامند؟
۱۵/	۵- نتایج حرکت وضعی زمین را بنویسید. (یک مورد)
۱۵/	۶- با توجه به تصویر مقابل در تیکره شمالی کدام انقلاب رخ می دهد؟ 

مطالعات نهم - فصل اول - خرداد ۱۳۹۵ - خوزستان

فصل اول

۱- مدار استوا چند درجه است؟

- الف) ۶۰ درجه ب) ۱۸۰ درجه ج) ۹۰ درجه د) نصف درجه

۲- چهار شماره نزدیک به خورشید که سطوح سنگی و جامد دارند به سارات معروفند.

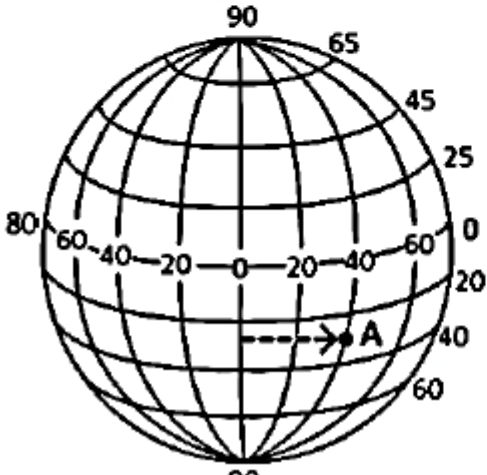
۳- با توجه به اینکه شهر (الف) در موقعیت ۳۰ درجه شرقی و شهر (ب) در موقعیت ۶۰ درجه شرقی قرار دارد:

الف. شما در کدام شهر صدای اذان را زودتر می شنوید؟

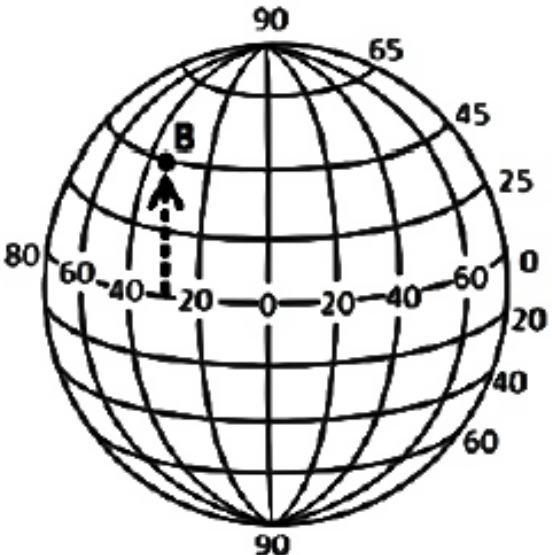
ب. این دو شهر چند ساعت اختلاف زمانی دارند؟

۴- الف: زمان واقعی بر مبنای چه چیزی قرار دارد؟ ب: چرا در زندگی روزانه نمی توان از ساعت واقعی استفاده کرد؟

مطالعات نهم - فصل اول - خرداد ۱۳۹۵ - خراسان رضوی - صبح

۰/۱۵	<p>۱ کدام مورد جزو ویژگی های سیاره زمین نیست؟</p> <p>الف - سطح جامد دارد. <input type="checkbox"/></p> <p>ب - جزو سیارات بیرونی منظومه شمسی است. <input type="checkbox"/></p> <p>ج - سومین سیاره از منظومه شمسی است. <input type="checkbox"/></p> <p>د - یک قمر دارد. <input type="checkbox"/></p>
۰/۱۵	<p>۲ هنگامی که خورشید در نیمکره شمالی بر مدار رأس السرطان عمود می تابد، کدام پدیده به وجود می آید؟</p> <p>الف - انقلاب تابستانی <input type="checkbox"/></p> <p>ب - انقلاب زمستانی <input type="checkbox"/></p> <p>ج - اعتدال بهاری <input type="checkbox"/></p> <p>د - اعتدال پاییزی <input type="checkbox"/></p>
۱	<p>۳ حرکت وضعی زمین را با حرکت انتقالی آن مقایسه کنید.</p>
۰/۱۵	<p>۴ مختصات جغرافیایی نقطه (A) را با استفاده از شکل زیر مشخص کنید و علائم اختصاری آن را بنویسید .</p> <p>طول جغرافیای نقطه A:</p>  <p>کانال مطالعات اجتماعی @azmonemotaleat</p>

مطالعات نهم - فصل اول - خرداد ۱۳۹۵ - خراسان رضوی - بعد از ظهر

۱/۵	<p>درستی یا نادرستی جملات زیر را با علامت X مشخص کنید.</p> <p>الف - مدارهای کره زمین، بین ۰ تا ۹۰ درجه شرقی و غربی تقسیم شده اند.</p> <p>ب - کشور ایران با توجه به نصف النهار مبدأ، در نیمکره شمالی قرار دارد.</p> <p>ج - زمین جزو سیارات درونی منظومه شمسی محسوب می شود.</p> <p>درست <input type="checkbox"/> نادرست <input type="checkbox"/></p> <p>درست <input type="checkbox"/> نادرست <input type="checkbox"/></p> <p>درست <input type="checkbox"/> نادرست <input type="checkbox"/></p>	۱
۰/۵	<p>اختلاف ساعت در نصف النهارهای کره زمین، نتیجه کدام مورد است؟</p> <p>الف - حرکت وضعی زمین <input type="checkbox"/></p> <p>ب - وجود ساعت رسمی <input type="checkbox"/></p> <p>ج - نزدیکی به خط استوا <input type="checkbox"/></p> <p>د - مایل بودن محور قطب ها <input type="checkbox"/></p>	۲
۰/۵	<p>مختصات جغرافیایی نقطه (B) را با استفاده از شکل زیر مشخص کنید و علائم اختصاری آن را بنویسید.</p> <p>عرض جغرافیای نقطه B:</p>  <p>کانال مطالعات اجتماعی @azmonemotaleat</p>	۳

مطالعات نهم - فصل اول - خرداد ۱۳۹۵ - سیستان و بلوچستان

۰/۵

۲۱ - سال ۳۶۶ روزه را چه می نامند؟

الف (سال کبیسه ب (سال رسمی ج (سال شمسی د (سال قمری)

۲۲ - نتایج مهم حرکت وضعی زمین را بنویسید؟ (۲ مورد)

۲۳ - سیارات درونی و بیرونی را باهم مقایسه کنید؟ (۴ مورد)

فصل اول

سیارات درونی	سیارات بیرونی	
		جنس و ترکیب
		قمر

[@azmonemotaleat](https://www.instagram.com/azmonemotaleat) کانال مطالعات اجتماعی

مطالعات نهم - فصل اول - خرداد ۱۳۹۶ - آذربایجان غربی

۰/۲۵	۲۲ - بزرگ ترین سیاره از میان چهار سیاره نزدیک به خورشید کدام است ؟ الف) تیر <input type="radio"/> ب) ناهید <input type="radio"/> ج) زمین <input type="radio"/> د) بهرام <input type="radio"/>	فصل ۱
۰/۲۵	۲۳ - سال ۳۶۶ روزه را سال رسمی می گویند. الف) ص <input type="radio"/> ب) غ <input type="radio"/>	
۱	۲۴ - نتایج حرکت وضعی زمین را بنویسید ؟	
۱	۲۵ - مختصات جغرافیایی را تعریف کنید ؟	

کانال مطالعات اجتماعی @azmonemotaleat

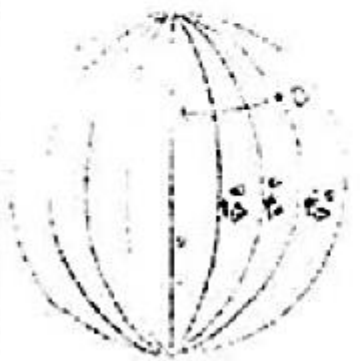
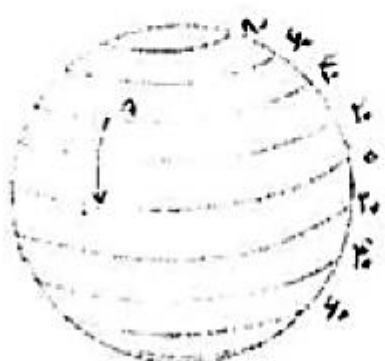
مطالعات نهم - فصل اول - خرداد ۱۳۹۶ - قزوین

۲/۵	<p>فصل اول</p> <p>۱- بزرگترین سیاره نزدیک به خورشید چه نام دارد؟ (۰/۵ نمره)</p> <p>الف) - تیر <input type="checkbox"/> ب) - بهرام <input type="checkbox"/> ج) - ناهید <input type="checkbox"/> د) - زمین <input type="checkbox"/></p> <p>۲- حرکت انتقالی چیست؟ و یکی از نتایج آن را نام ببرید. (۱/۵ نمره)</p> <p>۳- کیوان از سیارات درونی منظومه خورشیدی می باشد. (۰/۵ نمره)</p> <p>ص <input type="checkbox"/> غ <input type="checkbox"/></p>
-----	---

مطالعات نهم – فصل اول – خرداد ۱۳۹۶ – خراسان رضوی – صبح

فصل اول : سیاره ما، زمین بارم ۲/۵ نمره	
۰/۵	منظومه خورشیدی دارای هشت سیاره است. ص <input type="checkbox"/> غ <input type="checkbox"/>
۰/۵	زمان انقلاب زمستانی در نیمکره ی جنوبی فصل زمستان آغاز شده است. ص <input type="checkbox"/> غ <input type="checkbox"/>
۰/۵	نتیجه مایل بودن محور قطب ها کدام گزینه <u>نیست</u> ؟ الف – تغییر زاویه تابش خورشید <input type="checkbox"/> ب- ایجاد فصل های مختلف <input type="checkbox"/> ج – سال ۳۶۶ روزه <input type="checkbox"/> د- نامساوی بودن روز و شب <input type="checkbox"/>
۰/۵	حداکثر طول جغرافیایی یک منطقه چند درجه است؟ الف – ۹۰ <input type="checkbox"/> ب- ۱۵۰ <input type="checkbox"/> ج- ۱۸۰ <input type="checkbox"/> د- ۲۷۰ <input type="checkbox"/>
۰/۵	حرکت وضعی زمین را تعریف کنید. کانال مطالعات اجتماعی @azmonemotaleat

مطالعات نهم - فصل اول - خرداد ۱۳۹۶ - شهر تهران

۰/۱۵	<p>۱- کدام یک از سال‌های زیر روزهای بیشتری در تقویم دارد؟</p> <p>الف) سال خورشیدی <input type="checkbox"/> ب) سال رسمی <input type="checkbox"/> ج) سال کیبسه <input type="checkbox"/> د) سال واقعی <input type="checkbox"/></p>	فصل اول
۱	<p>۲- چگونه ممکن است اذان ظهر در شمال و جنوب ایران در دو شهر متفاوت، در یک زمان پخش شود؟</p> <p>.....</p>	
۱	<p>۳- طول و عرض جغرافیایی نقاط را با توجه به شکل زیر بنویسید.</p> <div style="display: flex; justify-content: space-around; align-items: center;">   </div> <p style="text-align: center;">نقطه A: نقطه B:</p>	

[@azmonemotaleat](https://www.instagram.com/azmonemotaleat)
کانال مطالعات اجتماعی

مطالعات نهم - فصل اول - خرداد ۱۳۹۶ - آذربایجان غربی

۰/۲۵	۲۲ - بزرگ ترین سیاره از میان چهار سیاره نزدیک به خورشید کدام است؟ الف) تیر <input type="radio"/> ب) ناهید <input type="radio"/> ج) زمین <input type="radio"/> د) بهرام <input type="radio"/>	فصل ۱
۰/۲۵	۲۳ - سال ۳۶۶ روزه را سال رسمی می گویند. الف) ص <input type="radio"/> ب) غ <input type="radio"/>	
۱	۲۴ - نتایج حرکت وضعی زمین را بنویسید؟	
۱	۲۵ - مختصات جغرافیایی را تعریف کنید؟	

[@azmonemotaleat](https://www.instagram.com/azmonemotaleat)

کانال مطالعات اجتماعی


مطالعات نهم

فصل اول

خرداد ۱۳۹۶

اصفهان

فصل اول

۰/۲۵	<p>۱- کم و زیاد شدن فاصله ی زمین با خورشید موجب به وجود آمدن فصل ها می شود .</p> <p>○ غلط ○ صحیح</p>
۰/۲۵	<p>۲- کدام گزینه از نتایج حرکت انتقالی زمین نیست ؟</p> <p>الف : پیدایش فصل ها ○ ب : ایجاد اختلاف ساعت ○ ج : تغییر زاویه تابش آفتاب ○ د : به وجود آمدن سال ها ○</p>
۰/۲۵	<p>۳- با توجه به مختصات جغرافیایی نقاط زیر ، آن ها را بر روی کره جغرافیایی مشخص کنید .</p> <p>نقطه A : (۲۰ W و ۲۰ S) نقطه B : (۲۰ N و ۱۵ E) نقطه C : (۴۰ N و ۰)</p> 
۰/۲۵	<p>۴- از میان عبارات داخل پرانتز گزینه ی صحیح را انتخاب کنید .</p> <p>۱- مدار تابش عمود خورشید در اول تیرماه (انقلاب تابستانی) : (رأس الجدی - استوا - رأس السرطان) ۲- مدت زمان ۳۶۵ روز و ۶ ساعت : (سال واقعی - سال رسمی - سال کبیسه) ۳- فاصله ی هر مکان با مدار استوا بر حسب درجه : (طول جغرافیایی - مختصات جغرافیایی - عرض جغرافیایی)</p>
۰/۵	<p>۵- دو ویژگی سیاره های بیرونی را بنویسید ؟</p> <p>۱- ۲-</p>

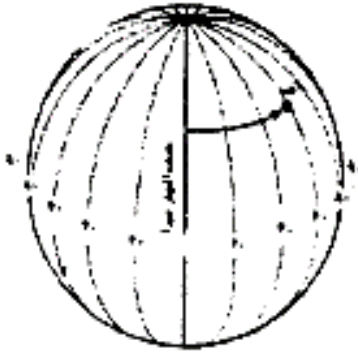
@azmonemotaleat

کانال مطالعات اجتماعی

مطالعات نهم - فصل اول - خرداد ۱۳۹۶ - یزد

۰/۱۵

۱- با توجه به شکل مقابل موقعیت نقاط الف و ب (طول و عرض جغرافیایی) آن را بنویسید؟



الف-.....

ب-.....

فصل
اول

۰/۱۵

۲- کدام یک از موارد زیر از نتایج حرکت وضعی زمین می باشد؟

ب- تغییر زاویه تابش آفتاب

الف- پیدایش فصل

د- نامساوی بودن درازی روز و شب

ج- اختلاف ساعت

۱

۳- سیاره های درونی و بیرونی را از نظر (مدار گردش و جنس و ترکیب) باهم مقایسه کنید؟


[@azmonemotaleat](https://www.instagram.com/azmonemotaleat)

کانال مطالعات اجتماعی

۰/۱۵

۴- چرا از ساعت رسمی استفاده می کنیم؟ مثال بیاورید.

مطالعات نهم - فصل اول - خرداد ۱۳۹۶ - قم

۰/۱۵	<p>۱- بر اساس داده های بدست آمده از پهباد های نظامی ایران ، یک سایت شناور سری تحقیقاتی ، در طول و عرض جغرافیایی صفر درجه قرار دارد ؛ مختصات جغرافیایی این سایت نشان دهنده ی کدام نقطه است ؟</p> <p style="text-align: right;">الف) قطب جنوب <input type="checkbox"/></p> <p style="text-align: right;">ب) نقاط غرب نصف النهار مبداء <input type="checkbox"/></p> <p style="text-align: right;">ج) نقطه برخورد مدار استوا و نصف النهار مبداء <input type="checkbox"/></p> <p style="text-align: right;">د) قطب شمال <input type="checkbox"/></p>	فصل اول
۰/۱۵	<p>۲- در مناطق مجاور استوا ، طول روز و شب همواره است .</p>	
۰/۱۵	<p>۳- مبنای محاسبه ی زمان واقعی چیست ؟</p>	
۱	<p>۴- با توجه به شکل ، مختصات جغرافیایی نقطه A را بنویسید .</p> <div style="display: flex; align-items: center; justify-content: space-around;">  <div style="text-align: center;"> <p>@azmonemotaleat</p> <p>کانال مطالعات اجتماعی</p> </div> <div style="text-align: center;"> <p>درجه جنوبی ←</p> <p>← ۴۵ درجه</p> </div> <div style="text-align: center;"> <p>A</p> </div> </div>	

مطالعات نهم – فصل اول – خرداد ۱۳۹۶ – فارس

فصل اول :

۱- در حرکت ظاهری خورشید، در واقع خورشید جا به جا می شود. (۵/۰ نمره) صحیح غلط

۲- زاویه تابش آفتاب در طول سال به دلیل تغییر می کند. (۵/۰ نمره)

الف) حرکت وضعی زمین

ب) تمایل محور قطبها

ج) حرکت انتقالی زمین

د) حرکت ظاهری خورشید

۳- موقعیت مکانی یک پدیده یعنی چه ؟ (۵/۰ نمره)

۴- با توجه به تفاوت سیارات منظومه خورشیدی، جدول را کامل کنید. (۱ نمره)

سیاره های بیرونی	سیاره های درونی	
.....	جنس و ترکیب
.....	تعداد قمر

مطالعات نهم – فصل اول – خرداد ۱۳۹۷ – همدان

۰/۲۵	۱- به اول زمستان و اول تابستان، انقلابین می گویند. <input type="checkbox"/> صحیح <input type="checkbox"/> غلط	فصل اول
۰/۲۵	۲- سر چشمه اصلی نور و و انرژی بر روی زمین خورشید است.	
۱	۳- حرکت انتقالی را تعریف کنید.	
۱	۴- منظور از طول جغرافیایی یک نقطه چیست؟	
<hr/> @azmonemotaleat کانال مطالعات اجتماعی <hr/>		

مطالعات نهم – فصل اول – خرداد ۱۳۹۷ – گیلان

اول

الف: صحیح یا غلط بودن جمله زیر را با مشخص کنید.

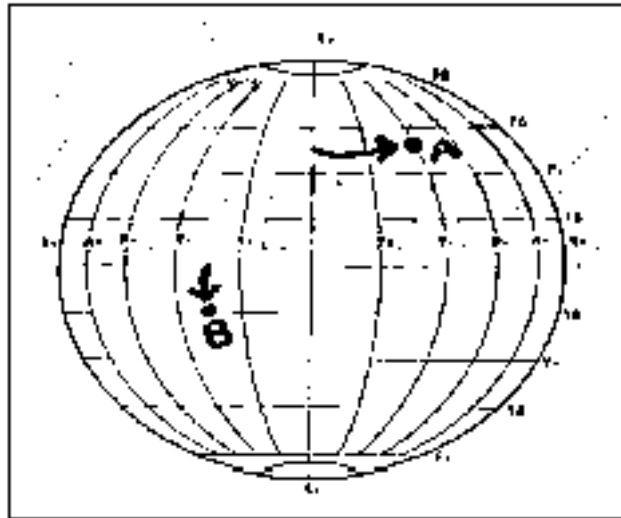
۱- زمین یک قمر به نام ماه دارد.

ب: گزینه درست را انتخاب کنید.

۲- کدام سیاره به خورشید نزدیک تر است؟

الف) زمین ب) ناهید ج) بهرام د) تیر

۳- با توجه به شکل مقابل موقعیت نقاط A, B (طول یا عرض جغرافیایی) را بنویسید.



A: [

[@azmonemotaleat](https://www.instagram.com/azmonemotaleat)

کانال مطالعات اجتماعی

B: [

۴- خانواده ایران برای او و برادر دوقلویش هر چهار سال یک بار یعنی در سی ام اسفند ماه جشن تولد می گیرند؛ آیا می دانید چرا؟

مطالعات نهم - فصل اول - خرداد ۱۳۹۷ - شهرستانهای تهران

۱- کدام جمله صحیح و کدام غلط است؟

- الف) سال گیسسه، هر چهار سال یکبار اتفاق می افتد و همیشه یک روز از سال عادی کمتر است. ص غ
- ب) از چرخش زمین به دور خود، شب و روز و اختلاف ساعت در سطح زمین، به وجود می آید. ص غ

۲- «عرض جغرافیایی» را تعریف کنید.

۳- جدول زیر را کامل کنید:

سیاره های بیرونی	سیاره های درونی	جنس و ترکیب
		تعداد قمر

[@azmonemotaleat](https://www.instagram.com/azmonemotaleat)
کانال مطالعات اجتماعی

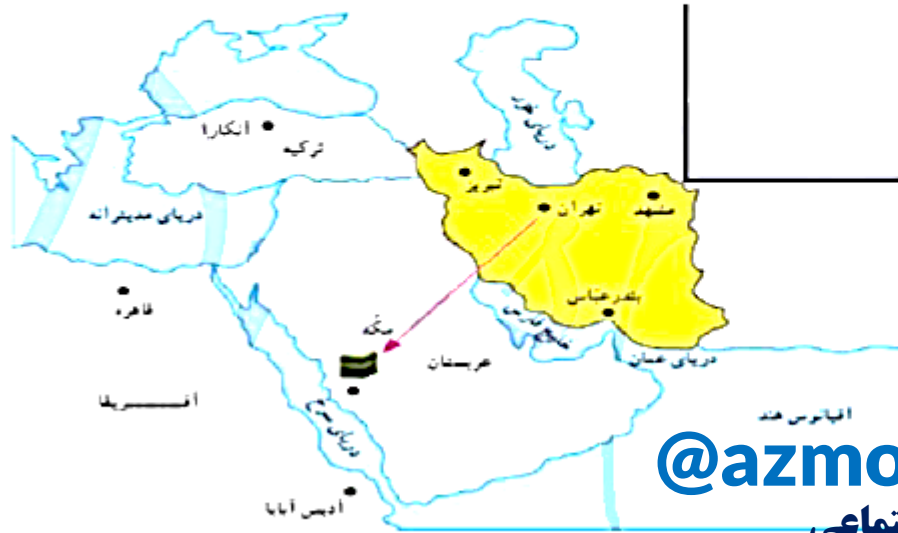
مطالعات نهم - فصل اول - خرداد ۱۳۹۷ - مازندران

	فصل اول:
۱	۱. بارسم کره ی فرضی طول و عرض جغرافیایی را روی آن نشان دهید.
۱/۵	۲. در نیمکره ی محل زندگی ما، انقلاب زمستانی چه زمانی اتفاق می افتد؟ در این موقع، مدت زمان وزاویه تابش خورشید چگونه است؟

[@azmonemotaleat](https://www.instagram.com/azmonemotaleat)

کانال مطالعات اجتماعی

مطالعات نهم – فصل اول – خرداد ۱۳۹۷ – گیلان

	<p>غلط صحیح</p> <p><input type="checkbox"/> <input type="checkbox"/></p> <p><input type="checkbox"/> <input type="checkbox"/></p> 	<p>الف : صحیح یا غلط بودن جملات زیر را با علامت <input checked="" type="checkbox"/> مشخص کنید.</p> <p>۱- سیارات درونی منظومه شمسی سطوح گازی دارند.</p> <p>۲- زمین هر ۲۴ ساعت یک بار به دور خود می چرخد.</p> <p>ب: پاسخ کوتاه را در خط چین بنویسید.</p> <p>۳- یکی از اقوام کیان، تاجر است و به کشورهای مختلف سفر می کند، اگر او در شهرهای زیر اقامت داشته باشد ؛ باید به کدام جهت جغرافیایی نماز بخواند؟</p>	<p>اول</p>
<p>۲/۵</p>	<p>انکارا</p> <p>ترکیه</p> <p>تهران</p> <p>مشهد</p> <p>اصفهان</p> <p>شیراز</p> <p>ایران</p> <p>دریای عمان</p> <p>دریای مدیترانه</p> <p>قاهره</p> <p>افسریقا</p> <p>دریای سرخ</p> <p>ادیس آبابا</p> <p>ایالات هند</p> <p>هرستان</p> <p>مکه</p> <p>@azmonemotaleat</p> <p>کانال مطالعات اجتماعی</p>	<p>الف) آنکارا</p> <p>ب) قاهره</p> <p>ج) آدیس آبابا</p>	

مطالعات نهم - فصل اول - خرداد ۱۳۹۷ - کرمانشاه

اصل
اول

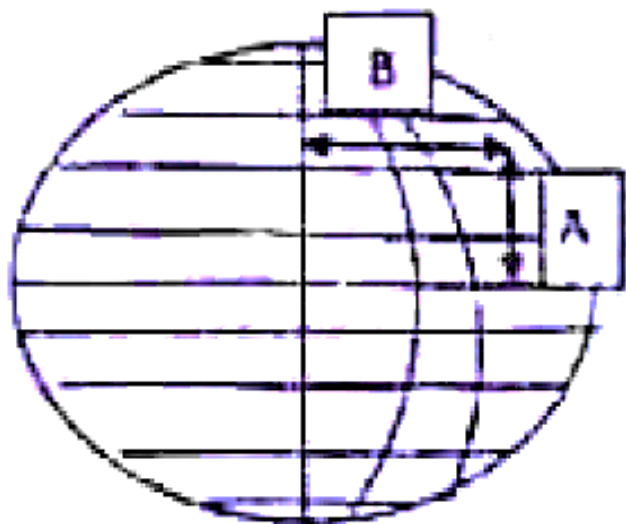
۱- هر فاج جغرافیایی ۱۵ درجه است و یک نصف النهار مرکزی دارد.

صحیح غلط

۱۵.

۲- نتایج حرکت وضعی زمین را بنویسید.

۳- بر روی تصویر طول و عرض جغرافیایی را مشخص کنید



A- ()

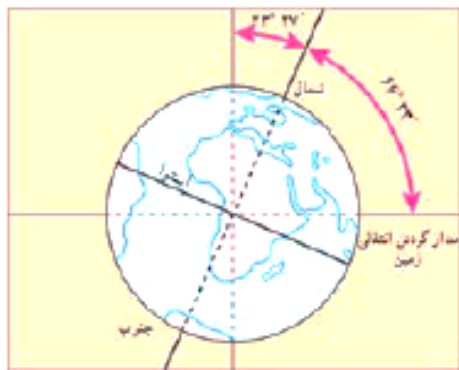
B- ()

@azmonemotaleat

کانال مطالعات اجتماعی

مطالعات نهم – فصل اول – خرداد ۱۳۹۷ – آذربایجان شرقی

۰/۵	<p>۱ در روز تولد علی، خورشید به مدار رأس الجدی در نیمکره جنوبی عمودی می تابد و در نیمکره شمالی بخش کم وسعت تری از کره زمین تابش خورشید را دریافت می کند. تولد او کدام روز است؟</p> <p style="text-align: center;"> <input type="checkbox"/> الف) اول فروردین <input type="checkbox"/> ب) اول تیر <input type="checkbox"/> ج) اول مهر <input type="checkbox"/> د) اول دی </p>	۱									
۱	<p>۲ جدول زیر را در مورد سیاره ها کامل کنید.</p> <table border="1" style="width: 100%; border-collapse: collapse; margin: 10px 0;"> <thead> <tr> <th style="width: 30%;">نام سیاره</th> <th style="width: 40%;">نوع سیاره (درونی – بیرونی)</th> <th style="width: 30%;">جنس</th> </tr> </thead> <tbody> <tr> <td style="text-align: center;">ناهید</td> <td style="text-align: center;">.....</td> <td style="text-align: center;">.....</td> </tr> <tr> <td style="text-align: center;">مشتری</td> <td style="text-align: center;">.....</td> <td style="text-align: center;">.....</td> </tr> </tbody> </table>	نام سیاره	نوع سیاره (درونی – بیرونی)	جنس	ناهید	مشتری	فصل ۱
نام سیاره	نوع سیاره (درونی – بیرونی)	جنس									
ناهید									
مشتری									
۰/۵	<p>۳ منظور از عرض جغرافیایی یک مکان چیست؟</p>										
۰/۵	<p>۴ با توجه به شکل، چرا زاویه تابش آفتاب در طول سال تغییر کرده و درازای شب و روز نامساوی می شود؟</p> <p style="text-align: center; font-size: 1.2em; font-weight: bold;">@azmonemotaleat</p> <p style="text-align: center;">کانال مطالعات اجتماعی</p> <p style="text-align: center;">.....</p>										



مطالعات نهم - فصل اول - خرداد ۱۳۹۷ - اردبیل

	<p>۱- تفاوت سیاره های درونی و بیرونی منظومه شمسی را بیان کنید. (۱ نمره)</p>	
۲/۵	<p>۲- به فاصله هر نقطه با خط استوا چه می گویند؟ (۵/۰ نمره)</p> <p>الف) موقعیت جغرافیایی <input type="checkbox"/> ب) عرض جغرافیایی <input type="checkbox"/> ج) مختصات جغرافیایی <input type="checkbox"/> د) طول جغرافیایی <input type="checkbox"/></p>	فصل اول
	<p>۳- منظور از اعتدالین چیست؟ (۱ نمره)</p> <p>@azmonemotaleat کانال مطالعات اجتماعی</p>	

مطالعات نهم - فصل اول - خرداد ۱۳۹۷ - خراسان رضوی

فصل اول : سیاره ما، زمین	
بارم ۲/۵ نمره	
۰/۵	سیاره های درونی منظومه خورشیدی از گازهای مختلف تشکیل شده اند . <input type="checkbox"/> درست <input type="checkbox"/> نادرست
۰/۵	دایره های فرضی که در هر دو نیمکره به موازات استوا رسم شده اند را می نامند .
۰/۵	ما ایرانیان به کدام سمت نماز می خوانیم ؟ الف - شمال شرقی <input type="checkbox"/> ب - جنوب غربی <input type="checkbox"/> ج - جنوب شرقی <input type="checkbox"/> د - شمال غربی <input type="checkbox"/>
۱	سال کبیسه را تعریف کنید.

[@azmonemotaleat](https://www.instagram.com/azmonemotaleat)

کانال مطالعات اجتماعی

مطالعات نهم – فصل اول – خرداد ۱۳۹۷ – خراسان رضوی – صبح

فصل اول : سیاره ما، زمین بارم ۲/۵ نمره	
۰/۵	تعداد قمرها در سیاره های بیرونی ، کمتر از سیارات درونی است . درست <input type="checkbox"/> نادرست <input type="checkbox"/>
۰/۵	فاصله یک مکان تا نصف النهار مبدا بر حسب درجه را آن مکان می گویند . الف - عرض جغرافیایی <input type="checkbox"/> ب - موقعیت مکانی <input type="checkbox"/> ج - طول جغرافیایی <input type="checkbox"/> د - مختصات جغرافیایی <input type="checkbox"/>
۱	حرکت وضعی زمین را تعریف کنید . @azmonemotaleat
۰/۵	<div style="display: flex; justify-content: space-between;"> <div style="width: 45%;"> <p>کدام مورد از کاربردهای ساعت واقعی است ؟</p> <p>الف - تعیین قرار ملاقات ها <input type="checkbox"/></p> <p>ب - روزه گرفتن و اقامه نماز <input type="checkbox"/></p> <p>ج- برنامه حرکت قطارها <input type="checkbox"/></p> <p>د - زمان شروع به کار ادارات <input type="checkbox"/></p> </div> <div style="width: 45%; text-align: right;"> <p>کانال مطالعات اجتماعی</p> </div> </div>

مطالعات نهم – فصل اول – خرداد ۱۳۹۷ – البرز – عصر

سؤالات فصل اول

۰/۱۵	۲۰	به مکان دقیق قرار گرفتن هر پدیده بر روی زمین چه می گویند؟ الف- مدار <input type="checkbox"/> ب- نصف النهار <input type="checkbox"/> ج- موقعیت مکانی <input type="checkbox"/> د- حرکت ظاهری <input type="checkbox"/>
۰/۱۵	۲۱	فاصله هر مکان تا مدار <u>استوا</u> ، بر حسب درجه را آن مکان می گویند.
۱/۱۵	۲۲	پاسخ کوتاه دهید. الف: ایران در نیمکره ی شمالی قرار دارد یا نیمکره ی جنوبی؟ ب: یک مورد از نتایج حرکت انتقالی زمین را بنویسید..... ج: تنها قمر زمین چیست؟

[@azmonemotaleat](https://www.instagram.com/azmonemotaleat)

کانال مطالعات اجتماعی

مطالعات نهم - فصل اول - خرداد ۱۳۹۷ - البرز - صبح

سؤالات فصل اول	
+۱۵	<p>۱۹ صحیح و غلط بودن جملات زیر را مشخص کنید.</p> <p>الف: در سیارات بیرونی تعداد قمرها بیشتر است. <input type="checkbox"/> ص <input type="checkbox"/> غ</p> <p>ب: سومین سیاره‌ی منظومه‌ی خورشیدی مشتری است. <input type="checkbox"/> ص <input type="checkbox"/> غ</p>
۱	<p>۲۰ با کلمه مناسب کامل کنید.</p> <p>الف: به چهار سیاره‌ی دورتر از خورشید سیاره‌های می‌گویند .</p> <p>ب : سال ۳۶۶ روزه را سال می‌نامند .</p>
۱	<p>۲۱ انقلاب تابستانی را توضیح دهید.....</p> <p>.....</p>