

ردیف	سؤالات	صفحه اول	بارم											
۱	متن زیر را بخوانید و در صورت لزوم آن را اصلاح کنید. «جایگاه کشورها در اقتصاد جهانی متفاوت است. اقتصاد برخی کشورها مبتنی بر تولید و صدور مواد اولیه و منابع انرژی است و درآمد برخی دیگر از راه فروش انواع کالاهای کارخانه‌ای و صنعتی به دست می‌آید. بنابراین اقتصاد کشورهای جهان در برابر نوسانات قیمت، در بازارهای جهانی آسیب‌پذیر است و شاخص‌های توسعه انسانی که ملاک سنجش کشورها از نظر توسعه است عبارتند از: ۱- درآمد و رفاه ۲- نرخ مولید ۳- سواد و آموزش»	۰/۵												
۲	جملات درست و نادرست را مشخص کنید و جملات نادرست را اصلاح نمایید. الف) به محصولات کشاورزی استوایی، پلانتیشن نیز گفته می‌شود. ب) ناحیه رور آلمان و فرانسه و ایتالیا از نواحی صنعتی مهم اروپای غربی هستند. ج) آب‌های داخلی و دریای سرزمینی، در حاکمیت کشور ساحلی قرار دارند. د) به علم اداره یک کشور، سیاست می‌گویند.	۱/۵												
۳	جملات ستون سمت راست را به‌طور مناسب به عبارت‌های ستون سمت چپ وصل کنید (یک مورد اضافی است)	<table border="1"> <thead> <tr> <th>ستون اول</th> <th>ستون دوم</th> </tr> </thead> <tbody> <tr> <td>۱) جمهوری اسلامی ایران</td> <td>الف) ناحیه سیاسی ملی</td> </tr> <tr> <td>۲) نخجوان</td> <td>ب) ناحیه سیاسی فرا ملی</td> </tr> <tr> <td>۳) شهر تهران</td> <td>ج) ناحیه سیاسی ویژه</td> </tr> <tr> <td></td> <td>د) ناحیه سیاسی فروملی</td> </tr> </tbody> </table>	ستون اول	ستون دوم	۱) جمهوری اسلامی ایران	الف) ناحیه سیاسی ملی	۲) نخجوان	ب) ناحیه سیاسی فرا ملی	۳) شهر تهران	ج) ناحیه سیاسی ویژه		د) ناحیه سیاسی فروملی	۰/۷۵	
ستون اول	ستون دوم													
۱) جمهوری اسلامی ایران	الف) ناحیه سیاسی ملی													
۲) نخجوان	ب) ناحیه سیاسی فرا ملی													
۳) شهر تهران	ج) ناحیه سیاسی ویژه													
	د) ناحیه سیاسی فروملی													
۴	عبارت مناسب را از داخل کمانک انتخاب کنید. الف) بیشتر برنج آسیا، در آسیای (جنوب غربی - شرقی) کشت می‌شود. ب) عنصر بنیادین یک کشور (ملت - حکومت) است. ج) در کشورهایی که دارای نظام سیاسی (تک ساخت - فدرال) هستند، قدرت سیاسی از پایتخت به سایر نواحی کشور اعمال می‌شود. د) نظریه فضای حیاتی، توسط (مکنیدر - راتزل) مطرح شده است.	۱												
۵	در جای خالی عبارت مناسب را بنویسید. الف) هر ناحیه سیاسی، دارد که محل تمرکز قدرت سیاسی است. ب) تأسیس پارک‌های مخصوص بانوان در سطح کشور تأثیر حکومت را بر فضای جغرافیایی نشان می‌دهد. ج) اگر کشوری از زیادی برخوردار باشد می‌تواند اهداف و خواسته‌های ملت خود را بدون مانع تأمین کند. د) کشورهایی که بین دو یا چند قدرت بزرگ قرار دارند، کشورهای نامیده می‌شوند.	۱												

ردیف	سؤالات	صفحه دوم	بارم
۶	<p>گزینه مناسب را انتخاب کنید.</p> <p>الف) کدام مورد مفهوم صدور سرمایه را توسط کشورهای سلطه‌گر نشان می‌دهد.</p> <p>۱- وارد کردن فشارهای سیاسی به حکومت‌ها</p> <p>۲- ایجاد کارخانه‌های مونتاژ در سایر کشورها</p> <p>۳- سرمایه‌گذاری شرکت‌های محلی در دیگر مناطق جهان</p> <p>۴- استعمارگری اروپایی‌ها در سطح جهان با وقوع انقلاب صنعتی</p> <p>ب) کدام کشورها به ترتیب در گروه کشورهای نیمه پیرامون، مرکز و پیرامون قرار می‌گیرند؟</p> <p>۱- کره جنوبی - آلمان - فرانسه</p> <p>۲- ژاپن - مراکش - پرو</p> <p>۳- سنگاپور - بنگلادش - کانادا</p> <p>۴- چین - انگلستان - افغانستان</p>	۰/۵	
۷	<p>بیان‌دهید و به سؤالات پاسخ کوتاه دهید.</p> <p>الف) چرا جغرافی دانان سطح زمین را ناحیه‌بندی می‌کنند؟ (۰/۷۵)</p> <p>ب) با ذکر یک مثال بیان کنید «چگونه نواحی به فعالیت‌های انسان‌ها شکل می‌دهند.»؟ (۰/۷۵)</p> <p>ج) به نظر شما چرا نواحی قطبی، کمترین انرژی را از خورشید دریافت می‌کنند؟ (۰/۷۵)</p> <p>د) با رسم یک مدل، فرآیند تشکیل باد را نمایش دهید. (۰/۵)</p> <p>هـ) چرا سرعت هوازدگی در سنگ‌ها متفاوت است؟ (۰/۷۵)</p> <p>و) به چه دلیل با افزایش ارتفاع سطح زمین، از تراکم پوشش گیاهی کاسته می‌شود؟ (۰/۵)</p> <p>ز) امروزه کدام نوع پخش فرهنگی حتی در نواحی دور افتاده قابل مشاهده است؟ (۰/۲۵)</p>	۴	
۸	<p>اصطلاحات زیر را تعریف کنید.</p> <p>الف) کشت و صنعت</p> <p>ب) مرز</p>	۱ ۱	
۹	<p>به تصویر توجه کنید و به سؤالات پاسخ دهید.</p> <p>الف) نوع فعالیت اقتصادی را تعیین کنید.</p> <p>ب) دلیل اهمیت فعالیت اقتصادی موردنظر را بنویسید.</p>		۰/۷۵
<p>دانلود از اپلیکیشن پادرس </p>			

سؤالات امتحان درس: جغرافیا

بسمه تعالی

پایه و رشته: یازدهم

جمهوری اسلامی ایران

اداره کل آموزش و پرورش شهر تهران

اداره آموزش و پرورش منطقه ۲ تهران

نام دبیر: کاریان

دبیرستان فرهنگ رضوان

نام و نام خانوادگی:

نیمسال دوم سال تحصیلی: ۹۷ - ۱۳۹۶

شماره کارت:


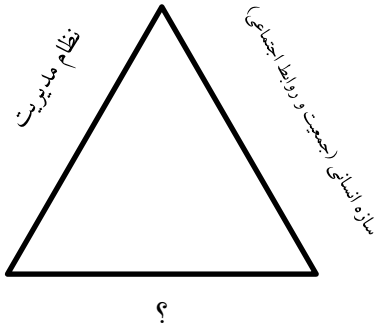
ساعت امتحان: ۸ صبح

زمان امتحان: ۸۰ دقیقه

تعداد سؤال: ۲۰

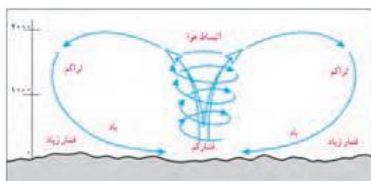
تعداد صفحات: ۴

تاریخ امتحان: ۱۳۹۷/۰۳/


ردیف	سؤالات	صفحه سوم	بارم
۱۰	چرا به نظر کارشناسان محیط‌زیست؛ خطر فرسایش و ضعیف شدن خاک در کشت تک محصولی زیاد است؟		۰/۵
۱۱	با توجه به تصویر مقابل: الف) نوع موازنه تجاری را مشخص کنید. ب) سه مورد از اقدامات کشورها را در جهت رونق اقتصادی نام ببرید؟		۱
۱۲	به چه دلیل برخی از مناطق آزاد تجاری در رسیدن به اهداف خود موفق نبوده‌اند؟		۰/۵
۱۳	الف) مدل مقابل را کامل کنید. ب) کدام مفهوم را در جغرافیای سیاسی بیان می‌کند؟		۰/۵
۱۴	تفاوت میان کشور و شهرستان را به‌عنوان یک ناحیه سیاسی بیان کنید.		۰/۷۵
۱۵	به‌چه دلیل در روده‌های قابل کشتیرانی، تالوگ بهترین خط مرزی است؟		۰/۷۵
۱۶	انواع مرز را از نظر پیدایش و شکل‌گیری مشخص کنید. الف) کانادا و آلاسکا ب) کره شمالی و جنوبی ج) هند و پاکستان		۰/۷۵

ردیف	سؤالات	صفحه‌ی چهارم	بارم
۱۷	دو مورد از قابلیت‌های محیطی مناسب، را در انتخاب یک مکان به‌عنوان پایتخت نام ببرید.	۰/۵	
۱۸	چرا حکومت‌ها و ملت‌ها باید عوامل پیدایش و بقای کشور خود را بشناسند و برای حفظ و تقویت آن‌ها بکوشند؟	۰/۷۵	
۱۹	در میان کشورهای زیر، کدام‌یک از شکل بهتری برخوردار می‌باشند؟ برای گفته خود دلیل بیاورید.	۱	
نام کشور			
	تایلند	لهستان	اندونزی
	نروژ	شیلی	ژاپن
۲۰	چرا امروزه خلیج فارس از مناطق ژئوپلیتیکی جهان به‌شمار می‌آید؟	۱	
	موفق باشید	جمع بarm	۲۰

۰/۵	۱- اقتصاد کشورهای دسته اول (۰/۲۵) (که اقتصادشان مبتنی بر صدور مواد اولیه) است در برابر نوسانات قیمت در بازارهای جهانی آسیب پذیر است. ملاک سنجش کشورها از نظر توسعه: ۱- درآمد و رفاه ۲- امید به زندگی (۰/۲۵) ۳- سواد و آموزش است.
۱/۵	۲- الف) نادرست (۰/۲۵) به مزارع وسیعی که این محصولات در آنجا کاشته می شوند پلانتیشن گفته می شود. (۰/۲۵) ب) نادرست (۰/۲۵) شمال ایتالیا از نواحی صنعتی اروپای غربی است (۰/۲۵) ج) درست (۰/۲۵) د) درست (۰/۲۵)
۰/۷۵	۳- ۱- جمهوری اسلامی ایران ← ناحیه سیاسی ملی است (۰/۲۵) قسمت الف ۲- نخجوان ← ناحیه سیاسی ویژه است (۰/۲۵) قسمت ج ۳- شهر تهران ← ناحیه سیاسی فرم ملی است. (۰/۲۵) قسمت د
۱	۴- الف) شرقی (۰/۲۵) ب) ملت (۰/۲۵) ج) تک ساخت (۰/۲۵) د) راتزل (۰/۲۵)
۱	۵- الف) کانونی (۰/۲۵) ب) ایدئولوژی (۰/۲۵) ج) قدرت ملی (۰/۲۵) د) حائل (۰/۲۵)
۰/۵	۶- الف) گزینه ۲ ← ایجاد کارخانه های مونتاژ در سایر کشورها (۰/۲۵) ب) گزینه ۴ ← چین - انگلستان - افغانستان (۰/۲۵)
۰/۷۵	۷- الف) برای شناخت بهتر و اسان تر مکان های مختلف (۰/۲۵) و علمی کردن مطالعات و تحقیقات درباره این مکان ها (۰/۲۵) و برنامه ریزی صحیح تر (۰/۲۵)
۰/۵	ب) احداث تونل برای عبور قطار در ناحیه کوهستانی (۰/۲۵) محدودیت ها و موانع طبیعی موجب می شود انسان ها برای کنترل محیط چاره اندیشی کنند. (۰/۲۵)
۰/۷۵	ج) به دلیل مایل بودن محور زمین (۰/۲۵) بر مدار گردش انتقالی آن به دور خورشید (۰/۲۵) که سبب می شود زاویه تابش خورشید به سمت قطب، مایل و مایل تر شود (۰/۲۵)
۰/۵	د) رسم مدل (۰/۲۵) نمایش جهت پیکان هوای پرفشار به سمت کم فشار (۰/۲۵)
۰/۷۵	ه) زیرا به عواملی مانند جنس سنگ ها (۰/۲۵) نوع آب و هوا (۰/۲۵) و زمان بستگی دارند (۰/۲۵)



صفحه ۲

۰/۵	و) زیرا با افزایش ارتفاع، دمای هوا کاهش می‌یابد (۰/۲۵) و در مناطق مرتفع و پرشیب خاک ضخامت چندانی ندارد (۰/۲۵)
۰/۲۵	ز) پخش فرهنگی غیرمستقیم یا نوع دوم آن (۰/۲۵)
۱	۸- الف) به کارخانه‌هایی که معمولاً در کنار مزارع (۰/۲۵) برای تبدیل (۰/۲۵) بسته بندی (۰/۲۵) و توزیع محصولات در بازارهای مصرف پدید می‌آیند گفته می‌شود. (۰/۲۵)
۱	ب) خطی اعتباری و قراردادی است (۰/۲۵) که برای تعیین حدود یک ناحیه سیاسی (۰/۲۵) از جمله کشور (۰/۲۵) بر روی زمین مشخص می‌شود. (۰/۲۵)
۰/۷۵	۹- الف) فعالیت اقتصادی نوع اول (کشاورزی) (۰/۲۵) ب) یکی از نیازها و نگرانی‌های مهم بشر، امروز تأمین غذاست. (۰/۲۵) و امنیت غذایی جزء اهداف و برنامه‌های مهم همه کشورها است (۰/۲۵)
۰/۵	۱۰- زیرا مزارع سالیان متمادی (۰/۲۵) به کشت یک محصول اختصاص می‌یابد (۰/۲۵)
۱	۱۱- الف) موازنه تجاری منفی (۰/۲۵) ب) وضع تعرفه‌های گمرکی (۰/۲۵) محدود یا ممنوع کردن واردات برخی کالاها در دوره‌های زمانی خاص (۰/۲۵) تشکیل اتحادیه‌های اقتصادی- تجاری منطقه‌ای (۰/۲۵)
۰/۵	۱۲- زیرا در برخی کشورها مناطق آزاد به پایگاه واردات تبدیل شده‌اند (۰/۲۵) و نتوانسته‌اند به توسعه اقتصادی کشور کمک کنند. (۰/۲۵)
۰/۵	۱۳- الف) قلمرو جغرافیایی (۰/۲۵) ب) با هدف معرفی ارکان ناحیه سیاسی ترسیم شده است. (۰/۲۵)
	
۰/۷۵	۱۴- شهرستان مانند کشور یک ناحیه سیاسی است اما کشور دارای نظام سیاسی (حکومت) است (۰/۲۵) و بر امور داخلی و خارجی خود (۰/۲۵) حاکمیت دارد. (۰/۲۵)
۰/۷۵	۱۵- چون هر دو کشور (۰/۲۵) حق کشتی‌رانی (۰/۲۵) در دو طرف آن را دارند (۰/۲۵)
۰/۷۵	۱۶- الف) پیشتاز (۰/۲۵) ب) تحمیلی (۰/۲۵) ج) تطبیقی (۰/۲۵)
۰/۵	۱۷- دسترسی به آب (۰/۲۵) و اراضی حاصلخیز (۰/۲۵)
۰/۷۵	۱۸- در صورتی که عوامل پیدایش و بقای یک کشور (۰/۲۵) (هویت ملی، همبستگی ملی و پیوستگی سرزمینی) تضعیف شوند (۰/۲۵) آن کشور در خطر نابودی و فروپاشی قرار می‌گیرند. (۰/۲۵)
۱	۱۹- لهستان (۰/۲۵) زیرا در کمترین زمان می‌توان از مرکز به تمام نقاط آن دسترسی پیدا کرد (۰/۲۵) قابلیت دفاعی کشور زیاد است (۰/۲۵) خطوط ارتباطی راحت‌تر انجام می‌شود. (۰/۲۵)
۱	۲۰- چون در آن سه عامل جغرافیا (۰/۲۵) سیاست (۰/۲۵) و قدرت (۰/۲۵) بر یکدیگر تأثیر می‌گذارند و توجه حکومت‌ها به ویژه قدرت‌های جهانی را به خود جلب می‌کند. (۰/۲۵)

جمع بارم ۲۰ نمره

موفق باشید