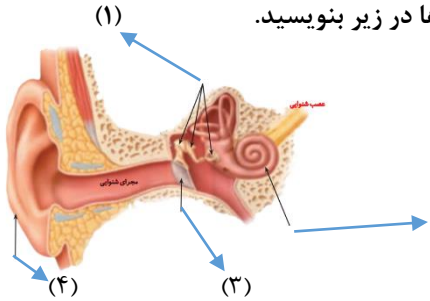




ردیف	سوالات																
۱	<p>گزینه درست را انتخاب کنید.</p> <p>-در کدام وسیله عدسی به کار رفته است؟</p> <p>۱- پریسکوپ <input type="checkbox"/> ۲- کوره آفتابی <input type="checkbox"/> ۳- آینه <input type="checkbox"/> ۴- میکروسکوپ <input type="checkbox"/></p> <p>-از کدام یک از جانوران زیر فسیل بهتری درست می شود؟</p> <p>۱- ماهی <input type="checkbox"/> ۲- کرم خاکی <input type="checkbox"/> ۳- هشت پا <input type="checkbox"/> ۴- عنکبوت <input type="checkbox"/></p> <p>-پرده شفاف چشم چه نام دارد؟</p> <p>۱- عنیبه <input type="checkbox"/> ۲- زجاجیه <input type="checkbox"/> ۳- شبکیه <input type="checkbox"/> ۴- قرنیه <input type="checkbox"/></p> <p>-حرکت کدام ماهیچه ها ارادی می باشد؟</p> <p>۱- روده-معدده <input type="checkbox"/> ۲- بازو-ران <input type="checkbox"/> ۳- قلب-رگ ها <input type="checkbox"/> ۴- مری-روده <input type="checkbox"/></p>																
۲	<p>جاهای خالی را با گزینه های (الف یا ب) کامل کنید</p> <p>-هر چه بال فرفره پهن تر باشد فرفره به زمین می رسد. الف: زودتر ب: دیرتر</p> <p>-شکر در چای زودتر حل می شود. الف: سرد ب: داغ</p> <p>-وقتی آهن زنگ می زند مقاومتش می شود. الف: کم ب: زیاد</p> <p>-درست کردن ماست به صورت می گیرد. الف: کندی ب: تند</p>																
۳	<p>درست یا نادرست بودن عبارات زیر را مشخص کنید.</p> <p>ص غ</p> <p><input type="checkbox"/> <input type="checkbox"/></p> <p>- با زیاد و کم شدن نور مردمک چشم تنگ یا گشاد می شود.</p> <p>-استخوان ها با رشته های محکم به هم وصل شده اند.</p> <p>-در خشکی فسیل بیشتری درست می شود.</p> <p>-انسان در تمام تغییرات مواد دخالت دارد.</p>																
۴	<p>هر عبارت را به کلمه مناسب وصل کنید</p> <table border="1"> <tbody> <tr> <td>تصویر اجسام را روی پرده نشان می دهد</td> <td><input type="checkbox"/></td> <td><input type="checkbox"/></td> <td>عدسی</td> </tr> <tr> <td>نور خورشید را تجزیه می کند</td> <td><input type="checkbox"/></td> <td><input type="checkbox"/></td> <td>کانون</td> </tr> <tr> <td>آن را از شیشه یا پلاستیک شفاف می سازند</td> <td><input type="checkbox"/></td> <td><input type="checkbox"/></td> <td>منشور</td> </tr> <tr> <td>ذره بین نور را در این نقطه جمع میکند</td> <td><input type="checkbox"/></td> <td><input type="checkbox"/></td> <td>ذره بین</td> </tr> </tbody> </table>	تصویر اجسام را روی پرده نشان می دهد	<input type="checkbox"/>	<input type="checkbox"/>	عدسی	نور خورشید را تجزیه می کند	<input type="checkbox"/>	<input type="checkbox"/>	کانون	آن را از شیشه یا پلاستیک شفاف می سازند	<input type="checkbox"/>	<input type="checkbox"/>	منشور	ذره بین نور را در این نقطه جمع میکند	<input type="checkbox"/>	<input type="checkbox"/>	ذره بین
تصویر اجسام را روی پرده نشان می دهد	<input type="checkbox"/>	<input type="checkbox"/>	عدسی														
نور خورشید را تجزیه می کند	<input type="checkbox"/>	<input type="checkbox"/>	کانون														
آن را از شیشه یا پلاستیک شفاف می سازند	<input type="checkbox"/>	<input type="checkbox"/>	منشور														
ذره بین نور را در این نقطه جمع میکند	<input type="checkbox"/>	<input type="checkbox"/>	ذره بین														

ردیف	سوالات						
۵	<p>به سوالات زیر پاسخ کوتاه دهید.</p> <p>- به تغییراتی که در آن شکل و اندازه ماده تغییر می کند اما جنس ماده تغییر نمی کند چه می نامند؟</p> <p>- وسایل آهنی در چه هوای سریعتر زنگ می زند؟</p> <p>- به کمک چه چیزی می توان تصویر اشیاء را روی صفحه نمایش داد؟</p>						
۶	<p>قسمت های مشخص شده مدل گوش را با توجه به شماره گذاری ها در زیر بنویسید.</p>  <p>.....-۱</p> <p>.....-۲</p> <p>.....-۳</p> <p>.....-۴</p>						
۷	<p>هر کدام از تصاویر روبرو چه نوع فسیلی هستند اسامی آن ها را در زیر هر کدام بنویسید.</p>  <p>.....</p>						
۸	<p>تغییرهای روبرو را در محل مناسب بنویسید. پختن غذا - رشد گیاهان - سوختن جنگل - پوسیدن کاغذ</p> 						
۹	<p>۳ مورد از راه های مراقبت از چشم را بنویسید.</p> <p>.....: ۱</p> <p>.....: ۲</p> <p>.....: ۳</p>						
۱۰	<p>دانشمندان با مطالعه فسیل ها به چه اطلاعاتی دست می یابند؟</p> <p>جواب:</p>						
۱۱	<p>جاهای خالی را با کلمات مناسب داده شده کامل کنید. (نخاع - مغز - عصب)</p> <table border="1" data-bbox="233 1704 874 1854"> <tr> <td>.....</td> <td>کنترل فعالیت های بدن را برعهده دارد</td> </tr> <tr> <td>.....</td> <td>انتقال فرمان ها به قسمت های مختلف بدن</td> </tr> <tr> <td>.....</td> <td>مسئول و فرمانده همه کارهای بدن است</td> </tr> </table>	کنترل فعالیت های بدن را برعهده دارد	انتقال فرمان ها به قسمت های مختلف بدن	مسئول و فرمانده همه کارهای بدن است
.....	کنترل فعالیت های بدن را برعهده دارد						
.....	انتقال فرمان ها به قسمت های مختلف بدن						
.....	مسئول و فرمانده همه کارهای بدن است						
۱۲	<p>چرا همیشه رنگین کمان در آسمان نیست؟ جواب:</p>						

نظر آموزگار از امتحان دانش آموز: خیلی خوب خوب قابل قبول نیاز به تلاش بیشتر

پیاموز | Biamoz.com

بزرگترین مرجع آموزشی و نمونه سوالات درسی تمامی مقاطع

شامل انواع | نمونه سوالات | فصل به فصل | پایان ترم | جزوه |

ویدئوهای آموزشی | گام به گام | طرح درس | طرح جابر | و ...

اینستاگرام

گروه تلگرام

کانال تلگرام

برای ورود به هر پایه در سایت ما روی اسم آن کلیک کنید

دبستان

اول	دوم	سوم	چهارم	پنجم	ششم
-----	-----	-----	-------	------	-----

متوسطه اول

هفتم	هشتم	نهم
------	------	-----

متوسطه دوم

دهم	یازدهم	دوازدهم
-----	--------	---------