

۱- دختر گلم ، جای خالی را کامل کنید .

( الف ) عدد ۴۰۰۰۰۰۰ از ۴۰۰ تا ..... تشکیل شده است .

( ب ) ۱۰ تا ۲۰۰ میلیون می شود .....

۲- عملیات زیر را انجام دهید .

$$\text{الف) } 5\frac{1}{2} - 1\frac{1}{3} =$$

$$\text{ب) } 2\frac{1}{5} + 2\frac{1}{2} =$$

$$\text{ج) } 14 - 2\frac{3}{4} =$$

۳- ۲ روز و ۸ ساعت بعد از ساعت ۹ بعد از ظهر روز دوشنبه چه ساعت از چه روزی است ؟

۴- با پیدا کردن رابطه بین اعداد جدول را کامل کنید و به سوالات پاسخ دهید .

ش ش	۱	۲	۳	.....	۲۵
تعداد دایره	۳	۶	۹		

( الف ) شکل شانزدهم از چند دایره تشکیل شده است ؟

( ب ) آیا شکلی وجود دارد از ۲۳ دایره تشکیل شده باشد ؟ چرا ؟

۵- دختر گلم، کسر را به عدد مخلوط و عدد مخلوط را به کسر تبدیل کن.

$$\frac{69}{8} =$$

$$۱۰ \frac{3}{7} =$$

۶- ضرب و تقسیم های زیر را انجام دهید.

$$۴ \times \frac{3}{8} =$$


$$\frac{6}{7} \div ۴ =$$

$$\div \frac{1}{4} =$$


$$۳ \frac{1}{4} \times ۷ \frac{2}{3} =$$

۷- مقایسه کنید.

$$\frac{4}{6} \bigcirc \frac{8}{5}$$

۸      ۴۱      ۳۲      

$$۴ \frac{7}{7} \bigcirc \frac{30}{6}$$

۸      ۴۱      ۳۵      

$$\frac{7}{12} \bigcirc \frac{3}{4}$$


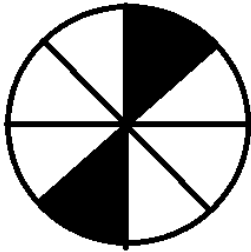
۸- اگر ۸ کیلوگرم چای را در بسته های  $\frac{1}{4}$  کیلوگرمی بریزیم چند بسته می شود؟

۹- دبستانی ۳۰۰ دانش آموز دارد. ۲۵ درصد آن ها برای خرید کتاب به نمایشگاه رفتند. چند نفر به نمایشگاه رفته اند؟

۱۰- برای ساختن نوعی بتن، ۷ پیمانه ماسه را با ۲ پیمانه سیمان مخلوط کردیم. در ۱۸۹ پیمانه از این مخلوط چند پیمانه ماسه و چند پیمانه سیمان وجود دارد؟

۱۱- کسری مساوی  $\frac{7}{13}$  بنویسید که صورت آن ۵۶ باشد .

۱۲- چند درصد از شکل های زیر رنگ شده است ؟



موفق باشید عزیزانم عطا طلب

۱- الف ( ۱۰۰۰۰ )

(ب) ۲ میلیارد

-۲

$$\text{الف)} \quad 5\frac{1}{2} - 1\frac{1}{3} = 5\frac{3}{6} - 1\frac{2}{6} = 4\frac{1}{6}$$

$$\text{ب)} \quad 2\frac{1}{5} + 2\frac{1}{2} = 2\frac{2}{10} + 2\frac{5}{10} = 4\frac{7}{10}$$

$$\text{ج)} \quad 14 - 2\frac{3}{4} = 13\frac{4}{4} - 2\frac{3}{4} = 11\frac{1}{4}$$

-۳ ۵ صبح روز ۵ شنبه

-۴

شش	۱	۲	۳	۱۰	۲۵
تعداد دایره	۳	۶	۹	۳۰	۷۵

$$\text{الف)} \quad 16 \times 3 = 48$$

(ب) خیر - زیرا 23 بر 3 بخش پذیر نیست .

-5

$$\frac{69}{8} = 8\frac{5}{8}$$

$$10\frac{3}{7} = \frac{73}{7}$$

-6

$$4 \times \frac{3}{8} = \frac{12}{8} = \frac{3}{2}$$

$$\frac{6}{7} \div 4 = \frac{6}{7} \times \frac{1}{4} = \frac{6}{42} = \frac{3}{21}$$

$$9 \div \frac{1}{4} = 9 \times \frac{4}{1} = 36$$

$$3\frac{1}{4} \times 5\frac{2}{3} = \frac{13}{4} \times \frac{23}{3} = \frac{299}{12} = 24\frac{11}{12}$$

$$\frac{4}{6} < \frac{8}{5}$$

$$۴ \frac{7}{7} = \frac{30}{6}$$

$$\frac{7}{12} < \frac{3}{4} \quad -7$$

$$۸ \quad ۴۱ \quad ۳۲ \quad <$$

$$۸ \quad ۴۱ \quad ۳۵$$

$$8 \div \frac{1}{4} = 8 \times 4 = 32$$

-8

75	25
300	100

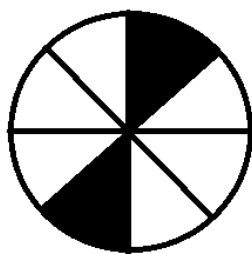
-9

7	147
2	42
9	189


-10

7	56
13	104

-11



2	25
8	100



4	50
8	100

-12