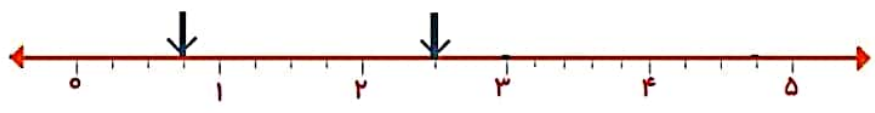

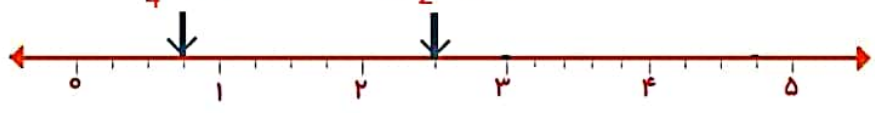




	<p>۱ صحیح و غلط بودن را سوالات زیر را مشخص کنید . الف- عدد ۲۰۵۶ بر عدد ۳ و ۲ بخشپذیر است . ب- ارزش مکانی رقم ۸ در عدد ۵۸۹۳۶۴۵ دهگان هزار می باشد. ج- حاصل ضرب هر عدد در معکوس خودش برابر یک است . د- به عدد های ۱ ، ۲ ، ۳ و اعداد طبیعی می گویند.</p> <p>□ صحیح □ غلط □ صحیح □ غلط □ صحیح □ غلط □ صحیح □ غلط</p>	<p>۱</p>
	<p>۲ جاهای خالی را کامل کنید . الف- در الگوی اعداد در علامت مربع عدد..... قرار می گیرد . □ ۲۵ ۱۶ ۹ ۴ ۱ ب - وقتی شکلی به اندازه ی.....حول نقطه ای بچرخد و روی خودش منطبق شود می گوئیم شکل.....دارد ج - حاصل ضرب ۱۰۰ \times $\frac{5}{32}$ برابر است با</p>	<p>۲</p>
	<p>۳ گزینه ی صحیح را علامت بزنید . الف- کدام عدد بر ۲ ، ۵ ، ۹ و بخشپذیر است ؟ □ ۵۲۰ □ ۶۳۰ □ ۵۴۹ □ ۹۵۰ ب- گسترده ی یک عدد اعشاری ($0.6 + \frac{0}{2} + 5 + 80$) می باشد . عدد آن کدام گزینه است ؟ □ $\frac{85}{26}$ □ $\frac{85}{406}$ □ $\frac{805}{026}$ □ $\frac{85}{206}$ ج- کدام عدد اعشاری بزرگ تر می باشد ؟ □ $\frac{14}{25}$ □ $\frac{14}{205}$ □ $\frac{14}{205}$ □ $\frac{14}{2}$</p>	<p>۳</p>
	<p>۴ عدد $\frac{14}{875}$ را به حروف نوشته و در جدول ارزش مکانی قرار دهید .</p>	<p>۴</p>
	<p>۵ نقطه های روی محور کدوم عدد اعشاری را نشان می دهند ؟</p> 	<p>۵</p>
	<p>۶ علی ثلث کتابش را دیروز و نصف باقی مانده را امروز خواند . اگر ۱۵ صفحه ی دیگر از کتاب مانده باشد . تعداد کل صفحات کتاب را به دست آورید .</p>	<p>۶</p>

۷	<p>حاصل تقسیم ها را بدست آورید</p> $56/8 \quad \quad 6$ $68/7 \quad \quad 2/1$
۸	<p>مساحت باغچه ای به طول $5/4$ و عرض $3/2$ متر را محاسبه کنید .</p>
۹	<p>اعداد زیر را از کوچک به بزرگ مرتب کنید</p> $1 - \frac{3}{4} * 2 * -1 * 2/25 * 1/2$
۱۰	<p>دمای هوای شهر مشهد دیروز 2 درجه بالای صفر بود . اگر دمای هوا امروز 5 درجه سردتر باشد . دمای هوای امروز چند درجه است ؟ (با کمک رسم محور)</p>
۱۱	<p>ضرب و تقسیم کسر ها را انجام دهید .</p> $3 \frac{3}{4} \times \frac{2}{5} =$ $\frac{5}{8} \div \frac{3}{4} =$
۱۲	<p>قرینه ی شکل های زیر را نسبت به نقطه ی داده شده بکشید</p> 
۱۳	<p>حاصل عبارت های زیر را محاسبه کنید .</p> $10 \times (6 - 3/2) =$ $\frac{2}{3} + \frac{1}{8} =$ $\frac{1}{6} \times \frac{4}{9} =$
	<p>موفق و سربلند باشید</p>

	<p>۱ صحیح و غلط بودن را سوالات زیر را مشخص کنید . الف- عدد ۲۰۵۶ بر عدد ۳ و ۲ بخشپذیر است . ب- ارزش مکانی رقم ۸ در عدد ۵۸۹۳۶۴۵ دهگان هزار می باشد. ج- حاصل ضرب هر عدد در معکوس خودش برابر یک است . د- به عدد های ۱ ، ۲ ، ۳ و اعداد طبیعی می گویند.</p> <p>صحیح <input type="checkbox"/> غلط <input checked="" type="checkbox"/> صحیح <input type="checkbox"/> غلط <input checked="" type="checkbox"/> صحیح <input checked="" type="checkbox"/> غلط <input type="checkbox"/> صحیح <input checked="" type="checkbox"/> غلط <input type="checkbox"/></p>	<p>۱</p>												
	<p>۲ جاهای خالی را کامل کنید . الف- در الگوی اعداد در علامت مربع عدد.....³⁶ قرار می گیرد . ب- وقتی شکلی به اندازه ۱۸۰ درجه حول نقطه ای بچرخد و روی خودش منطبق شود می گوئیم شکل تقارن مرکزی دارد ج - حاصل ضرب ۱۰۰ \times $\frac{5}{32}$ برابر است با⁵³²</p>	<p>۲</p>												
	<p>۳ گزینه ی صحیح را علامت بزنید . الف- کدام عدد بر ۲ ، ۵ و ۹ بخشپذیر است ؟ <input type="checkbox"/> ۵۲۰ <input checked="" type="checkbox"/> ۶۳۰ <input type="checkbox"/> ۵۴۹ <input type="checkbox"/> ۹۵۰ ب- گسترده ی یک عدد اعشاری ($0.06 + 0.2 + 5 + 80$) می باشد. عدد آن کدام گزینه است ؟ <input checked="" type="checkbox"/> $\frac{85}{26}$ <input type="checkbox"/> $\frac{85}{406}$ <input type="checkbox"/> $\frac{805}{26}$ <input type="checkbox"/> $\frac{85}{206}$ ج- کدام عدد اعشاری بزرگ تر می باشد ؟ <input type="checkbox"/> $\frac{14}{2}$ <input type="checkbox"/> $\frac{14}{205}$ <input type="checkbox"/> $\frac{14}{205}$ <input checked="" type="checkbox"/> $\frac{14}{25}$</p>	<p>۳</p>												
	<p>۴ عدد $\frac{14}{875}$ را به حروف نوشته و در جدول ارزش مکانی قرار دهید . چهارده عدد صحیح و هشتصد و هفتاد و پنج هزارم</p> <table border="1" style="margin-left: 20px;"> <tr> <td>میز</td> <td>هزارم</td> <td>صدم</td> <td>دهم</td> <td>یکان</td> <td>دهگان</td> </tr> <tr> <td></td> <td>5</td> <td>7</td> <td>8</td> <td>4</td> <td>1</td> </tr> </table>	میز	هزارم	صدم	دهم	یکان	دهگان		5	7	8	4	1	<p>۴</p>
میز	هزارم	صدم	دهم	یکان	دهگان									
	5	7	8	4	1									
	<p>۵ نقطه های روی محور محور کدام عدد اعشاری را نشان می دهند ؟</p> <p>$\frac{3}{4} = 0.75$ $2\frac{1}{2} = 2.5$</p> 	<p>۵</p>												
	<p>۶ علی $\frac{1}{3}$ کتابش را دیروز و نصف باقی مانده را امروز خواند . اگر ۱۵ صفحه ی دیگر از کتاب مانده باشد . تعداد کل صفحات کتاب را به دست آورید .</p> <table border="1" style="margin-left: 20px;"> <tr> <td>دیروز خوانده</td> <td>امروز خوانده</td> <td>باقی مانده 15 صفحه</td> </tr> </table> <p>صفحه $3 \times 15 = 45$</p>	دیروز خوانده	امروز خوانده	باقی مانده 15 صفحه	<p>۶</p>									
دیروز خوانده	امروز خوانده	باقی مانده 15 صفحه												

۷	<p>حاصل تقسیم ها را بدست آورید</p> $\begin{array}{r} 56/80 \quad 6 \\ -54 \quad 8 \\ \hline 02 \quad 8 \\ 2 \quad 4 \\ \hline 0 \quad 40 \\ 0 \quad 36 \\ \hline 04 \end{array}$ $\begin{array}{r} 68/7 \quad 2/1 \\ \hline 1/5 \quad 32 \end{array} \xrightarrow{\times 10} \begin{array}{r} 687 \quad 21 \\ 63 \quad 32 \\ \hline 057 \\ 42 \\ \hline 15 \end{array}$ <p style="text-align: center;">$\xleftarrow{\div 10}$</p>
۸	<p>مساحت باغچه ای به طول $5/4$ و عرض $3/2$ متر را محاسبه کنید .</p> <div style="display: flex; align-items: center;"> <div style="border: 1px solid red; padding: 5px; margin-right: 20px;"> <p style="text-align: center;">$5/4$</p> <p style="text-align: center;">$3/2$</p> <p style="text-align: center;">مساحت = طول \times عرض</p> </div> <div> $\begin{array}{r} 5/4 \\ \times 3/2 \\ \hline 17/28 \end{array} \xrightarrow{\times 32} \begin{array}{r} 54 \\ \times 32 \\ \hline 1728 \end{array}$ <p style="text-align: center;">$\xleftarrow{\text{به تعداد ارقام جلوی ممیز در جواب اصلی ممیز میزنیم}}$</p> </div> </div>
۹	<p>اعداد زیر را از کوچک به بزرگ مرتب کنید</p> $1/75 = 1 \frac{3}{4} * 2 * -1 * 2/25 * 1/2$ $-1 < 1/2 < 1/75 < 2 < 2/25$
۱۰	<p>دمای هوای شهر مشهد دیروز 2 درجه بالای صفر بود . اگر دمای هوا امروز 5 درجه سردتر باشد . دمای هوای امروز چند درجه است ؟ (با کمک رسم محور) 5 واحد به چپ میرویم</p> 
۱۱	<p>ضرب و تقسیم کسر ها را انجام دهید .</p> $2 \frac{3}{4} \times \frac{2}{5} = \frac{15}{4} \times \frac{2}{5} = \frac{3}{2}$ $\frac{5}{8} \div \frac{3}{4} = \frac{5}{8} \times \frac{4}{3} = \frac{5}{6}$
۱۲	<p>قرینه ی شکل های زیر را نسبت به نقطه ی داده شده بکشید</p> 
۱۳	<p>حاصل عبارت های زیر را محاسبه کنید .</p> $10 \times (6 - 3/2) = 28$ $\frac{2}{3} + \frac{1}{8} = \frac{16+3}{24} = \frac{19}{24}$ $\frac{1}{3} \times \frac{2}{9} = \frac{2}{27}$ $\frac{19}{24} \div \frac{2}{27} = \frac{19}{24} \times \frac{27}{2} = \frac{171}{16} = 10 \frac{11}{16}$
	موفق و سربلند باشید