

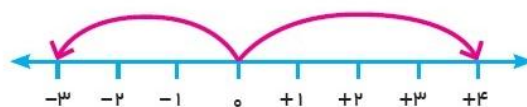
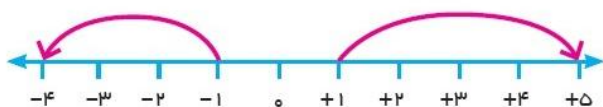
۱ حاصل جمع هر دو عدد با قرینه اش برابر صفر است. ص غ

۲ اگر ضرب دو عدد صحیح صفر باشد یکی از آنها صفر است. ص غ

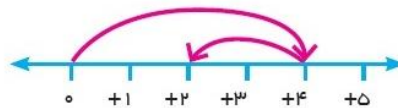
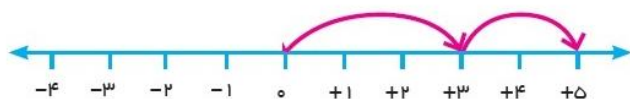
۳ عددهای صحیح سه دسته اند؛ عددهای صحیح مثبت و و

۴ اگر حاصل تقسیم دو عدد صحیح مثبت باشد، ضرب آن دو هم است.

۵ عدد مربوط به هر بردار را روی آن بنویسید.



برای هر بردار یک جمع بنویسید.



$(\dots) + (\dots) = (\dots)$

$(\dots) + (\dots) = (\dots)$

عدد ها را با هم مقایسه کنید.

$-4 \bigcirc -8$

$-27 \bigcirc 1$

$0 \bigcirc -14$

$-100 \bigcirc -1$

$+7 \bigcirc 7$

$+(-8) \bigcirc -(+8)$

گسترده عددهای زیر را بنویسید.

$1081 =$

$-435 =$

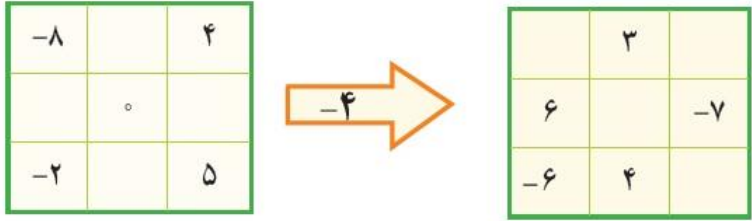

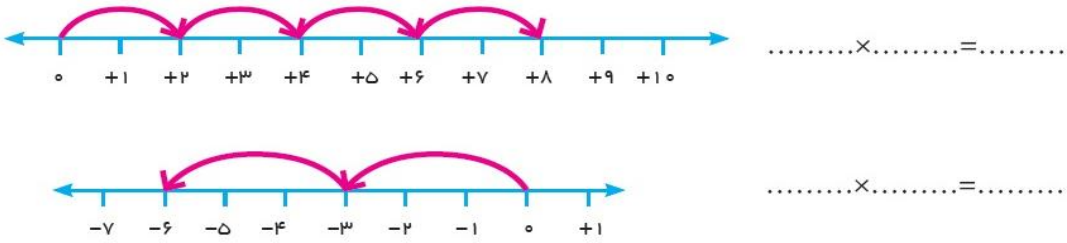
عدد قبل و بعد هر یک از عددهای زیر را بنویسید.

..... و ۴۳۱ و

..... و ۱۷۱- و

عددها را از کمتر به بیشتر و از چپ به راست مرتب کنید.

۲۳- و ۱۲ و ۳۴- و ۵- و ۰ و ۴۵ و ۱۵- و ۵ و ۱- و ۲

۱	<p>۱۱ دمای هوای شهر کرد ۲ درجه زیر صفر است. اردبیل ۸ درجه از شهر کرد سردتر است. دمای اردبیل چند درجه است؟</p>	۱۱
۲	<p>۱۲ جاهای خالی را کامل کنید.</p> 	۱۲
۱	<p>۱۳ حاصل جمع و تفریق های زیر را به روش دایره ها به دست آورید.</p> <p>$-4 - (+3) =$ $5 + (-6) =$</p>	۱۳
۲	<p>۱۴ حاصل عبارت های زیر را به دست آورید.</p> 	۱۴
۲	<p>۱۵ حاصل عبارت های زیر را از هر روشی که می دانید به دست آورید.</p> <p>$(-36) + (-17) =$ $12 + 15 - 7 =$ $(-37) - (-8) =$ $(+5) + (-2) =$</p>	۱۵
۱	<p>۱۶ برای هر بردار یک ضرب بنویسید و حاصل آن را مشخص نمایید.</p> 	۱۶
۲	<p>۱۷ جواب ؟</p> <p>$((-2) + (+3)) \times (-5) =$ $((+2) + (-7)) \div (-5) =$</p>	۱۷

نه گل باش تا اسپر خاک شوی نه باران باش تا در خاک فرو روی بلکه خاک باش تا گل از تو روید و باران به خاطر تو ببارد

محل امضاء و نظر والدین: