


تاریخ امتحان: ۱۴۰۱/۳/۱۶	بسمه تعالی	سوالات امتحان هماهنگ استان لرستان درس: ریاضی	
ساعت شروع: ۱۰:۳۰ صبح	اداره سنجش و پایش کیفیت آموزشی	نام و نام خانوادگی:	
مدت امتحان: ۱۲۰ دقیقه	پایه نهم آموزش، دوره اول متوسطه	نام کلاس:	نام پدر:
تعداد صفحه: ۲ صفحه	خرداد ماه ۱۴۰۱	نام دبیر:	

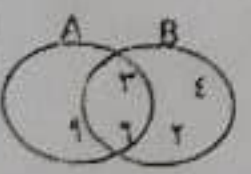
ردیف: متوقف نمی شوم وقتی که خسته ام. فقط زمانی متوقف می شوم که به هدفم رسیده باشم.

۱ جمله های درست را با « ✓ » و جمله های نادرست را با « ✗ » مشخص کنید.
 الف) مجموعه $\{0\}$ ، یک مجموعه تهی است.
 ب) در دو لوزی دلخواه، همواره متشابه هستند.
 ج) ریشه سوم عدد -27 ، عدد -3 می باشد.
 د) عبارت $xy^3 - 2x^2y + 5x^2y^2$ نسبت به توان های نزولی x مرتب شده است.

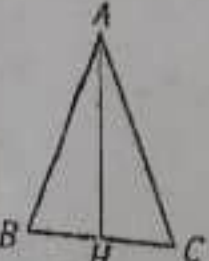
۲ در جاهای خالی، عدد یا کلمه مناسب بنویسید.
 الف) اگر C و D دو مجموعه دلخواه و $C \subseteq D$ باشد، آنگاه هر عضو عضوی از است.
 ب) مقیاس یک نقشه $1:500$ است. اگر فاصله دو نقطه روی نقشه 4 سانتی متر باشد، فاصله واقعی این دو نقطه است.
 ج) از برخورد دو خط $x = 13$ و $y = -24$ ، نقطه ای به طول و عرض به دست می آید.
 د) عبارت گویای $\frac{2x}{x-6}$ به ازای عدد تعریف نشده است.

۳ در هر یک از سوالات زیر، گزینه درست را با علامت « ✓ » مشخص کنید.
 الف) نمایش اعشاری کدام کسر، مختوم است.
 $\frac{1}{7}$ (۱) $\frac{11}{10}$ (۲) $\frac{2}{25}$ (۳) $\frac{2}{24}$ (۴)
 ب) نماد علمی کدام یک از عددهای زیر به صورت $1/0.2 \times 10^{-3}$ است.
 0.00012 (۱) 0.0012 (۲) 0.102 (۳) 0.00012 (۴)
 ج) با توجه به شکل زیر علامت شیب و عرض از مبدأ، به ترتیب از راست به چپ کدام است.
 (۱) مثبت، منفی (۲) مثبت، مثبت (۳) منفی، مثبت (۴) منفی، منفی
 د) از دوران دادن هر مثلث قائم الزامیه حول یکی از ضلع های زاویه قائمه آن، چه حجمی به دست می آید.
 (۱) نیم کره (۲) استوانه (۳) مخروط (۴) کره



۴ الف) در جاهای خالی عددی قرار دهید که مجموعه های زیر برابر باشند.
 $\{\sqrt{49}, \dots, \frac{2}{7}, 0, \frac{1}{7}\} = \{-5, \dots, 7, \dots, 15, 0\}$
 ب) با توجه به نمودار ون، طرف دیگر تساوی های زیر را بنویسید.

 $n(A \cup B) =$
 $B - A =$

۵ الف) بین $\sqrt{2}$ و $\sqrt{6}$ ، دو عدد گنگ بنویسید.
 ب) با توجه به تعریف قدرمطلق، حاصل عبارت زیر را به دست آورید.
 $|2 - \sqrt{5}| - \sqrt{5} =$

۶ ثابت کنید در مثلث متساوی الساقین ABC ، ارتفاع وارد بر قاعده، میانه نیز می باشد.


ردیف	سوال	نمره
۷	الف) عبارت مقابل را ساده کنید. ب) متخرج کسر مقابل را آنگاه کنید.	۲
۱	$\sqrt{18} - 2\sqrt{8} =$	۱
-۱۵	$\frac{y}{\sqrt{y}}$	-۱۵
۸	الف) حاصل عبارت مقابل را به کمک اتحاد به دست آورید. ب) عبارت مقابل را تجزیه کنید.	۱
-۱۷۵	$(x-2)^2 =$	-۱۷۵
-۱۷۵	$ax^2 + 6ax + 9a =$	-۱۷۵
۹	معادله مقابل را حل و مجموعه جواب را روی محور اعداد حقیقی نمایش دهید.	۱/۲۵
۱/۲۵	$2x - 2 \leq x + 4$	۱/۲۵
۱۰	دستگاه معادله خطی مقابل را به روش دلخواه حل کنید.	۱
۱	$\begin{cases} 2x + y = 7 \\ x - y = 2 \end{cases}$	۱
۱۱	الف) شیب و عرض از مبدأ خط مقابل را به دست آورید. ب) خط به معادله $y = x - 2$ را در دستگاه مختصات رسم کنید.	۱
-۱۷۵	$2y - 6x = 8$	-۱۷۵
۱۲	عبارت های زیر را ساده کنید. (متخرج ها مخالف صفر فرض شده است)	۱/۲۵
۱/۲۵	الف) $\frac{x+1}{x^2+2x+2} \times \frac{x^2-1}{x} =$	۱/۲۵
-۱۷۵	ب) $\frac{5}{a-h} + \frac{1}{b-a} =$	-۱۷۵
۱۳	تقسیم مقابل را انجام دهید و باقیمانده را مشخص کنید.	۱/۲۵
۱/۲۵	$7x^2 + 5x - 2 \div (x-1)$	۱/۲۵
-۱۷۵	الف) حجم یک کره به شعاع ۲ سانتی متر، را به دست آورید. (نوشتن فرمول الزامی است)	-۱۷۵
-۱۷۵	ب) مساحت یک نیم کره چوبی به شعاع ۳ سانتی متر، را پیدا کنید.	-۱۷۵
۱۵	الف) حجم هرمی با قاعده مستطیل شکل، به ضلع های ۴ و ۲ سانتی متر و ارتفاع ۶ سانتی متر را به دست آورید. ب) "ستاره" یک هرم منتظم به القاعده مربع را رسم کنید.	۱/۲۵
-۱۷۵		-۱۷۵
-۱۵		-۱۵



به نام خدا
 پاسخ سوالات درس ریاضی استان لرستان شهرستان خرمآباد
 (سر: داوود احمدی)

سوال 1 الف نادریت (ب) نادریت (ج) درست (د) درست

سوال 2 الف C عضوی از D

(ب) 2000cm

(ج) طول 13 و عرض 24-

(د) $x=9$

سوال 3 الف $\frac{11}{10}$ (ب) 0.102 (ج) مثبت است

(د) مزبوط

سوال 4 الف $\{(-5)^2, \dots, 1.5, \dots, \frac{3}{4}, \dots, \frac{1}{2}, \dots, \sqrt{49}\}$

سوال 5 (ب) $B-A = \{2, 4\}$ و $n(A \cup B) = \{2, 3, 4, 6, 9\}$

سوال 6 الف $\sqrt{3}, \sqrt{3}, \sqrt{2}, \sqrt{2}, \sqrt{2}, \sqrt{2}$

سوال 7 (ب) $(2-\sqrt{8})-\sqrt{8} = \sqrt{8}-2-\sqrt{8} = -2$

سوال 8 $\begin{cases} AH=AH \\ \overline{AB}=\overline{AC} \end{cases} \xrightarrow{\text{مستتر}} \begin{cases} \triangle ABH \cong \triangle ACH \\ \text{(وضن)} \end{cases} \Rightarrow \overline{BH}=\overline{HC}$
 (ب) \overline{AH} میانه است

سوال 9 الف $\sqrt{18} - 2\sqrt{8} = \sqrt{2 \times 9} - 2\sqrt{4 \times 2} = 3\sqrt{2} - 4\sqrt{2} = -\sqrt{2}$

$\frac{\sqrt{7} \times \sqrt{6}}{\sqrt{6}} = \sqrt{7}$

دانلود از وبسایت و اپلیکیشن پادرس




$$(x-4)^2 = x^2 - 8x + 16$$

الف ۸

$$ax^2 + 4ax + 9a = a(x^2 + 4x + 9) = a(x+3)^2 = a(x+3)(x+3)$$

$$3x - 2 \leq x + 4 \Rightarrow 2x - 2 \leq 4 \Rightarrow 2x \leq 6 \Rightarrow x \leq 3 \Rightarrow D = \{x \in \mathbb{R} \mid x \leq 3\}$$



$$\begin{cases} 2x + y = 7 \\ x - y = 2 \end{cases}$$

$$\Rightarrow \begin{cases} x - y = 2 \\ 2 - y = 2 \end{cases}$$

۱۰

$$3x = 9 \Rightarrow x = 3$$

$$-y = 2 - 2$$

$$-y = -1 \Rightarrow y = 1$$

$$\begin{bmatrix} 2 \\ 1 \end{bmatrix}$$

$$2y - 2x = 8 \Rightarrow \frac{2y}{2} - \frac{2x}{2} = \frac{8}{2} \Rightarrow y - x = 4$$

الف ۱۱

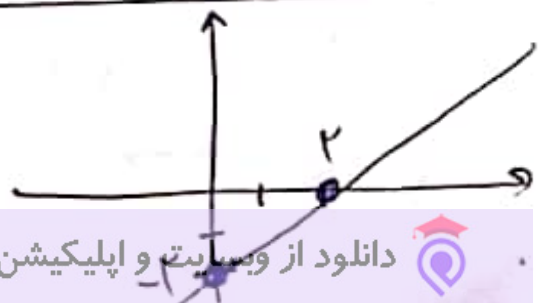
$$y = x + 4$$

$$x = 2$$

$$y = 2 + 4 = 6$$

$$y = x - 2$$

x	0	2
y	-2	0



۱۱

$$\frac{x+1}{x^2+3x+2} \times \frac{x^2-4}{x} = \frac{x+1}{(x+1)(x+2)} \times \frac{(x-2)(x+2)}{x} = \frac{x-2}{x}$$

$$\frac{a}{a-b} + \frac{1}{b-a} = \frac{a}{a-b} - \frac{1}{a-b} = \frac{a-1}{a-b}$$

$$\frac{\sqrt{x^2+2x-4} - \sqrt{x^2+2x}}{\sqrt{x+12}}$$

$$12x-4$$

$$-12x+12$$

Λ → باقی مانده

$$V = \frac{4}{3} \pi r^3 = \frac{4}{3} \pi \times 4^3 = \frac{448}{3} \pi \text{ cm}^3$$

$$S = 4 \pi r^2 = 4 \pi \times 4^2 = 64 \pi \text{ cm}^2$$

$$V = \frac{1}{3} S \times h = \frac{1}{3} \times 64 \times 4 = \frac{256}{3} \text{ cm}^3$$

