


در فرایندهای زغال شدگی از تورب تا آنتراسیت، تغییرات زیادی رخ می دهد و سبب می شود با خروج تدریجی آب و مواد فرار، درصد کربن در سنگ حاصل، افزایش می یابد و کیفیت و توان تولید انرژی زغال سنگ بهتر می شود.



فصل ۳

۱- اهمیت آب را بنویسید.

فضانوردان، زمین رایک سیاره آبی و بسیار زیبا توصیف کرده اند آب با حالت های جامد، مایع و گاز، باعث تغییرات وسیعی در لایه سطحی و پیرامون کره زمین می شود..

آب، نماد زندگی است و در سفری پایان ناپذیر بین سنگ کره و هوا کره، سبب تغییر پوسته زمین، فرسایش، تغییرات اقلیمی و... می شود.

۲- منابع آب کره زمین را نام ببرید.

زندگی انسان و سایر جانداران، بدون آب امکان پذیر نیست. آب مورد نیاز، از منابع آب های سطحی و زیرزمینی تأمین می شود. بارش های جوی در تأمین این منابع، نقش اساسی دارند.

۳- چرخه آب را توضیح دهید.

بخشی از بارش ها در یک حوضه آبریز، قبل از رسیدن به سطح زمین، توسط شاخ و برگ گیاهان گرفته می شود و برگاب را به وجود می آورد که مقداری از آن به صورت تبخیر، مجدداً به هوا کره برمی گردد. بخشی دیگر که به سطح زمین می رسد، یا تبخیر می شود، یا به صورت رواناب به سوی مناطق پست تر حوضه جریان می یابد. بخشی از رواناب به داخل زمین نفوذ و منابع آب زیرزمینی را تغذیه می کند. بخش عمده آب زیرزمینی، سرانجام از طریق چشمه، چاه یا قنات، مجدد به سطح زمین راه می یابد.

۴- اهمیت آب جاری را بنویسید.

آب جاری، با آنکه در مقایسه با حجم کل آب کره، بسیار ناچیز است اما، در تغییرات سطح زمین و تشکیل منابع آب مانند آب آشامیدنی، کشاورزی، صنعت، تولید برق و ... اهمیت زیادی دارد.

۵- آبدهی چیست و چگونه محاسبه می شود؟

سرعت آب در نقاط مختلف یک رودخانه، متغیر است.

اندازه گیری سرعت آب و آبدهی رودخانه، به صورت روزانه و یا در دوره های زمانی طولانی تر و به روش های مختلف انجام می شود.

با تعیین سرعت آب در یک رودخانه یا کانال و اندازه گیری سطح مقطع آن، می توان مقدار آبدهی (دبی) را با استفاده از رابطه زیر محاسبه کرد.

Q دبی بر حسب متر مکعب بر ثانیه

A مساحت سطح مقطع جریان آب بر حسب متر مربع

V سرعت جریان آب بر حسب متر بر ثانیه

$$Q=A \times V$$

۶- میزان آبدهی رودخانه ها در فصل تابستان و زمستان باهم مقایسه کنید.

آبدهی رودخانه، در بهار، به علت ذوب برف ها و افزایش بارندگی، افزایش می یابد. در ادامه در طول تابستان، معمولاً آبدهی رودخانه کاهش می یابد.

۷- چرا در مناطق مرطوب رودخانه ها دائمی هستند؟

در مناطق مرطوب، که مقدار بارندگی زیاد و تبخیر، کم است، رودخانه ها از نوع دائمی هستند. در این رودخانه ها، بخشی از آب که همیشه جریان دارد، آبدهی پایه را تشکیل می دهد. آب این رودخانه ها، در زمانی که بارندگی نیست، از ذوب برف و یخ نواحی مرتفع و یا از ورود آب های زیرزمینی به داخل آنها تأمین می شود.

۸- چرا در مناطق گرم و خشک رودخانه ها فصلی و موقتی اند؟

در مناطق گرم و خشک که مقدار بارندگی کم و تبخیر زیاد است، بیشتر رودخانه ها موقتی و فصلی هستند.

۹- تعریف آب زیرزمینی را بنویسید.

آب زیرزمینی، آبی است که در منافذ و فضاهای خالی لایه های زیرزمین جمع می شود و از طریق چاه، چشمه و قنات، قابل بهره برداری می گردد.

۱۰- اهمیت آب های زیرزمینی را بنویسید.

آب زیرزمینی قابل بهره برداری، گرچه فقط حجم کمی از آب کره را تشکیل می دهد، ولی همین مقدار، بزرگ ترین ذخیره آب شیرین قابل بهره برداری در خشکی ها است.

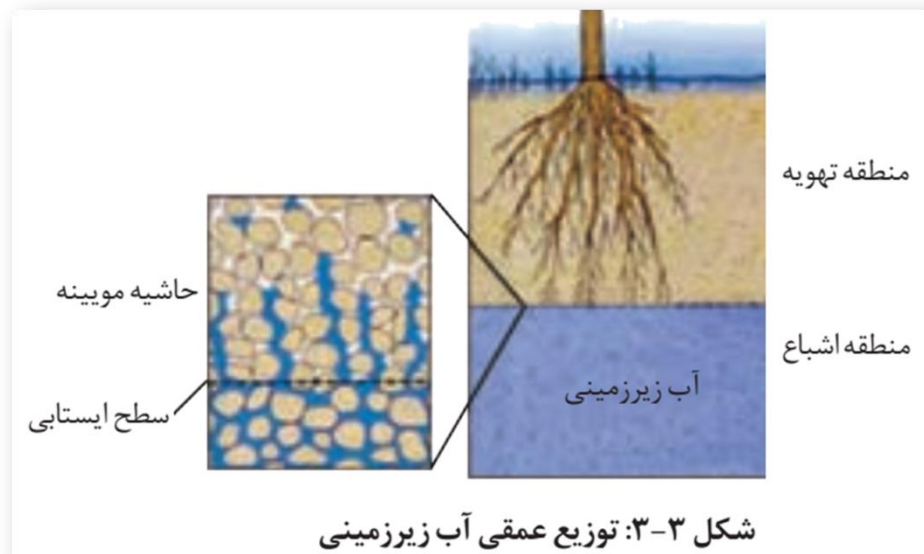
۱۱- منطقه تهویه چیست؟ توضیح دهید.

در هنگام نفوذ آب به داخل زمین، بخشی از آب نفوذی به سطح ذرات خاک یاسنگ می چسبد، به طوری که منافذ و فضاهای خالی، توسط آب و هوا پر می شود و منطقه تهویه شکل می گیرد.

۱۲- منطقه اشباع چیست؟ شرح دهید.

بخشی از آب نفوذی، به طرف عمق بیشتر حرکت می کند تا به سنگ بستر برسد و بر روی آن جمع شود و منطقه اشباع را ایجاد کند. که فضاهای خالی توسط آب پر شده است.

سطح بالایی این منطقه، سطح ایستابی است.



۱۳- میزان عمق سطح ایستابی چقدر است؟

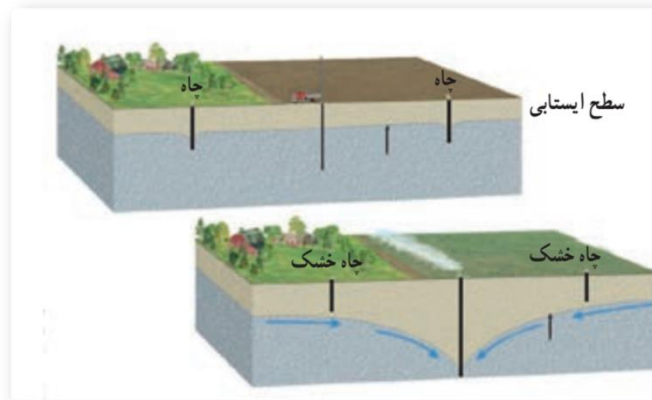
عمق سطح ایستابی در مناطق مختلف، متفاوت است. در بعضی مناطق کمتر از یک متر و در برخی مناطق تا صدها متر می‌رسد.

۱۴- نقش آب های زیرزمینی در ایجاد چشمه و برکه چیست؟ شرح دهید.

سطح ایستابی، تقریباً از توپوگرافی سطح زمین تبعیت می‌کند. هنگامی که سطح ایستابی با سطح زمین برخورد کند، آب زیرزمینی به صورت چشمه یا برکه در سطح زمین ظاهر می‌شود.

۱۵- نقش آب های زیرزمینی در ایجاد باتلاق و شوره زار را بنویسید.

و در صورتی که سطح ایستابی بر سطح زمین منطبق شود یا در نزدیک آن قرار گیرد، باتلاق یا شوره زار شکل می‌گیرد.



۱۶- عامل تشکیل آبخوان:

برای تشکیل آبخوان، لازم است که رسوبات و سنگ‌ها، دارای فضاهای خالی باشند.

۱۷- الف- عوامل پیدایش فضاهای خالی را بنویسید.

این فضاهای خالی یا منافذ اولیه هستند که از ابتدای تشکیل در آن‌ها وجود داشته‌اند، یا پس از تشکیل سنگ به صورت ثانویه بر اثر شکستگی، هوازدگی، انحلال یا عوامل دیگر در آن به وجود آمده‌اند.

ب- فرمول درصد فضاهای خالی (تخلخل) را بنویسید.

درصد فضاهای خالی (تخلخل) رسوب یا سنگ، طبق رابطه زیر بر حسب درصد، محاسبه می‌شود.

$$\text{تخلخل} = \frac{\text{حجم فضاهای خالی (m}^3\text{)}}{\text{حجم کل (m}^3\text{)}} \times 100$$

۱۸- آیا تخلخل خاک به معنای نفوذپذیری و عبور آب است؟

هر چه درصد تخلخل خاک یا سنگ بیشتر باشد، آب بیشتری را می‌تواند در خود نگه‌دارد. اما لزوماً باعث عبور آب نمی‌شود. مثلاً سنگ‌پا بسیار متخلخل است اما، آب از آن عبور نمی‌کند.

۱۹- چرا رس‌ها نفوذپذیری اندکی دارند؟

رس‌ها بسیار متخلخل‌اند، ولی به علت ریز بودن ذرات، نفوذپذیری بسیار اندکی دارند.

۲۰- عوامل موثر بر میزان نفوذپذیری خاک و رسوبات چیست؟

میزان نفوذپذیری خاک به میزان ارتباط و اندازه منافذ بستگی دارد. برخی خاک ها دارای تخلخل زیاد و نفوذپذیری کم هستند و عبور آب از درون آن ها، به دشواری صورت می گیرد .

۲۱- درصد تخلخل و نفوذپذیری آبخوان بیانگر چیست؟

درصد تخلخل آبخوان، بیانگر مقدار آب ذخیره شده در آن و نفوذپذیری، نشانگر توانایی آبخوان در هدایت آب می باشد.

۲۲- ویژگی های متفاوت آبرفت ها و سنگ ها در تشکیل آبخوان را بنویسید.

سنگ ها و رسوبات مختلف از نظر تشکیل آبخوان و میزان آبدهی، ویژگی های متفاوتی دارند.

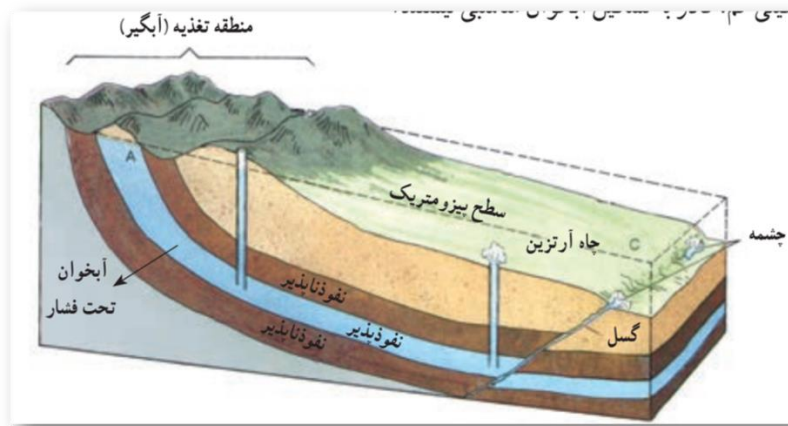
- آبرفت ها و سنگ های آهکی حفره دار (آهک کارستی) قابلیت تشکیل آبخوان را دارند

- شیل ها، سنگ های دگرگونی و آذرین، آبخوان خوبی تشکیل نمی دهند به طوری که، معمولاً یا چشمه ای در آنها به وجود نمی آید یا در صورت تشکیل، چشمه هایی با آبدهی بسیار کم و فصلی دارند.

- در سنگ های آهکی حفره دار، معمولاً چشمه های پر آب و دائمی ایجاد می شود.

۲۳- سطح پیزومتریک را تعریف کنید.

اگر چاه در یک لایه آبدار آزاد حفر شود، تراز آب در چاه، نمایانگر سطح ایستابی و در لایه آبدار تحت فشار، سطح پیزومتریک است.



۲۴- ویژگی های حرکت آب زیرزمینی را بنویسید.

آب برای حرکت در داخل زمین، نیاز به انرژی دارد.

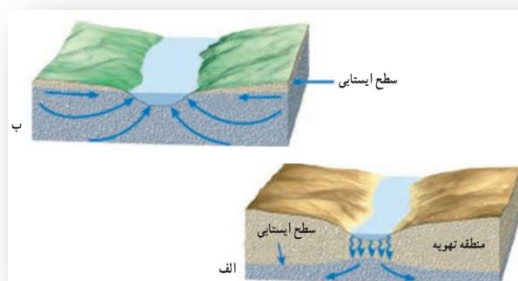
آب زیرزمینی به طور کلی، از مکانی با انرژی بیشتر به مکانی با انرژی کمتر حرکت می کند .

این حرکت خیلی کندتر از حرکت آب در رودخانه است .

حرکت آب در داخل آبخوان، از کمتر از یک متر تا صدها متر در روز تغییر می کند.

۲۵- برای محاسبه سرعت آب زیرزمینی از چه قانونی استفاده می شود؟

برای محاسبه سرعت آب زیرزمینی، از قانون دارسی استفاده می شود.



۲۶- مهم ترین ترکیبات آب های زیرزمینی را بنویسید.

ترکیب آب زیرزمینی از محلی به محل دیگر تغییر می کند. آب زیرزمینی، به طور عمده، حاوی کلریدها، سولفات ها و بی کربنات های کلسیم، منیزیم، سدیم، پتاسیم و آهن است. بسیاری از عناصر و مواد دیگر نیز به مقدار بسیار کم در آب زیرزمینی وجود دارد .

۲۷- عوامل موثر بر میزان غلظت نمک های حل شده در آب های زیرزمینی را بنویسید.

غلظت نمک های حل شده در آب زیرزمینی به جنس کانی ها و سنگ ها، سرعت نفوذ آب، دما و مسافت طی شده توسط آب بستگی دارد .

آب ضمن حرکت آهسته در زیر زمین، فرصت زیادی برای انحلال کانی های مسیر خود دارد.

۲۸- مقدار نمک های محلول در آب های زیرزمینی در سنگ ها و رسوبات چگونه است؟

-مقدار نمک های محلول در آب زیرزمینی موجود در سنگ های آذرین و دگرگونی، به طور معمول کم است.

- سنگ های تبخیری مانند سنگ نمک و سنگ گچ، انحلال پذیری زیادی دارند و از این رو، آب این گونه آبخوان ها، عموماً دارای املاح فراوان هستند.

- لایه های آبدار موجود در رسوبات رودخانه ای و آبرفتی به طور معمول حاوی آب شیرین هستند .

-در نواحی خشک، مانند مناطق کویری ایران، در برخی نقاط شوری آب چنان زیاد است که برای بسیاری از مصرف ها، نامناسب است.

۲۹- انواع آب در مدیریت منابع آب را نام برده و توضیح دهید.

در مدیریت منابع آب، ذخایر آب به دو دسته تجدیدپذیر و تجدیدناپذیر تقسیم می شوند.

آب تجدید پذیر:

آب تجدیدپذیر، آبی است که در مقیاس زمانی معین، پس از مصرف انسان، از طریق چرخه آب، جایگزین می شود،

آب تجدیدناپذیر:

بخشی از ذخایر آب که پس از مصرف، جایگزین نمی شود، آب تجدیدناپذیر است.

۳۰- روش جلوگیری از ایجاد بحران آب را بنویسید.

برای جلوگیری از ایجاد بحران آب، باید میزان بهره برداری از منابع آب، کمتر از میزان تغذیه آن منابع باشد. عدم رعایت این مورد در طی سال های گذشته، منجر به کاهش شدید ذخایر آب زیرزمینی کشور ما شده است. بنابراین توجه به میزان مصرف منابع آبی کشور، بسیار مهم و حیاتی است. امروزه در برخی از کشورهای کم آب، بهره برداری از آبهای فسیلی مطرح شده است.

۳۱- آب های فسیلی را تعریف کنید.

آب های فسیلی به آب هایی گفته می شود که در طی چند هزار سال گذشته در اعماق زیاد محبوس شده اند و در چرخه آب قرار ندارند.

۳۲- علت محاسبه بیلان آب را بنویسید.

محاسبه بیلان آب یک لایه آبدار، از بسیاری جهات، مشابه بررسی بیلان هزینه یک خانواده یا هر واحد اقتصادی است که کمک می کند تا میزان درآمد و هزینه ها با هم مقایسه شوند. در مدیریت و بهره برداری از منابع آب نیز، برای آن که نوسانات حجم ذخیره منابع آب یک منطقه تعیین شود، بیلان آب محاسبه می شود.

۳۳- فرمول محاسبه بیلان آب را بنویسید.

توازن آب براساس اصل بقای جرم است. بین مقدار آب ورودی (I) به آبخوان و آب خروجی از آن (O) و تغییراتی که در حجم ذخیره آب به وقوع می پیوندد (ΔS) رابطه زیر برقرار است.

$$I - O = \Delta S$$

۳۴- بیلان مثبت و منفی را تعریف کنید.

به عبارتی، تغییراتی که در حجم آب داخل آبخوان اتفاق می افتد، با اختلاف آب ورودی و خروجی از آن برابر است .

اگر مقدار آب ورودی به آبخوان، بیشتر از مقدار آب خروجی باشد، بیلان، مثبت و اگر کمتر از آن باشد، بیلان، منفی است.

۳۵- علل منفی بودن بیلان منابع آب کشور را بنویسید.

در طی سال های گذشته به علت بهره برداری زیاد از منابع آبی، بیلان منابع آب در کل کشور و در بیشتر ۶۰۹ دشت کشور، منفی بوده است.

بر این اساس، بسیاری از دشت های کشور از نظر توسعه بهره برداری آب های زیرزمینی، به عنوان دشت ممنوعه اعلام شده است.

۳۶- علت فرونشست زمین چیست؟ شرح دهید.

یکی از پیامدهای برداشت بی رویه آب زیرزمینی، فرونشست زمین است.

۳۷- فرونشست زمین در کدام دشت ها مشاهده می شود؟

این وضعیت در بسیاری از دشت های کشور ما که با بیلان منفی آب زیرزمینی روبه رو هستند، مشاهده می شود.

۳۸- انواع فرونشست زمین را بنویسید.

فرونشست زمین یا به صورت سریع، به شکل فروچاله ایجاد می شود و یا آرام و نامحسوس به صورت نشست سطح وسیعی از منطقه و ایجاد ترک و شکاف در سطح زمین نمایان می شود.

۳۹- پیامدهای فرونشست زمین را بنویسید.

فرونشست زمین می تواند خسارت های فراوان به زیربناها و انواع سازه ها و زمین های کشاورزی وارد کند.

۴۰- راهکار برای کاهش میزان فرونشست زمین را بنویسید.

برای کاهش میزان فرونشست زمین، باید بهره برداری از منابع آب زیرزمینی کاهش یابد و با تغذیه مصنوعی آبخوان ها تقویت شوند.

۴۱- کیفیت آب های زیرزمینی به چه عواملی بستگی دارد؟

کیفیت آب زیرزمینی، بستگی به ترکیب شیمیایی و مقدار املاح موجود در آن دارد. افزون بر املاح آب، برخی آلودگی ها توسط انسان به آن وارد می شود.

۴۲- منابع آلاینده نقطه ای و غیر نقطه ای آب های زیرزمینی را توضیح دهید.

منابع آلاینده آب زیرزمینی، به صورت نقطه ای و یا غیرنقطه ای هستند . در حالت نقطه ای، موادآلوده کننده از یک نقطه مشخص، مانند یک چاه فاضلاب (چاه جذبی) به طور مستقیم وارد آب زیرزمینی می شوند .

در حالت غیر نقطه ای، مواد آلوده کننده به وسیله رواناب های آلوده از سطح مراتع، جنگل ها و یا زمین های کشاورزی به زمین نفوذ کرده و وارد آب زیرزمینی می شوند.

۴۳- چه عواملی کیفیت و کمیت آب های زیرزمینی را تهدید می کند؟

کیفیت منابع آب زیرزمینی به وسیله کودهای کشاورزی، فاضلاب های صنعتی و شهری و هم چنین کمیت آنها از طریق بهره برداری زیاد، در معرض تهدید است.

۴۴- حریم های کیفی و کمی و حفاظت از منابع آب زیرزمینی چیست؟

بنابراین حفاظت از این منابع، دارای اهمیت زیادی است. یکی از روش های حفاظت از منابع آب زیرزمینی، تعیین حریم برای آن ها است. بر این اساس، حریم کمی و کیفی تعریف می شود.

۴۵- حریم کیفی چاه ها چگونه تعریف می شود؟

حریم کیفی چاه های تأمین کننده آب شرب، به صورت پهنه های حفاظتی تعریف می شود.

۴۶- پهنه های حفاظتی چیست؟

منظور از پهنه های حفاظتی، محدوده ای در اطراف چاه است که آلاینده قبل از رسیدن به چاه از بین می رود. پهنه های حفاظتی، معمولاً شامل سه بخش داخلی، میانی و بیرونی است.

۴۷- اهمیت خاک رت بنویسید.

خاک، محیط مناسبی برای کشت گیاهان و محلی برای زندگی برخی موجودات زنده است.

خاک به عنوان سطحی ترین قشر زمین و بستر تولید محصول کشاورزی شناخته می شود که به طور دائمی در معرض تغییرات فیزیکی، شیمیایی و زیستی است.

۴۸-دو بخش آلی و معدنی خاک از چه موادی تشکیل شده است؟

خاک، از دو بخش آلی و معدنی تشکیل شده است. بخش معدنی، شامل برخی عناصر ماندنیتر و فوسفور، کلسیم و ... ، همچنین برخی کانی ها مانند کانی های رسی و کوارتز می باشد.

۴۹-عوامل موثر در میزان ترکیبات خاک را بنویسید.

البته ترکیب خاک ها متغیر است و به عواملی مانند نوع سنگ مادر، شیب زمین، فعالیت جانداران و اقلیم منطقه بستگی دارد.

۵۰-سه دسته انواع ذرات خاک را نام ببرید.

ذرات تشکیل دهنده خاک، بر حسب اندازه، به سه دسته اصلی درشت دانه (خاک های شنی)

متوسط دانه (ماسه و لای)

و ریزدانه (خاک های رسی) تقسیم می شوند.

معمولاً خاک های طبیعی، ترکیبی از آن ها است.

۵۱-ارتباط بین میزان آب خاک ها و اندازه ذرات خاک را توضیح دهید.

مقدار آبی که خاک ها می توانند در خود نگه دارند، بستگی به اندازه ذرات خاک دارد .

هرچه ذرات خاک ریزتر باشد، آب بیشتری را در خود نگه می دارد.

۵۲-چرا خاک رس برای رشد گیاهان مناسب نیست؟

خاک رس، بسیار ریزدانه است، بنابراین فضای بین ذرات آن بسیار کوچک است به طوری که گردش آب و هوا به خوبی صورت نمی گیرد و برای رشد گیاهان مناسب نیست .

۵۳- چرا خاک های شنی برای رشد گیاهان مناسب نیستند؟

در خاک های شنی، آب به راحتی از میان ذرات عبور می کند یعنی، زهکشی خوبی دارد، اما برای رشد گیاهان مناسب نمی باشد، چون آب و مواد مغذی را در خودنگه نمی دارد.

۵۴- چه عواملی موجب حاصلخیزی خاک می شود؟

مخلوط مناسب خاک ماسه ای و رسی و استفاده از کود مناسب یا گیاخاک، ترکیب مناسبی است که موجب حاصلخیزی خاک می شود.

۵۵- خاک لوم چیست؟

به طور کلی، خاک لوم که ترکیبی از ماسه، لای رس است، خاک دلخواه کشاورزان و باغبان ها می باشد.

۵۶- تعریف نیم رخ خاک را بنویسید.

به مقطع عمودی خاک از سطح زمین تا سنگ بستر که افق های مختلف خاک در آن قابل مشاهده می باشد، نیم رخ خاک می گویند. معمولاً در نیمرخ خاک، افق های زیر وجود دارد. .

۵۷- ویژگی های افق A را بنویسید.

افق A بالاترین لایه خاک است. ریشه گیاهان در آن قرار دارد. این افق معمولاً حاوی گیاخاک به همراه ماسه و رس است. وجود مواد آلی باعث رنگ خاکستری تا سیاه این افق می شود .

۵۸- ویژگی های افق B را بنویسید.

افق B یا خاک میانی، معمولاً از رس، ماسه، شن و مقدار کمی گیاخاک تشکیل می شود.

۵۹- ویژگی های افق C را بنویسید.

افق C خاک زیریناست و در آن، مواد سنگی به میزان کم، تخریب و تجزیه شده اند، در نتیجه سنگ اولیه تغییرزایدی نکرده و به صورت قطعات خرد شده است. در زیر این افق، سنگ بستر قرار دارد که تخریب و یا تجزیه ای در آن صورت نگرفته است.

۶۰- خاک های مناطق مختلف از چه نظرهایی باهم متفاوت هستند؟

اگرچه این افق ها در بسیاری از نیمرخ خاک ها مشاهده می شود ولی، خاک های مناطق مختلف از نظر رنگ، بافت، ضخامت و ترکیب شیمیایی متفاوت هستند.

۶۱- چه خاک هایی از نظر کشاورزی و صنعتی دارای ارزش هستند؟

خاک حاصل از تخریب سیلیکات ها و سنگهای فسفاتی، از نظر کشاورزی و صنعتی ارزش زیادی دارد .

۶۲- چه خاک هایی فاقد ارزش کشاورزی هستند؟

در صورتی که خاک های حاصل از تخریب سنگ های دارای کانی های مقاوم(مانند کوارتز) که غالباً شنی و ماسه ای می باشند، فاقد ارزش کشاورزی هستند.

۶۳- تعریف خاک حاصلخیز در کشاورزی را بنویسید.

در کشاورزی، خاکی را حاصلخیز می گویند که موجب رشد بیشتر گیاه شود.

۶۴- مدت زمان لازم برای تشکیل خاک چقدر است؟

فرایند تشکیل خاک بسیار کند است. در شرایط طبیعی، به طور میانگین ۳۰۰ سال زمان لازم است تا خاکی به ضخامت ۲۵ میلیمتر تشکیل شود.

۶۵- تعریف فرسایش خاک را بنویسید.

فرسایش، فرایندی مداوم است که طی آن ذرات خاک از بستر اصلی خود جدا و به کمک عوامل انتقال دهنده به مکان دیگری حمل می شود .

۶۶- آیا فعالیت های انسانی می تواند فرسایش را کلاً متوقف کند؟

فعالیت های انسانی آن را کاهش یا افزایش می دهد اما نمی تواند آن را کاملاً متوقف کند. مقدار فرسایش پذیری خاک، معمولاً در ایام مختلف سال، ثابت نیست.

۶۷- مقایسه عملکرد فرسایش به وسیله عوامل طبیعی و انسانی را بنویسید.

فرسایش به طور طبیعی و توسط عواملی مانند آب های جاری، باد، یخچال، نیروی جاذبه و آب های زیرزمینی و بدون دخالت انسان و به آرامی یا با سرعت زیاد انجام می شود.

فعالیت های انسانی مانند کشاورزی، معدنکاری، جاده سازی و سایر فعالیت های عمرانی، فرسایش طبیعی را تشدید می کنند. افزون بر انسان، سایر جانداران نیز، در افزایش این فرسایش ها نقش دارند.

۶۸- نقش شدت و مدت بارش در فرسایش خاک را توضیح دهید.

مهم ترین ویژگی بارندگی که در قدرت فرسایش آن مؤثر می باشد، شدت و مدت بارش است. معمولاً هر چه شدت بارندگی بیشتر باشد، قطرات باران، بزرگ تر است.

۶۹- نقش بزرگ بودن قطرات باران در فرسایش خاک را توضیح دهید.

بزرگ بودن قطرات باران، جرم و سرعت سقوط قطرات را افزایش می دهد که در نتیجه، منجر به انرژی جنبشی و قدرت فرسایشی بیشتر می شود.

۷۰- فرسایش خندقی خاک، علل ایجاد و پیامدهای آن را بنویسید.

هنگامی که جریان آب، شدت پیدا کند، باعث فرسایش خندقی و از بین رفتن زمین هایی با ارزش کشاورزی می شود. پیدایش خندق ها، علاوه بر آنکه از ارزش زمین های کشاورزی می کاهد، باعث تخریب جاده ها، پل ها و ساختمان ها می شود.

۷۱- راه های کاهش انرژی جنبشی آب و کاهش فرسایش آبی خاک را بنویسید.

در اغلب شرایط می توان با ساخت کانال و ایجاد پوشش گیاهی، انرژی جریان آب را کاهش داد.

۷۲- عوامل موثر در میزان فرسایندهای رواناب ها را بنویسید.

قدرت فرسایندهای رواناب، بستگی به سرعت و عمق جریان، و میزان مواد معلق موجود در رواناب دارد.

هر چه سرعت رواناب و عمق آن بیشتر باشد، انرژی جنبشی آب، و در نتیجه، قدرت فرسایندهای آن بیشتر می شود.

قدرت فرسایش آب خالص، کمتر از آب دارای مواد معلق است.

۷۳- رسوبگذاری مواد معلق توسط رواناب چه زمانی شروع می شود؟

وقتی میزان مواد معلق، بیشتر از توان حمل رواناب باشد، رسوبگذاری شروع می شود.

۷۴- پیامدهای فرسایش خاک را بنویسید.

فرسایش خاک، باعث کاهش سطح زیرکشت و کاهش حاصلخیزی زمین ها می شود.

همچنین با ته نشینی مواد در آبراهه ها و مخازن سدها و کاهش ظرفیت آبیاری آن ها، خسارت های فراوانی را ایجاد می کند.

۷۵- چرا آب و خاک از سرمایه های ارزشمند کشور هستند؟

آب و خاک برای هر کشور، به عنوان سرمایه های ارزشمند، اهمیت فراوان دارد زیرا، آب و خاک از عوامل ضروری برای رشد گیاه و افزایش محصولات کشاورزی و جنگلی است .

۷۶- اهمیت حفاظت خاک چیست؟

حفاظت خاک در جلوگیری از آلودگی هوا و فرسایش خاک، تأثیر فراوانی دارد .

۷۷- هدف از حفاظت خاک چیست؟

هدف از حفاظت خاک، جلوگیری از تخریب تدریجی خاک است.