

پاسخ فعالیت ها

۱. کاربرد شماره (۳)

دانش آموز با توجه به محل زندگی خود باید پاسخ دهد.



استان شما چند شهرستان دارد؟ ۱۱ شهرستان

مرکز استان شما کدام شهر است؟ خرم آباد

بزرگ ترین شهرستان استان شما کدام است؟ الیگودرز (وسعت)

وسعت شهری و جمعیت شهر = خرم آباد

کوچک ترین شهرستان استان شما کدام است؟ چگنی

ب) نام کدام استان ها با نام مرکز آن استان ها، مشابه است؟ یزد، اصفهان، کرمان، سمنان،

کرمانشاه.

۲. شما از چه راه هایی می توانید برای حفاظت از شهر یا روستای خود با شهرداری یا دهیاری

همکاری کنید؟ چند مورد بگویید. کمک به بازیافت زباله، نریختن زباله در مکان های عمومی

مانند جوی های آب و معابر، قدردانی از رفتگران، پرداختن به موقع عوارض نوسازی، حفاظت از

اماکن و وسایلی که شهرداری جهت رفاه حال شهروندان در شهر ایجاد کرده است؛ مانند صندلی ها

و وسایل بازی در بوستان ها، فرهنگ سرا، حفاظت از گل کاری ها و فضاهای سبز و ...

۳. پاسخ به عهده دانش آموز.

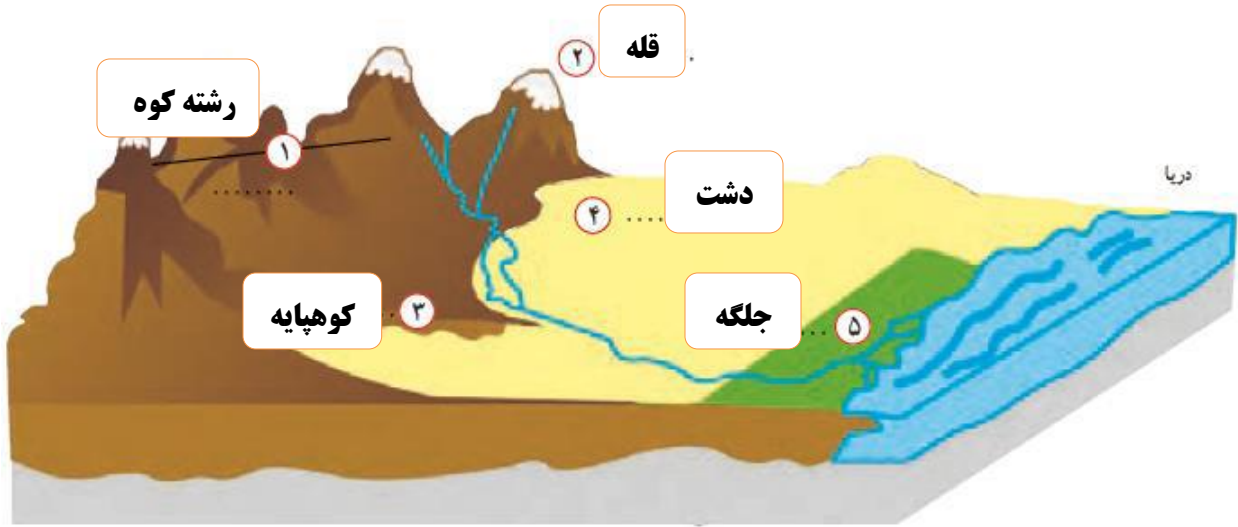
۴. مردم چگونه می توانند با مشارکت خود، مسئولان اداره شهر یا روستا را یاری رسانند؟ با پرداخت به موقع عوارض نوسازی.

۵. کاربرد شماره (۴)



ب) کدام قله ها آتشفشان بوده اند؟ سبلان، دماوند، تفتان.

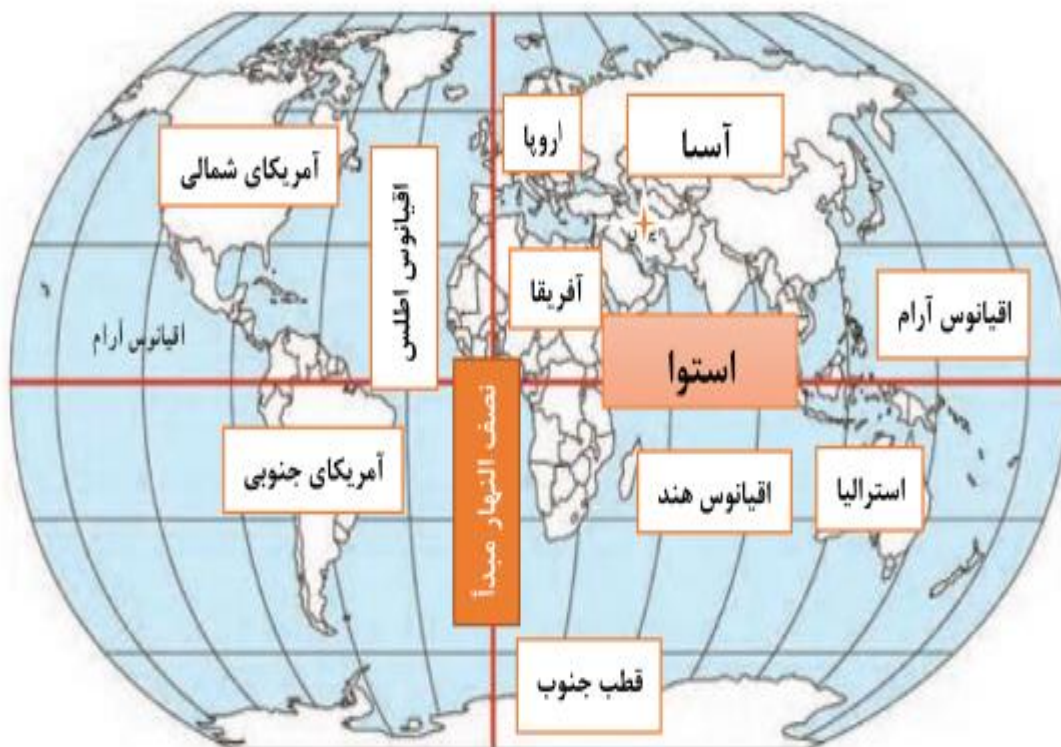
۶. کاربرد شماره (۵)



۶. قسمت ب کاربرد شماره (۵)



۷. کاربرگه شماره (۶)



۱. روی نقشه، نام قاره های جهان را بنویسید. **آسیا، اروپا، آفریقا، آمریکا، استرالیا، قطب جنوب.**
۲. نام اقیانوس های جهان را بنویسید. **اطلس، آرام، هند، منجمد شمالی، منجمد جنوبی.**
۳. نام بزرگ ترین مدار (استوا) را بنویسید.
۴. نام نصف النهار مبدأ را بنویسید.
۵. محل کشور ایران را با مداد رنگی رنگ آمیزی و مشخص کنید.
۶. ایران در کدام قاره قرار دارد؟ **آسیا**
۷. ایران به کدام اقیانوس نزدیک تر است؟ **اقیانوس هند**
۸. ایران در کدام نیمکره قرار دارد؟ **شمالی یا جنوبی؟ شمالی**
۹. ایران در کدام نیمکره قرار دارد؟ **شرقی یا غربی؟ شرقی**

نمونه سؤال

در جاهای خالی کلمات مناسب قرار دهید.

۱. استان به وسیله **استاندار** اداره می شود.
۲. رشته کوه **البرز** مانند دیواری **دریای خزر** را از قسمت های داخلی کشور جدا می کند.
۳. نواحی پست و هموار ایران شامل **دشت ها** و **جلگه ها** می شود.
۴. جلگه ها زمین های حاصلخیز و مناسبی برای **کشاورزی** هستند.
۵. ایران در **جنوب غربی** قاره آسیا قرار دارد.

درست و یا نادرست بودن عبارات های زیر را مشخص کنید.

۶. شهرها توسط شورای اسلامی شهر و شهردار اداره می شود. **درست**
۷. هر شهرستان به چند استان تقسیم می شود. **نادرست**
۸. همه جای ایران از نظر پستی و بلندی یکسان نیست. **درست**
۹. توچال از قله های آتشفشانی کوه های آذربایجان است. **نادرست**
۱۰. کرکس از قله های بلند نواحی مرکزی ایران است. **درست**

به سوالات زیر پاسخ کامل دهید.

۱۱. وسعت کشور ایران چقدر است؟ ۱۶۴۸۱۹۵ کیلومتر مربع.

۱۲. شهرداری چگونه موسسه ای است؟ شهرداری موسسه ای است که برای اداره بهتر شهر به وجود آمده و خدماتی به ساکنان شهر ارائه می کند.

۱۳. سه مورد از خدمات شهرداری را بنویسید؟ توسعه و نظارت بر حمل و نقل عمومی (تاکسی، اتوبوس و مترو) و تأمین آن ها، ترویج دین داری و فضیلت های اخلاقی در فضای شهر، احداث، تعمیر یا اصلاح راه های شهری، پل ها، تونل ها و...

۱۴. روستا ها چگونه اداره می شوند؟ توسط شورای اسلامی روستا و دهیار.

۱۵. نواحی مرتفع و بلند قسمت شمالی ایران کدامند؟ کوه های آذربایجان در شمال غربی، رشته کوه البرز در شمال، کوه های خراسان در شمال شرقی.

۱۶. دامنه های شمالی رشته کوه البرز را با دامنه های جنوبی مقایسه کنید؟ در دامنه های شمالی رشته کوه البرز که رو به دریا قرار دارد، برف و باران فراوان می بارد. این دامنه ها پوشیده از جنگل های انبوه است، به عکس، دامنه های جنوبی البرز کم رطوبت مانده و فقط در فصل زمستان برف و باران دریافت می کنند و در نتیجه پوشش گیاهی کمتری دارند.

۱۷. قله های مهم رشته کوه البرز کدامند؟ دماوند، توچال، علم کوه.

۱۸. دامنه های شمال غربی زاگرس را با دامنه های جنوبی مقایسه کنید؟ در دامنه های شمال غربی برف و باران فراوانی می بارد اما هر چه به سمت جنوب زاگرس پیش می رویم از میزان برف و باران کاسته می شود.

۱۹. قله های بلند نواحی مرکزی ایران را نام ببرید؟ کرکس، شیرکوه، هزار، لاله زار.

۲۰. چرا برخی از دشتهای ایران حاصلخیز هستند؟ به دلیل خاک مساعد و آب و هوای مناسب.

۲۱. کوهپایه چیست؟ زمین هایی که از یکسو به کوه ها و از سوی دیگر به دشت ها مربوط می شود.

۲۲. دو دشت وسیع ایران کدامند؟ دشت کویر، دشت لوت.

گزینه صحیح را انتخاب کنید.

۲۳. قله سبلان جزو قله های کدام کوه های ایران محسوب می شود؟

الف) آذربایجان ب) البرز ج) زاگرس د) خراسان

۲۴. ایران در کدام قسمت آسیا واقع شده است

الف) شمال شرقی ب) جنوب شرقی ج) شمال غربی د) جنوب غربی

۲۵. کدام قله در مرکز و جنوب شرقی ایران قرار ندارد؟

الف) شیرکوه ب) هزار ج) بینالود د) تفتان

۲۶. در فاصله ی بین شیب تند کوه و دشت قرار دارد.

الف) کوه ها ب) دشت ها ج) جلگه ها د) کوهپایه ها

۲۷. در شمال شرقی ایران، کدام رشته کوه واقع شده است؟

الف) خراسان ب) البرز ج) زاگرس د) آذربایجان

۲۸. نظارت بر حمل و نقل عمومی بر عهده ی کدام مؤسسه است؟

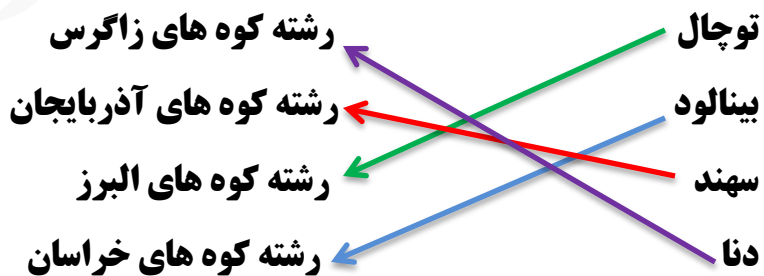
الف) راه و ترابری ب) شهرداری ج) راهنمایی و رانندگی د) نیروی انتظامی

۲۹. کدام یک از گزینه های زیر جهت رشته کوه های زاگرس را نشان می دهد؟

الف) شمال شرقی - شمال غربی ب) شمال غربی - جنوب شرقی

ج) شمال غربی - جنوب غربی د) شمال شرقی - جنوب شرقی

عبارات ستون الف را به کلمات ستون ب وصل کنید.



با استقامت به همه چیز می توان رسید.

مانا باشید. پروانه قلی پور