



غار دوشه خرم آباد



پروانه قلی پور

دبیر مطالعات ناحیه ۲ خرم آباد

استان لرستان

سال تحصیلی ۱۴۰۰ - ۱۳۹۹

درس ۱۸ (قدیمی ترین سکونتگاههای ایران)

درسنامه، پاسخ فعالیت ها، نمونه سؤال

درس ۱۸

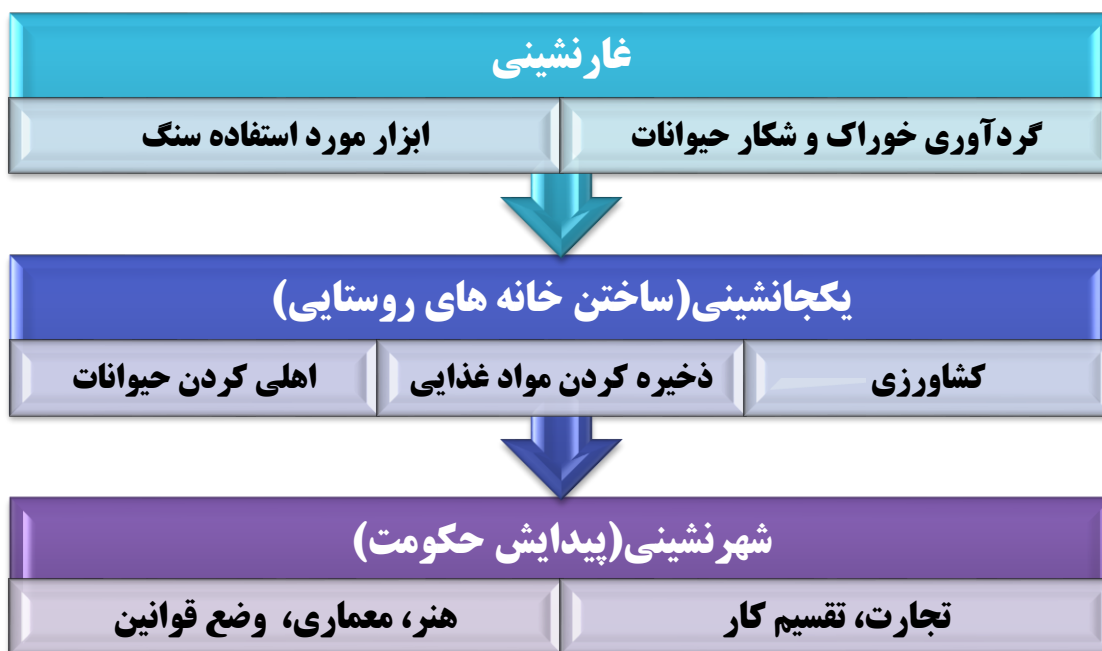
مورخان تاریخ ایران را با توجه به ورود اسلام به ایران به دو دوره تقسیم کرده اند:




ایران باستان: تاریخ ایران قبل از اسلام است.

ایران اسلامی: با سقوط حکومت ساسانیان و ورود اسلام به ایران آغاز شد و تاکنون ادامه دارد.

مراحل زندگی انسان





انسان های غارنشین به یادبود
شکارهایشان، نقش هایی روی
دیوار غارها کشیده و یا بر روی
کوه های اطراف خود کنده بودند.



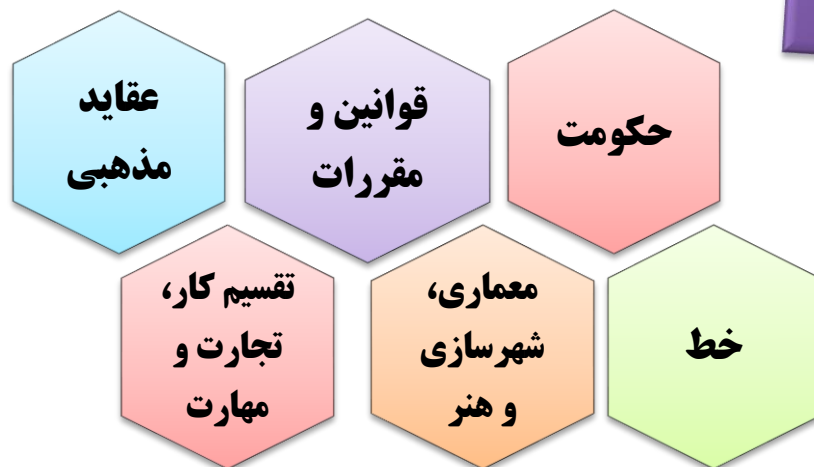
انسان ها با آموختن **کشاورزی و اهلی کردن حیوانات** در کنار
رودخانه ها برای خود خانه های دائمی ساخته و **یکجانشین** شدند.
اولین روستاها در کنار رود های پر آب و چشمه ها پدید آمدند.

انسان ها برای رسیدگی به کارها و نوشتن و محاسبه داد و ستدهایشان **خط** را اختراع کردند.



با پیشرفت در هنر و معماری و ساختن بناها، نخستین **تمدن های بشری** به وجود آمد.

ویژگی های تمدن



شهر سوخته در نزدیکی شهر زابل در استان سیستان و بلوچستان قرار دارد.

باستان شناسان با مطالعه اشیاء به دست آمده در این منطقه حدس زدند که حدود **۵ هزار سال** پیش تمدن بزرگی در این منطقه وجود داشته است و چون به دلیل نامعلومی (ظاهراً آتش سوزی) از بین رفته است آن را **شهر سوخته** نامیده اند.



ایلامی ها حدود ۳ هزار سال پیش در نزدیکی شوش تمدن بزرگی را به وجود آوردند.
ایلامی ها با هنر سفال سازی آشنا بودند و ظروف مختلف سفالی از آن ها بجای مانده است.



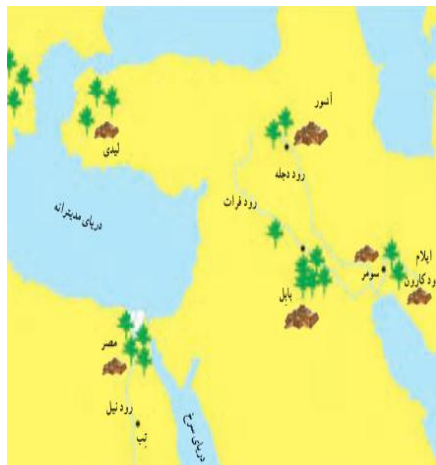
قانون هایی را که پادشاهان ایلامی وضع می کردند روی لوح های گلی می نوشتند.



زیگورات چغازنبیل شوش

تمدن جیرفت: در نزدیکی جیرفت کرمان در کنار هلیل رود شناسایی شد.

وسایل و ظروف سنگی و مفرغی با نقش جانوران، زیگورات و کتیبه های آجری از آثار بجا مانده از تمدن جیرفت است. باستان شناسان، هنوز موفق به خواندن خط این تمدن نشده اند.



هم زمان با تمدن ایلام در ایران، در منطقه بین النهرین (سرزمین بین دو رود دجله و فرات) تمدن بابل و آشور و در کنار رود نیل تمدن مصر شکل گرفتند.



حضرت نوح و حضرت
ابراهيم در بين النهرين



حضرت يوسف و
حضرت موسى در مصر



حضرت عيسى در
فلسطين

همه این پیامبران از جانب خداوند برای هدایت مردم برگزیده شدند.

حضرت محمد(ص) که آخرین پیامبر الهی است، در نامه ای به پادشاه ساسانی، از وی خواست دست از ظلم و ستم برداشته و به آیات خدا بیندیشد و عمل کند.

پاسخ فعالیت ها



۱. کاربرگه شماره (۱۶)


الف) این سنگ نگاره چه مرحله ای از زندگی بشر را نشان می دهد؟ مرحله شکار و زندگی غارنشینی.

ب) چرا انسان های آن دوره، چنین تصویرهایی را روی سنگ ها می کردند؟ به منظور حفظ حکایت های خود و تاریخ نویسی ابتدایی و انتقال تجربیات خود به آیندگان.


۲. الف) در پدید آمدن تمدن ایلام کدام رود نقش داشته است؟ رود کارون.

ب) شرایط جغرافیایی این منطقه چه تأثیری در به وجود آمدن این تمدن داشته است؟ رودهای پر آب، سرزمین جلگه ای و حاصلخیز، همسایگی با تمدن های بین النهرین.

۳. کاربرگه شماره (۱۷)



ریسندگی و بافندگی




ساخت ابزار (ظروف سفالین)



درست کردن نان (نانوایی)

۴. با توجه به مطالب نمودار ویژگی های تمدن و مشاهده تصاویر مربوط به تمدن ایلام، دلیل بیاورید که ایلام یک تمدن بوده است؟ داشتن حکومت، داشتن قوانین و نوشتن آن ها بر روی لوح های گلی، داشتن خط مخصوص روی آجرهای چغازنبیل، داشتن هنر و معماری، پرستش خدایان.

۵. این تصاویر هریک سرگذشت کدام پیامبر الهی را نشان می دهد؟



حضرت موسی (ع)



حضرت ابراهیم (ع)



حضرت نوح (ع)

۶. الف) نام سوره هایی در قرآن را که به نام یک پیامبر نامیده شده اند، بیان کنید. نوح، یوسف، هود، ابراهیم، یونس، محمد، طه (از نام های پیامبر اکرم).

ب) معنی آیات ۱۰۳ تا ۱۴۰ سوره اعراف را بخوانید. این آیات مربوط به سرگذشت کدام پیامبر الهی است؟ این آیات با بیان داستان حضرت موسی شروع شده و از جزئیات آمدنش به نزد فرعون و ادعای پیامبری خویش که از طرف خدا به سمت فرعون و قومش رسالت داده تا نجات بنی اسرائیل و دو معجزه ای که خداوند در شب طور به وی کرامت می کند را ذکر می کند. در آیات بعدی اجمالی از داستان زندگی حضرت موسی در مصر و عذاب های نازل شده بر قوم فرعون و نجات بنی اسرائیل و داستان نزول تورات و گوساله پرستی بنی اسرائیل را ذکر می کند.