

درسنامه و نکات مهم مطالعات اجتماعی، ششم

قاره آمریکا و قاره اقیانوسیه (۱۲)

قاره استرالیا و اقیانوسیه (درس ۲۴)

دیر: صفوی

فارس، جهرم

سال تحصیلی ۱۴۰۰-۱۳۹۹

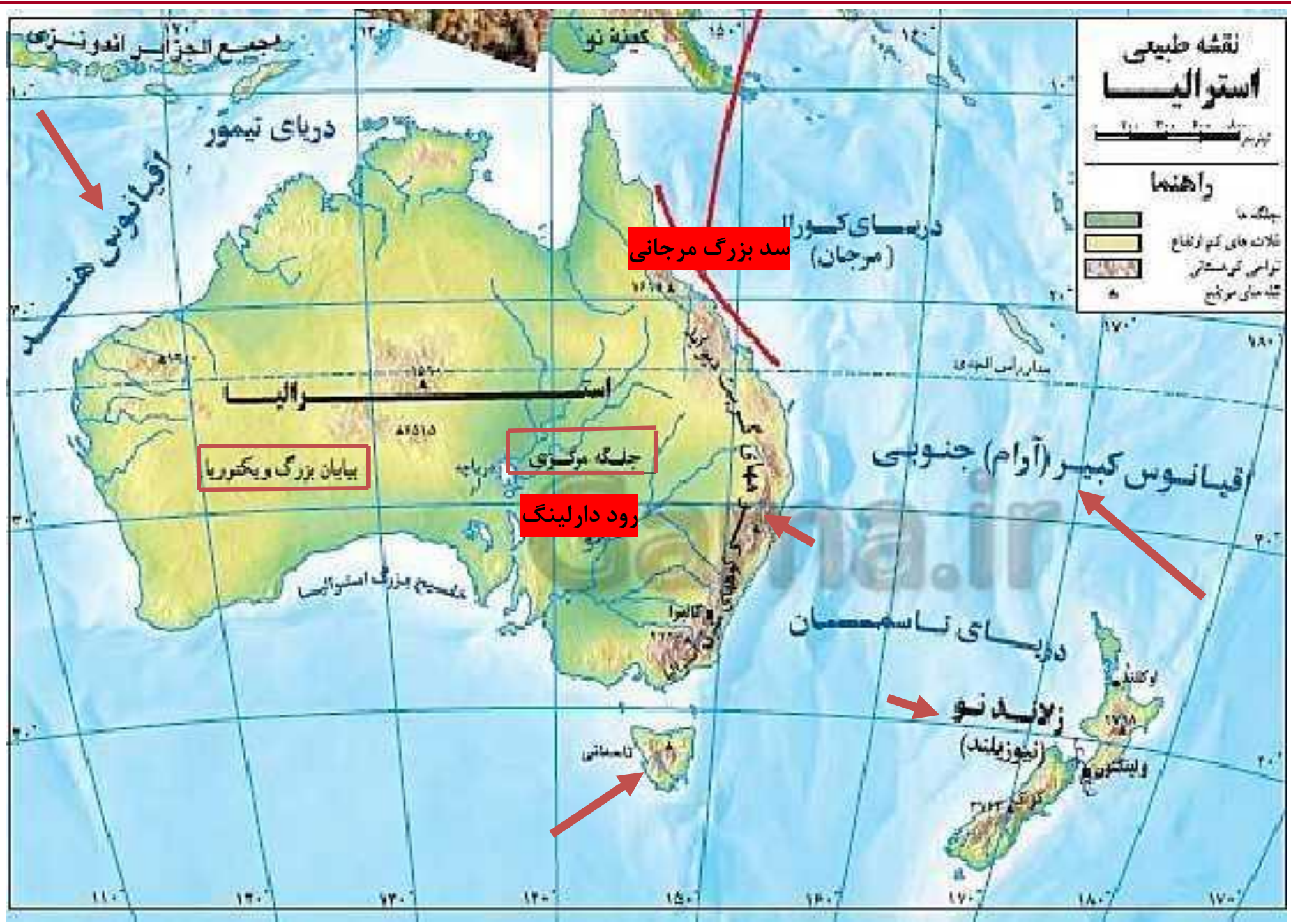


# نقشه طبیعی استرالیا



## رأهنما

- چلگه ها
- خلات های کم ارتفاع
- تواسر کوهستانی
- نقشه های مورفوج



## ویژگی های طبیعی و انسانی

- اقیانوسیه کوچک ترین قاره کره زمین و کم جمعیت ترین قاره
- این قاره در نیمکره جنوبی زمین واقع است.
- در منتهی الیه جنوب شرقی قاره آسیا قرار دارد.
- این قاره در آب های اقیانوس آرام قرار دارد.
- در شرق استرالیا در آب های اقیانوس آرام حدود ۲۰ تا ۳۰ هزار جزیره قرار دارد که مهم ترین آن نیوزیلند (زلاند نو) است.



چرا نماد استرالیا کانگورو و شتر مرغ است

کانگوروها و شتر مرغ های استرالیایی نمی توانند به عقب حرکت کنند.

به همین دلیل به عنوان نماد استرالیا انتخاب شدند



- در شمال شرق استرالیا در اقیانوس آرام ، سد بزرگ مرجانی وجود دارد.
- بزرگ ترین تکه سنگ جهان آیرز راک (عقیق سرخ) در استرالیا است.

➤ بیابان استرالیا : ویکتوریا

➤ رشته کوهی که در نیوزیلند قرار دارد آلپ جنوبی نام گرفته است.

➤ نماد استرالیا : کانگورو - نماد نیوزیلند : پرنده کیوی

➤ زبان رسمی استرالیا و نیوزیلند : انگلیسی

➤ هردو کشور مسیحی محسوب می شوند .

➤ مرکز حکومت استرالیا : کانبرا - مرکز حکومت نیوزیلند : ولینگتن

➤ دو شهر و بندر مهم استرالیا : ملبورن و سیدنی

## موقعیت و وسعت

### نظریه های مختلف در مورد استرالیا و اقیانوسیه



۱- برخی صاحب نظران ، استرالیا و جزایری که در نزدیکی آن در اقیانوس آرام

قرار گرفته ، اقیانوسیه می نامند ، و آن را یک قاره محسوب می کنند.

۲- برخی دیگر استرالیا را قاره ای مستقل به حساب می آورند.

در هر صورت استرالیا و اقیانوسیه کم وسعت ترین و کم جمعیت ترین قاره مسکونی جهان است.



این قاره در منتهی الیه جنوب شرقی قاره آسیا در آب های اقیانوس آرام قرار دارد.

سرزمین اصلی اقیانوسیه **استرالیا ست** که مانند جزیره ای پهناور در اقیانوس آرام قرار دارد.

در شرق استرالیا در آب های اقیانوس آرام ، جزایر بی شماری بین ۲۰ تا ۳۰ هزار جزیره وجود دارد.

یکی از جزایر مهم و بزرگ اقیانوسیه ، **کشور نیوزیلند (زلاند نو)** است.

## فعالیت

۱- به طور گروهی، استرالیا و نیوزیلند را در یک اطلس، پیدا کنید. سپس هر گروه، چند جزیره دیگر در اقیانوسیه نام ببرد.

۲- قاره استرالیا و اقیانوسیه در کدام نیمکره قرار دارد؟ نیمکره شمالی یا نیمکره جنوبی؟ چرا؟

۳- استرالیا از اطراف به کدام اقیانوس ها مربوط می شود؟

۱- جزایر سلیمان (جزیره مالایتا- جزیره سان کریستو بال- جزیره جورجیای جدید- جزیره وانیکورو - جزیره شوازل و ...)

جزایر وانواتو ( جزیره مانوو - جزیره پامآما- جزیره ارو مانگو - جزیره مالکولا و...)

جزایر فیجی ( جزایر لائو - جزایر یاساوا- جزیره لاباسا - جزیره کاداوو و ...)

جزایر زلاند نو (نیوزیلند (جزایر چاتام - جزیره بو نتی - جزیره اسنارز- جزیره جنوبی - جزیره آنتیپودس- جزایر اوکلند و ...)

۲- نیمکره جنوبی - زیرا در جنوب خط استوا قرار گرفته اند.

۳- اقیانوس آرام در شرق - اقیانوس هند در غرب و شمال غرب- دریای ارافورا و دریای تیمور در شمال



## ویژگی های طبیعی

✚ استرالیا سرزمینی است تقریباً هموار  
✚ فقط در شرق این کشور رشته کوه هایی به موازات ساحل کشیده شده است .


(رشته کوه های گریت دیواید)

✚ در شمال شرقی استرالیا بزرگترین صخره مرجانی

دنیا ، به شکل دیواری از آب های اقیانوس آرام سر برآورده است.

- این صخره بیش از ۲۰۰۰ کیلو متر طول دارد .
- صدها نوع ماهی در این صخره مرجانی زندگی می کنند.
- در این منطقه ف امکانات خوبی برای گردشگرانی که از این صخره مرجانی دیدن می کنند به وجود آمده است.
- ✚ بیابان بزرگ استرالیا ویکتوریا نام دارد.

رشته کوه های شرق استرالیا



○ صخره یا سد مرجانی





○ آیرز راک (عقیق سرخ)



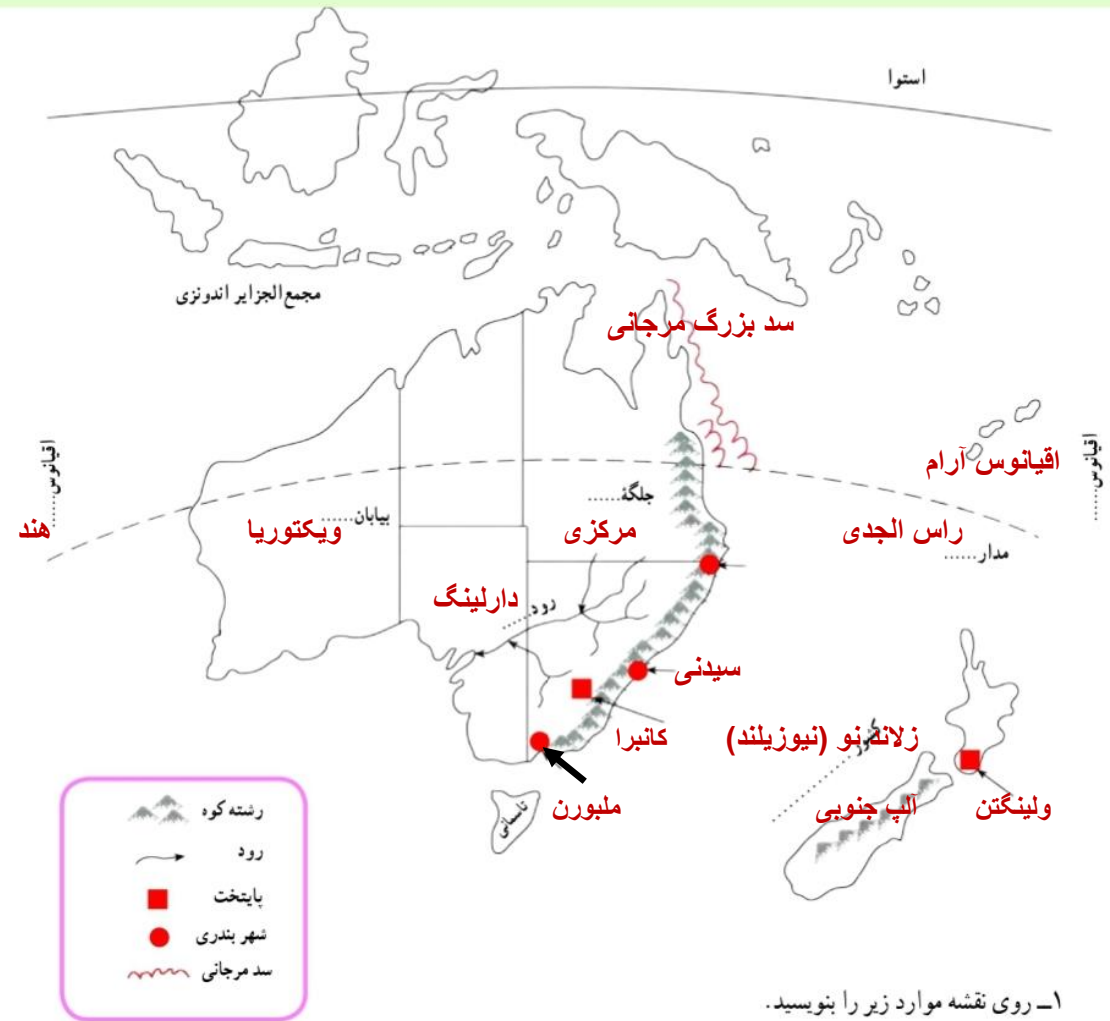
آیرز راک، صخرهٔ ماسه‌ای عظیمی است که تقریباً در استرالیا مرکزی به وجود آمده است. این سنگ، بزرگ‌ترین تکه سنگ جهان است که حدود ۹ کیلومتر طول و ۳۴۳ متر ارتفاع دارد و جزء میراث جهانی یونسکو شناخته شده است. این منظرهٔ طبیعی در نزد بومیان، مقدس محسوب می‌شود.



○ کانگورو، نماد کشور استرالیا است و حدود ۶۳ گونهٔ این جانور کیسه‌دار در کشور استرالیا زندگی می‌کنند.



○ بیابان ویکتوریا، حدود ۳۵۰/۰۰۰ کیلومتر مربع وسعت دارد و در آن تپه‌های ماسه‌ای فراوان دیده می‌شود. در این منطقه، بومیان استرالیا از قبایل مختلف زندگی می‌کنند.



۱- روی نقشه موارد زیر را بنویسید.

- نام اقیانوس‌های اطراف استرالیا

- نام رود، جلگه و بیابان مشخص شده رود دارلینگ - جلگه مرکزی - بیابان ویکتوریا

- نام کشور جزیره‌ای که در منطقه اقیانوسیه واقع است و پایتخت آن زلاند نو (نیوزیلند) - پایتخت ولینگتن

- نام پایتخت و دو بندر مهم استرالیا

- نام مدار فرضی که از استرالیا عبور می‌کند. پایتخت استرالیا کاتبرا - دو بندر مهم ملبورن و سیدنی

- محل سد بزرگ مرجانی استرالیا مدار راس الجدی

۲- نقشه را به دلخواه رنگ‌آمیزی کنید.

## فصلیت

به نقشه، توجه کنید و به پرسش‌ها، پاسخ دهید.

۴- رشته‌کوه‌های نسبتاً مرتفع در کدام سمت استرالیا و به موازات ساحل کدام اقیانوس، کشیده شده‌اند؟

۵- در نیمه غربی استرالیا چه نوع ناهمواری وجود دارد؟

۶- جلگه مرکزی استرالیا از آبرفت‌های کدام رود، پدید آمده است؟ این رود به کجا می‌ریزد؟

۷- پهناورترین بیابان استرالیا چه نام دارد؟

۸- کاربرگه شماره ۱۸ (نقشه استرالیا، نیوزیلند) را انجام دهید.

۴- در شرق - اقیانوس آرام

۵- فلات غربی

۶- رود دارلینگ - به خور بزرگ استرالیا

۷- بیابان ویکتوریا





جمعیت ، وسعت ، زبان و دین

استرالیا حدود (۷ میلیون و ۶۸۶ هزار و ۸۵۰ کیلومتر مربع وسعت دارد)  
ولی جمعیت آن نسبت به وسعت آن بسیار کم است (حدود ۲۰ میلیون نفر)

اکثریت جمعیت استرالیا و نیوزیلند را مهاجران اروپایی  
(انگلیسی و ایرلندی) تشکیل می دهند.  
درصد کمی از جمعیت هم بومیان هستند.

زبان رسمی استرالیا و  
نیوزیلند انگلیسی است.

پیروان ادیان دیگر نیز  
در این کشور ها زندگی می  
کنند.

استرالیا و نیوزیلند جزء  
کشورهای **مسیحی** محسوب  
می شوند .

به دلیل مهاجر پذیر بودن ،  
زبان های مختلفی در این  
کشور ، تکلم می شود.





## گردشگری

استرالیا و نیوزیلند به دلیل جاذبه های طبیعی:

❖ وجود سواحل طولانی

❖ تنوع محیطی

❖ گونه های جانوری

و هم چنین به دلیل :

➤ ساختن اماکن تفریحی و گردشگری باعث شده است که گردشگران

بتوانند از این محیط ها به خوبی استفاده کنند.



## فعالیت

- ۹- چند مورد از شباهت‌ها و تفاوت‌های طبیعی، اقتصادی، جمعیتی، فرهنگی و... استرالیا و نیوزیلند را بیان کنید.
- ۱۰- چرا نام رشته کوه‌های آلپ جنوبی یا برخی شهرها و مناطق استرالیا و نیوزیلند با مکان‌ها و نواحی اروپا هم‌نام است؟

زبان و دین	فرهنگ	جمعیت	اقتصادی	طبیعی	استرالیا و نیوزیلند
زبان رسمی هر دو کشور انگلیسی و دین رسمی دو کشور دین مسیحی است.	مهاجران انگلیسی فرهنگ آنگلو ساکسون دارند. بومیان نیز فرهنگ بومی خود را دارند.	بیشتر جمعیت هر دو کشور تشکیل شده از مهاجران انگلیسی و ایرلندی	هر دو صنعتی و پیشرفته هستند. و محصولات دامی تولید و صادر می‌کنند.	هر دو در آب‌های اقیانوس آرام قرار دارند به صورت جزیره ای هستند و در نیمکره جنوبی واقع شده اند و دارای جزایر بسیاری هستند.	شباهت‌ها
		جمعیت نیوزیلند نسبت به وسعت آن متراکم تر است.		استرالیا سرزمینی تقریباً هموار نیوزیلند کوهستانی است.	تفاوت‌ها

- ۱۰- چون این دو کشور مستعمره کشورهای اروپایی (انگلستان) بود و به سبب مهاجرت اروپاییان و تسلط بر این دو کشور