

تاریخ امتحان: ۹۸/۳/۱

اداره کل آموزش و پرورش استان مازندران

نام:

ساعت شروع: ۱۱ صبح

سؤالات ارزشیابی هماهنگ استانی درس مطالعات اجتماعی

نام خانوادگی:

مدت امتحان: ۶۰ دقیقه

دانش آموزان مدارس روزانه، بزرگسال، آموزش از راه دور و داوطلبان آزاد

نام پدر:



تعداد کل سؤالات: ۲۳ تعداد کل صفحه: ۴

پایه نهم خرداد ماه ۱۳۹۸ نوبت: صبح

شماره کلاس:

نمره

یادآوری: دانش آموزان عزیز پاسخ سؤالات را با دقت در همین برگه بنویسید.

فصل	(بخش اجباری) دانش آموز عزیز لطفاً به همه سؤالات فصل هفتم الی دوازدهم، پاسخ مناسبی دهید.
فصل ۷	۱- صحیح یا غلط بودن عبارات زیر را در ارتباط با انقلاب مشروطه در ایران مشخص کنید. الف- انقلاب مشروطیت با هدف برقراری حکومت قانون و رهایی از استبداد شکل گرفت. <input type="checkbox"/> ص <input type="checkbox"/> غ ب- محمدعلی شاه با تسلیم در برابر خواسته های مردم، فرمان مشروطه را صادر کرد. <input type="checkbox"/> ص <input type="checkbox"/> غ پ- در نظام پادشاهی استبدادی قدرت و اختیارات پادشاه بر اساس قانون کاهش می یابد. <input type="checkbox"/> ص <input type="checkbox"/> غ
۱	۲- در دوره حکومت رضاشاه، چه اقداماتی برای نوسازی ایران به تقلید از اروپا صورت گرفت؟ دو مورد
فصل ۸	۳- هریک از ایام زیر، با چه رویداد و مناسبتی در تاریخ انقلاب اسلامی ایران شناخته می شود؟ الف- ۱۹ دی ۱۳۵۶ (.....) ب- ۲۲ بهمن ۱۳۵۷ (.....) پ- ۳۱ شهریور ۱۳۵۹ (.....)
۱	۴- برجسته ترین مخالف تصویب نامه انجمن های ایالتی و ولایتی چه کسی بود؟ دلیل مخالفتش چه بود؟
فصل ۹	۵- من چیستم؟ با توجه به درس فرهنگ، تصویر زیر (آرم استاندارد) نشان دهنده کدام مفهوم اجتماعی است؟ کاربرد آن چیست؟ 
۱	۶- در رابطه با موضوع هویت و فرهنگ پاسخ مناسب دهید.  الف: تصویر روبرو؛ در واقع، پاسخ به کدام پرسش است؟ "کیستی یا چیستی؟" ب: با دیدن نقشه ایران به یاد کدام عنصر تشکیل دهنده هویت ما می افتید؟ اثر انگشت
۷	جمع نمره این صفحه «ادامه ی سؤالات در صفحه ی دوم»

نام:	بسمه تعالی	تاریخ امتحان: ۹۸/۳/۱
نام خانوادگی:	اداره کل آموزش و پرورش استان مازندران	ساعت شروع: ۱۱ صبح
نام پدر:	سؤالات ارزشیابی هماهنگ استانی درس مطالعات اجتماعی	مدت امتحان: ۶۰ دقیقه
شماره کلاس:	دانش آموزان مدارس روزانه، بزرگسال، آموزش از راه دور و داوطلبان آزاد	تعداد کل سؤالات: ۲۳
	پایه نهم خرداد ماه ۱۳۹۸ نوبت: صبح	تعداد کل صفحه: ۴

نمره	یادآوری: دانش آموزان عزیز پاسخ سؤالات را با دقت در همین برگه بنویسید.
۰/۵	۷- آپارتمان نشینی چه تغییری در ارزش ها و یا هنجارها در جامعه ی ما ایجاد کرد؟ یک مورد
۱/۵	۸- " نرگس و علی " موافق خانواده ی تک فرزندی هستند و برای آن دلایلی ارائه می دهند، شما برای رد کردن نظر آنها، سه دلیل منطقی و قانع کننده ارائه دهید.
۱	۹- دو مورد از کارکردهای خانواده را نام ببرید .
۱/۵	۱۰- سؤالات جور کردنی : گزینه های مربوط به هم را وصل کنید. (یک مورد از سمت چپ اضافی می باشد). الف - تصویب قانون شهروندی ب - پیشگیری از وقوع جرم پ - اجرای قانون حفاظت از منابع طبیعی ۱- قوه مجریه ۲- قوه مقننه ۳- مجلس خبرگان ۴- قوه قضائیه
۱	۱۱- مالیات چیست؟
۱	۱۲- الف - یکی از عادات های نادرست بعضی از دانش آموزان، مصرف نامناسب و بی رویه کاغذ است. شما دورا هکار مفید برای بهره وری در مصرف کاغذ پیشنهاد کنید.
۱/۵	پ - منظور از بهره وری سبز چیست؟ توضیح دهید.
۱۵	جمع نمره فصل ۱۷ الی ۱۲ «ادامه ی سؤالات در صفحه ی سوم»

تاریخ امتحان: ۹۸/۳/۱

اداره کل آموزش و پرورش استان مازندران

نام:

ساعت شروع: ۱۱ صبح

سؤالات ارزشیابی هماهنگ استانی درس مطالعات اجتماعی

نام خانوادگی:

مدت امتحان: ۶۰ دقیقه

دانش آموزان مدارس روزانه، بزرگسال، آموزش از راه دور و داوطلبان آزاد

نام پدر:

تعداد کل سؤالات: ۲۳ تعداد کل صفحه: ۴

پایه نهم خرداد ماه ۱۳۹۸ نوبت: صبح

شماره کلاس:

یادآوری: دانش آموزان عزیز پاسخ سؤالات را با دقت در همین برگه بنویسید.

(بخش اختیاری) دانش آموز عزیز در این بخش فقط دو فصل را در جدول زیر انتخاب و به سؤالات همان دو فصل پاسخ دهید.

فصل ۱	فصل ۲	فصل ۳	فصل ۴	فصل ۵	فصل ۶

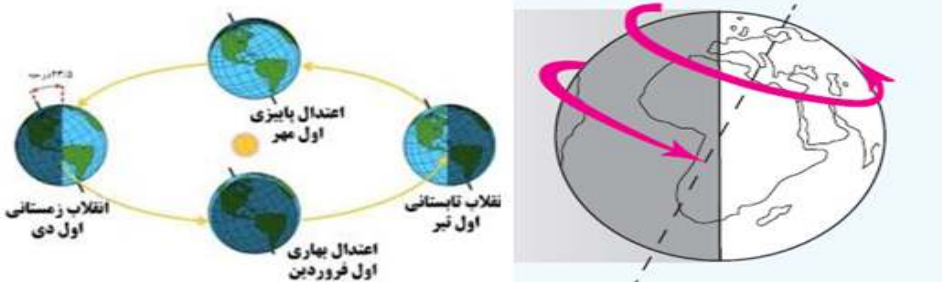
۱۳- بعد از سیاره تیر در منظومه شمسی کدام سیارات قرار دارند؟ در نمودار زیر به ترتیب بنویسید.



۱

۱۴- با مشاهده تصاویر زیر پیرامون انواع حرکات زمین، به سوال مطرح شده پاسخ مناسب دهید.

کدام تصویر (سمت چپ یا راست)، حرکت انتقالی زمین را نشان می دهد؟ دو نتیجه‌ی این حرکت را بنویسید.



۱/۵

فصل

یک

۱۵- از نتایج حرکت ورقه های پوسته زمین، دو مورد را بنویسید.

۱۶- دو عامل (طبیعی) موثر بر آب و هوای جهان را نام ببرید.

۱۷- محل تلاقی آب های سرد و گرم اقیانوس ها مانند: شرق ژاپن، دارای چه اهمیت اقتصادی می باشد؟

۱۸- با توجه به فصل زیست کره، به پرسش های مطرح شده پاسخ مناسبی دهید.

الف- در شمال زیست بوم تایگا چه نوع زیست بومی وجود دارد؟

ب- هر یک از گونه های گیاهی و جانوری زیر مربوط به چه زیست بومی هستند؟

۱- زرافه: (.....) ۲- بامبو (.....)

پ- دو پیشنهاد برای حفظ گونه های نادر جانوری مثل: ببر و فیل ارائه دهید.

۰/۵

۱

۱

فصل

سه

جمع نمره این صفحه ۷/۵

«ادامه‌ی سؤالات در صفحه‌ی چهارم»

نام:	بسمه تعالی	تاریخ امتحان: ۹۸/۳/۱
نام خانوادگی:	اداره کل آموزش و پرورش استان مازندران	ساعت شروع: ۱۱ صبح
نام پدر:	سؤالات ارزشیابی هماهنگ استانی درس مطالعات اجتماعی	مدت امتحان: ۶۰ دقیقه
شماره کلاس:	دانش آموزان مدارس روزانه، بزرگسال، آموزش از راه دور و داوطلبان آزاد	تعداد کل سؤالات: ۲۳
	پایه نهم خرداد ماه ۱۳۹۸ نوبت: صبح	تعداد کل صفحه: ۴

یادآوری: دانش آموزان عزیز پاسخ سؤالات را با دقت در همین برگه بنویسید.

۱	۱۹- منظور از مهاجرت اجباری چیست؟	فصل چهار				
۱/۵	۲۰- سه مورد از "شاخص هاوملاک های توسعه انسانی" را نام ببرید.					
۱	۲۱- پیرامون حکومت صفویه به پرسش های زیر پاسخ مناسبی دهید. الف- مهم ترین دشمنان صفویان را با توجه به نقشه عصر صفوی مشخص کنید. ۱- شماره یک ؟ ۲- شماره دو ؟	فصل پنج				
۱/۵	<p>ب- سه علت گسترش تجارت در دوره صفوی را بنویسید.</p>					
۱	۲۲- به کمک موارد داخل پرانتز، نمودار خط زمان عصر قاجاریه را به ترتیب زمان رویداد، بطور مناسب کامل کنید. (یک مورد اضافه و نامناسب است). (فتح دهلی - واگذاری بهره برداری از شیلات به بیگانگان - عهدنامه گلستان)	فصل شش				
۱/۵	<table border="1" style="width: 100%; text-align: center;"> <tr> <td style="width: 25%;"></td> <td style="width: 25%;">تاسیس مدرسه دارالفنون</td> <td style="width: 25%;"></td> <td style="width: 25%;">نهضت تنباکو</td> </tr> </table>		تاسیس مدرسه دارالفنون		نهضت تنباکو	
	تاسیس مدرسه دارالفنون		نهضت تنباکو			
۱/۵	۲۳- به سؤالات چهارگزینه ای زیر پاسخ مناسبی دهید. الف- انقلاب صنعتی اروپا از کدام کشور آغاز شد؟ الف- فرانسه <input type="checkbox"/> ب- آلمان <input type="checkbox"/> پ- انگلستان <input type="checkbox"/> ت- ایتالیا <input type="checkbox"/> ب- کدام پادشاه به صلح، آسایش و آرامش عمومی اهمیت می داد؟ الف- نادر <input type="checkbox"/> ب- کریم خان <input type="checkbox"/> پ- آقامحمدخان <input type="checkbox"/> ت- ناصرالدین شاه <input type="checkbox"/> پ- مهمترین مستعمره انگلستان هم زمان با دوره قاجاریه، کدام کشور زیر بوده است؟ الف- مصر <input type="checkbox"/> ب- ایران <input type="checkbox"/> پ- عربستان <input type="checkbox"/> ت- هند <input type="checkbox"/>					
۲۰	موفق باشید. جمع نمره					
	نمره با عدد:	نمره با حروف:				
	نام و نام خانوادگی دبیر:	امضا دبیر:				

نظر طراح : نظر کلیه همکاران گرامی در پاسخ به سؤالات مفهومی و بازپاسخ، محترم می باشد.

بخش اجباری "۱"	الف: ص	ب: غ	ج: غ	(هر مورد ۰/۵ نمره)	۱/۵
۲) ایجاد دانشگاه تهران - نوسازی تشکیلات نظامی - احداث راه آهن سراسری و... دومورد (هر مورد ۰/۵ نمره)					۱
۳) الف: قیام مردم قم ب: پیروزی انقلاب اسلامی ایران پ: حمله نظامی عراق علیه ایران (هر مورد ۰/۵ نمره)					۱/۵
۴- امام خمینی - امام می دانست که هدف حکومت از این تغییرات، مخالفت با اسلام و تخریب ارزش های اسلامی است.					۱
۵) نماد - هر جامعه ای برای انتقال معانی مورد نظر خود از انواع معینی از نمادها استفاده می کند.					۱
۶- الف: کیستی ب: هویت ایرانی/ هویت ایرانی اسلامی/ سرزمین ایران و... یک مورد (دو بخش ۱ نمره)					۱
۷- پرخوری و کم تحرکی/ عدم صله رحم و... (یک مورد، ۰/۵ نمره)					۰/۵
۸- الف: بقای هر جامعه به جمعیت آن است ب: نیروی کار جوان به افزایش جمعیت ارتباط دارد ج: دفاع از مرز و بوم به نیروی جوان نیاز است. تولید علم توسط نسل جوان انجام می شود و...				(سه مورد، ۱/۵ نمره)	۱/۵
۹- ۱. فرزندآوری و تجدید نسل ۲. حمایت و مراقبت ۳. جامعه پذیری و تربیت (دو مورد، ۱ نمره)					۱
۱۰- الف: ۲ ب: ۴ پ: ۱ (سه مورد، ۱/۵ نمره)					۱/۵
۱۱- مبلغی است که شهروندان بر اساس قانون و به صورت بلاعوض به دولت پرداخت می کنند تا صرف هزینه های عمومی کشور گردد.					۱
۱۲- الف: جمع آوری و تفکیک کاغذهای باطله جهت استفاده مجدد ب: استفاده از دفترهای سال تحصیلی گذشته که صفحات سفید آن مانده است. و... دو مورد					۱
ب: این است که از ابزارها، روش ها و فناوری های مختلف در همه مراحل تولید، توزیع و مصرف به گونه ای استفاده کنیم که تاثیرات مضر و منفی فعالیت ها بر محیط زیست به کمترین حد ممکن برسد.					۱/۵
"بخش اختیاری"					
فصل اول : ۱۳- اول ناهید بعد از آن زمین					۱
۱۴- سمت چپ - الف: پیدایش فصل ها و ماه ها ب: پیدایش سال					۱/۵
فصل دوم : ۱۵- ایجاد چین خوردگی ها و ورشته کوه ها، شکست ها (گسل ها)، کوه های آتشفشانی. دومورد					۱
۱۶- زاویه تابش خورشید (عرض جغرافیایی) - دوری و نزدیکی به اقیانوس ها و دریاها - ارتفاع از سطح دریاها - فشار هوا و جریان هوا دومورد					۱/۵
۱۷- مهم ترین مناطق صید ماهی جهان است					
فصل سوم : ۱۸. الف) توندرا ۵/نمره ب) ۱: ساوان ۲: جنگل های بارانی استوایی ۱ نمره					۱/۵
پ) ۱. بر خورد ملی و بین المللی با کشتار این گونه ها ۲. پرورش درزیستگاه های محافظت شده و... دومورد					۱
فصل چهارم : ۱۹: افراد بدون میل و اراده خود و به دلایلی چون قحطی، جنگ و... مجبور به ترک محل زندگی خود می شوند.					۱
۲۰: الف) درآمد و رفاه ب) امید به زندگی یا متوسط طول عمر ج) سواد و آموزش					۱/۵
فصل پنجم : ۲۱: الف) ۱. ازبکان ۲. عثمانی					۱
ب) ۱. وجود امنیت و نظم ۲. ایجاد شبکه هایی از راه ها و کاروانسراها ۳. رفتار پسندیده ماموران راهداری و... سه مورد					۱/۵
فصل ششم : ۲۲: اولی از چپ عهدنامه گلستان دومین جای خالی واگذاری بهره برداری از شیلات به بیگانگان					۱
۲۳: الف) (پ) انگلستان ب) (ب) کریم خان پ) (ت) هند					۱/۵
موفقیت و سربلندی فرزندان ایران اسلامی آرزوی ماست.					۲۰
جمع کل نمره					