



باسمه تعالی

جمهوری اسلامی ایران

وزارت آموزش و پرورش

اداره کل آموزش و پرورش استان البرز ناحیه ۱ کرج

امتحانات پایانی نیمسال دوم مجتمع آموزشی سلاله سال تحصیلی ۱۴۰۰-۰۱



نام و نام خانوادگی:	آزمون درس : جغرافیا	نمره به عدد:
نام دبیر: سرکار خانم براتی	تاریخ آزمون : ۱۱ / ۰۳ / ۱۴۰۱	نمره به حروف:
کلاس: یازدهم انسانی	مدت آزمون : ۶۰ دقیقه	تعداد صفحات: ۳ صفحه

ردیف	سوالات	بارم
۱	گزینه صحیح را انتخاب کنید. (۱) کدام یک از موارد زیر جزء ۴ زبان رسمی کشور سوئیس نیست؟ الف) آلمانی <input type="checkbox"/> ب) پشتو <input type="checkbox"/> ج) رمانش <input type="checkbox"/> د) فرانسه <input type="checkbox"/> (۲) در کدام گزینه به انواع ساوان اشاره شده است؟ الف) پراکنده-متراکم <input type="checkbox"/> ب) پراکنده-مترکز <input type="checkbox"/> ج) متمرکز-متراکم <input type="checkbox"/> د) هیچکدام <input type="checkbox"/>	۱
۲	جاهای خالی را با کلمات مناسب پر کنید. (۱) حجم وسیعی از هوا که دمای رطوبت در سطح افقی تا صدها کیلومتر ویژگیهای یکسان داشته باشد..... گفته می شود. (۲) در روش جدید برای تمایز زیست بوم ها از یکدیگر.....و..... معیارهای مهم هستند. (۳) در دین مسیحیت، مذهب.....و..... وجود دارد. (۴) .....و..... از مهمترین نواحی کشت غله تجاری دنیا هستند. (۵) از جمله کشورهای پیرامون .....و..... هستند. (۶) ارکان بنیادی کشور.....و..... هستند.	۲
۴	اصطلاحات زیر را تعریف کنید. (۱) پلانتیشن(۱) (۲) اقتصاد جهانی(۱) (۳) ناحیه سیاسی(۱)	۴

	<p>(۴) تالوگ (۱)</p>
۳/۵	<p>۴ پاسخ کوتاه دهید.</p> <p>(۱) علل ایجاد بیابان ها چیست؟ یک مورد (۰/۵).</p> <p>(۲) انواع هوازدگی را نام ببرید. دو مورد. (۱)</p> <p>(۳) نواحی عمده کشاورزی را نام ببرید. دو مورد (۱)</p> <p>(۴) دو اتحادیه اقتصادی منطقه ای را نام ببرید. (۱)</p>
۴	<p>۵ سوالات زیر را پاسخ کامل دهید.</p> <p>(۱) مناطق آزاد تجاری را شرح دهید (۱).</p> <p>(۲) وظایف عمده مدیریت کشور را بنویسید. دو مورد (۱)</p> <p>(۳) بازیگران سیاسی جهان چه کسانی هستند؟ دو مورد (۱)</p> <p>صفحه ۲ از ۳</p>



باسمه تعالی

جمهوری اسلامی ایران

وزارت آموزش و پرورش

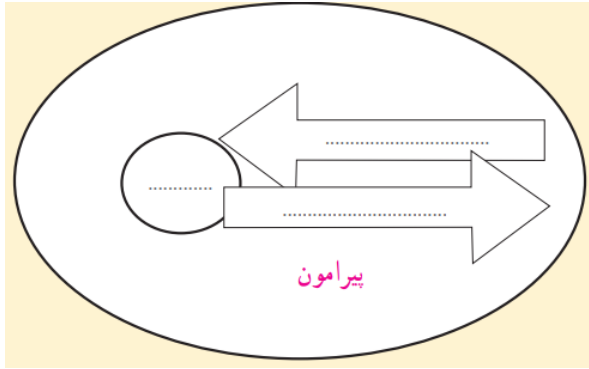
اداره کل آموزش و پرورش استان البرز ناحیه ۱ کرج

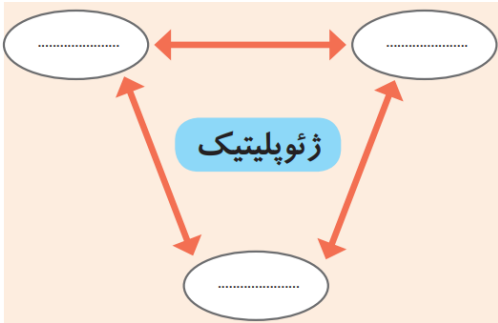
امتحانات پایانی نیمسال دوم مجتمع آموزشی سلاله سال تحصیلی ۱۴۰۰-۰۱



نام و نام خانوادگی:	آزمون درس : جغرافیا	نمره به عدد:
نام دبیر: سرکار خانم براتی	تاریخ آزمون : ۱۱ / ۰۳ / ۱۴۰۱	نمره به حروف:
کلاس: یازدهم انسانی	مدت آزمون : ۶۰ دقیقه	تعداد صفحات: ۳ صفحه

۶	جدول زیر را کامل کنید.										
	<table border="1"> <thead> <tr> <th>شکل کشور</th> <th>جمع و جور</th> <th>طولیل</th> <th>دنباله دار</th> <th>محاطی</th> </tr> </thead> <tbody> <tr> <td>مثال</td> <td></td> <td></td> <td></td> <td></td> </tr> </tbody> </table>	شکل کشور	جمع و جور	طولیل	دنباله دار	محاطی	مثال				
شکل کشور	جمع و جور	طولیل	دنباله دار	محاطی							
مثال											

۷	جاهای خالی شکل زیر را کامل کنید.
۱	

۸	نمودار زیر را کامل کنید.
۱	

۲۰	موفق باشید عزیزان
----	-------------------

ردیف	سوالات	بارم
۱	<p>گزینه صحیح را انتخاب کنید.</p> <p>(۱) کدام یک از موارد زیر جزء ۴ زبان رسمی کشور سوئیس نیست؟                      الف) آلمانی <input type="checkbox"/> ب) پشتو <input type="checkbox"/> ج) رمانش <input type="checkbox"/> د) فرانسه <input type="checkbox"/></p> <p>(۲) در کدام گزینه به انواع ساوان اشاره شده است؟                      الف) پراکنده-متراکم <input type="checkbox"/> ب) پراکنده-متمرکز <input type="checkbox"/> ج) متمرکز-متراکم <input type="checkbox"/> د) هیچکدام <input type="checkbox"/></p>	۱
۲	<p>جاهای خالی را با کلمات مناسب پر کنید.</p> <p>(۱) حجم وسیعی از هوا که دمای رطوبت در سطح افقی تا صدها کیلومتر ویژگیهای یکسان داشته باشد.....<b>توده هوا</b>..... گفته می شود.</p> <p>(۲) در روش جدید برای تمایز زیست بوم ها از یکدیگر <b>میزان تولید ماده آلی و سرعت رشد گیاهان</b> معیارهای مهم هستند.</p> <p>(۳) در دین مسیحیت، مذهب <b>کاتولیک</b>، پروتستان و ارتدوکس وجود دارد. <b>دو مورد</b></p> <p>(۴) <b>چین، هند، ایالات متحده امریکا، روسیه، کانادا، فرانسه و استرالیا</b> از مهمترین نواحی کشت غله تجاری دنیا هستند. <b>دو مورد</b></p> <p>(۵) از جمله کشورهای پیرامون <b>افغانستان، بنگلادش، مراکش، نامبیا، پرو و نیکاراگوئه</b> هستند. <b>دو مورد</b></p> <p>(۶) ارکان بنیادی کشور <b>سرزمین، جمعیت، نظام سیاسی</b> هستند. <b>دو مورد</b></p>	۲
۴	<p>اصطلاحات زیر را تعریف کنید.</p> <p>(۱) پلانتیشن(۱)                      پلانتیشن عبارت است از زمینهای وسیع کشاورزی که به تولید یک محصول خاص اختصاص دارد.</p> <p>(۲) اقتصاد جهانی(۱)                      منظور از اقتصاد جهانی، تجارت بینالمللی کالاها و خدمات است که بر مبنای ارزش یک پول معین صورت میگیرد.</p> <p>(۳) ناحیه سیاسی(۱)                      ناحیه سیاسی به بخشی از سطحزمین گفته میشود که تحت مدیریت سیاسی یا فرمانروایی یک قدرت سیاسی باشد</p> <p>(۴) تالوگ(۱)                      ممکن است خط مرزی عمیقترین تقاطع رود را به هم متصل کنند که به آن تالوگ میگویند</p>	۴

۳/۵	<p>۴ پاسخ کوتاه دهید.</p> <p>(۱) علل ایجاد بیابان ها چیست؟ یک مورد (۰/۵). استقرار مرکز پرفشار یا دوری از منابع رطوبت</p> <p>(۲) انواع هوازدگی را نام ببرید. دو مورد. (۱) فیزیکی / شیمیایی / زیستی</p> <p>(۳) نواحی عمده کشاورزی را نام ببرید. دو مورد (۱) معیشتی / تجاری</p> <p>(۴) دو اتحادیه اقتصادی منطقه ای را نام ببرید. (۱) اکو - آسه آن - نفتا</p>	۴
۳	<p>۵ سوالات زیر را پاسخ کامل دهید.</p> <p>(۱) مناطق آزاد تجاری را شرح دهید (۱).</p> <p>مناطق آزاد تجاری مناطقی هستند که در اصل برای توسعه صادرات یک کشور و رونق اقتصادی آن ایجاد میشوند. در این مناطق، تولیدکنندگان و بازرگانان میتوانند بدون پرداخت حقوق و عوارض گمرکی یا معافیت‌های مالیاتی، به صادرات و واردات و انبارداری کالاها بپردازند</p> <p>(۲) وظایف عمده مدیریت کشور را بنویسید. (۱)</p> <p>اداره امور سرزمین - اداره سازه یا ساختار انسانی - روابط خارجی</p> <p>(۳) بازیگران سیاسی جهان چه کسانی هستند؟ (۱) ۲ مورد</p> <p>- حکومت‌های مستقل؛ - رهبران ایدئولوژیک و افراد برجسته سیاسی که روی مردم نفوذ دارند؛ - گروه‌ها و احزاب سیاسی؛ - سازمان‌های مردم نهاد و غیرحکومتی؛ - سازمان‌های بین‌المللی - نهادهای اقتصادی و تجاری بین‌المللی</p>	۵

جدول زیر را کامل کنید.

۶

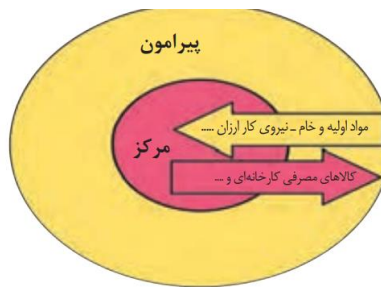
شکل کشور	جمع وجور	طویل	دنباله دار	محاطی
مثال	لهستان	شیلی یا نروژ	تایلند	لسوتو

صفحه ۲ از ۳

جاهای خالی شکل زیر را کامل کنید.

۶

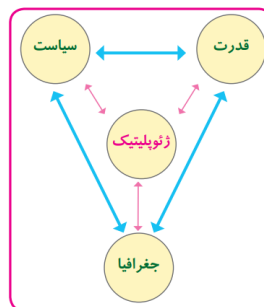
۱



۱

نمودار زیر را کامل کنید.

۷



موفق باشید عزیزان

صفحه ۳ از ۳