



در جاهای خالی کلمه ی مناسب بنویسید.

- ۱- خسرو انوشیروان دانشگاه ----- را تاسیس کرد .
- ۲- برای تهیه نقشه از ----- استفاده می کنند.
- ۳- اداره ی هر روستا به عهده ی ----- و ----- است.
- ۴- معمولا اشیا و آثار تاریخی و باستانی را در ----- نگه می دارند.
- ۵- پارت ها در فنون جنگی و ----- و ----- بسیار ماهر بودند.
- ۶- کوروش رهبر قوم ----- بود.
- ۷- آریایی یعنی ----- و ----- .
- ۸- خیاطی جزو شغل های ----- است .
- ۹- مهمترین مشکل انسان های اولیه ----- بود .
- ۱۰- پیام دین اسلام ----- و ----- بود .

گزینه درست را علامت بزنید.

۱۱- حکومت اشکانیان به وسیله ی کدام قوم به وجود آمد.

الف) پارت ها ب) پارس ها ج) ماد ها د) آشوری ها

۱۲- پرستشگاه مشهور و عظیمی که بقایای آن نزدیک شهر شوش است.

الف) پاسارگارد ب) اهورا مزدا ج) چغازنبیل د) اوستا

۱۳- در زمان کدام پادشاه اشکانی ایران به کشوری بسیار پهناور و قدرتمند تبدیل شد.

الف) شاپور اول ب) مهرداد دوم ج) کوروش د) خسرو پرویز

۱۴- یکی از سرداران اشکانی که کراسوس سردار رومی را شکست داد.

الف) آریوبرزن ب) زرتشت ج) سورنا د) داریوش

۱۵- نوه ی ساسان بود و حکومت ساسانیان را به وجود آورد.

الف) آردشیر ب) ارشک ج) کوروش د) خسرو پرویز

۱۶- بعد از ورود آریایی ها اولین حکومتی که در ایران به وجود آمد چه نام داشت و رهبر آن چه کسی بود؟

الف) پارس ها- کوروش ب) مادها- دیاکو ج) پارت ها- مهرداد دوم د) پارت ها- اشک

۱۷- با رواج کشاورزی مردم در کجا برای خود خانه های دائمی ساختند.

الف) کنار رودها ب) کنار غارها ج) کنار چشمه ها د) گزینه الف و ج

۱۸- اگر یک درخت کاج در جهت شمال شرقی باشد و یک درخت سرو روبروی آن قرار گرفته باشد درخت سرو

در چه جهتی است؟

الف) شمال غربی ب) جنوب شرقی ج) جنوب غربی د) شمال

۱۹- کدام یک از موارد زیر علت اصلی یک جانشینی انسان ها بود؟

الف) استفاده از آتش ب) ساخت ابزار ج) رواج کشاورزی د) هیچکدام

۲۰- جمله های زیر درباره ی کدام گزینه است؟

شغل اصلی آن ها دامپروری است . گوشت ، لبنیات ، گلیم و جاجیم از تولیدات آن ها است.

الف) روستاییان ب) کشاورزان ج) عشایر د) شهرنشینان

۲۱- مفاهیم درست را به هم وصل کنید.

شاهی	<input type="radio"/>	<input type="radio"/>	کتاب مقدس زردتشتیان است
اوستا	<input type="radio"/>	<input type="radio"/>	مهم ترین و طولانی ترین راه زمان هخامنشیان
جدول بودجه	<input type="radio"/>	<input type="radio"/>	به جدولی که در آن درآمد و هزینه و پس انداز نوشته شده می گویند
غار	<input type="radio"/>	<input type="radio"/>	مردم پشت سر امام جماعت در صف های منظم رو به کجا می ایستند
قبله	<input type="radio"/>	<input type="radio"/>	برای در امان ماندن از سرما و حمله حیوانات انسان ها به کجا پناه بردند

به سوالات زیر پاسخ دهید.

۲۲- سه پایه دین زردشت چه بود؟

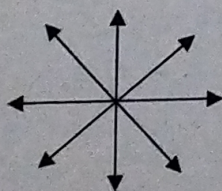
۲۳- کارهای مهم داریوش را بنویسید. (۳ مورد)

۲۴- وسایل یادگیری جغرافیا کدامند؟ (۴ مورد)

۲۵- سه گروه آریایی را نام ببرید.

۲۶- ویژگی های یک تمدن چیست؟ (۴ مورد)

۲۷- چهار جهت اصلی را در شکل مشخص کنید.



۲۸- به سوالات زیر پاسخ دهید و آن ها را روی نقشه مشخص کنید.

- تنگه ای که خلیج فارس را به دریای عمان وصل می کند.

- از چه جهتی سه گروه آریایی وارد سرزمین ایران شدند. (با فلش

نشان دهید)

- دریاهای اطراف ایران را در نقشه پیدا کنید و بنویسید.





در جاهای خالی کلمه ی مناسب بنویسید.

- ۱- خسرو انوشیروان دانشگاه چندی شاپور را تاسیس کرد.
- ۲- برای تهیه نقشه از عین هوایی استفاده می کنند.
- ۳- اداره ی هر روستا به عهده ی دهیار و نوازی است.
- ۴- معمولا اشیا و آثار تاریخی و باستانی را در حوضه نگه می دارند.
- ۵- پارت ها در فنون جنگی و اسب سواری و سوارزاری بسیار ماهر بودند.
- ۶- کوروش رهبر قوم پارس بود.
- ۷- آریایی یعنی کجی و پاک.
- ۸- خیاطی جزو شغل های تولیدی است.
- ۹- مهمترین مشکل انسان های اولیه تجد غذا بود.
- ۱۰- پیام دین اسلام برابری و برادری بود.

گزینه درست را علامت بزنید.

۱۱- حکومت اشکانیان به وسیله ی کدام قوم به وجود آمد.

(الف) پارت ها	(ب) پارس ها	(ج) ماد ها	(د) آشوری ها
---------------	-------------	------------	--------------

۱۲- پرستشگاه مشهور و عظیمی که بقایای آن نزدیک شهر شوش است.

(الف) پاسارگارد	(ب) اهورا مزدا	(ج) چغازنبیل	(د) اوستا
-----------------	----------------	--------------	-----------

۱۳- در زمان کدام پادشاه اشکانی ایران به کشوری بسیار پهناور و قدرتمند تبدیل شد.

(الف) شاپور اول	(ب) مهرداد دوم	(ج) کوروش	(د) خسرو پرویز
-----------------	----------------	-----------	----------------

۱۴- یکی از سرداران اشکانی که کراسوس سردار رومی را شکست داد.

(الف) آریوبرزن	(ب) زرتشت	(ج) سورنا	(د) داریوش
----------------	-----------	-----------	------------

۱۵- نوه ی ساسان بود و حکومت ساسانیان را به وجود آورد.

(الف) آردشیر	(ب) ارشک	(ج) کوروش	(د) خسرو پرویز
--------------	----------	-----------	----------------

۱۶- بعد از ورود آریایی ها اولین حکومتی که در ایران به وجود آمد چه نام داشت و رهبر آن چه کسی بود؟

(الف) پارس ها- کوروش	(ب) مادها- دیاکو	(ج) پارت ها- مهرداد دوم	(د) پارت ها- اشک
----------------------	------------------	-------------------------	------------------

۱۷- با رواج کشاورزی مردم در کجا برای خود خانه های دائمی ساختند.

(الف) کنار رودها	(ب) کنار غارها	(ج) کنار چشمه ها	(د) گزینه الف و ج
------------------	----------------	------------------	-------------------

۱۸- اگر یک درخت کاج در جهت شمال شرقی باشد و یک درخت سرو روبروی آن قرار گرفته باشد درخت سرو

در چه جهتی است؟

(الف) شمال غربی	(ب) جنوب شرقی	(ج) جنوب غربی	(د) شمال
-----------------	---------------	---------------	----------

سرو

۱۹- کدام یک از موارد زیر علت اصلی یک جانشینی انسان ها بود؟

(د) هیچکدام

(ج) ارواح کشاورزی

(ب) ساخت ابزار

(الف) استفاده از آتش

۲۰- جمله های زیر درباره ی کدام گزینه است؟

شغل اصلی آن ها دامپروری است . گوشت ، لبنیات ، گلیم و جاجیم از تولیدات آن ها است .

(د) شهرنشینان

(ج) عشایر

(ب) کشاورزان

(الف) روستاییان

۲۱- مفاهیم درست را به هم وصل کنید.

- کتاب مقدس زردتشتیان است

- مهم ترین و طولانی ترین راه زمان هخامنشیان

- به جدولی که در آن درآمده و هزینه و پس انداز نوشته شده می گویند

- مردم پشت سر امام جماعت در صف های منظم رو به کجا می ایستند

- برای در امان ماندن از سرما و حمله حیوانات انسان ها به کجا پناه بردند


شاهی



اوستا



جدول بودجه



غار



قبله



به سوالات زیر پاسخ دهید.

۲۲- سه پایه دین زردشت چه بود؟

نهارین - پندارین - کردارین

۲۳- کارهای مهم داریوش را بنویسید. (۳ مورد) ساخت راه ها - چاپارخانه - ضرب سله طلا

سیاه ده هزار نفری

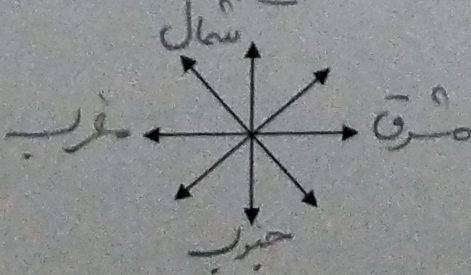
۲۴- وسایل یادگیری جغرافیا کدامند؟ (۴ مورد) یارانه - نقشه - کتاب - علس - قلم

۲۵- سه گروه آریایی را نام ببرید. سارها - پارس ها - پارت ها

۲۶- ویژگی های یک تمدن چیست؟ (۴ مورد) هنر - عقاید مذهبی - تقسیم کار - حکومت و سازماندهی

خط - دادوستد

۲۷- چهار جهت اصلی را در شکل مشخص کنید.



۲۸- به سوالات زیر پاسخ دهید و آن ها را روی نقشه مشخص کنید.

- تنگه ای که خلیج فارس را به دریای عمان وصل می کند. هرمز

- از چه جهتی سه گروه آریایی وارد سرزمین ایران شدند. (با فلش

نشان دهید)

- دریاها ی اطراف ایران را در نقشه پیدا کنید و بنویسید. خزر - خلیج فارس

دریای عمان

