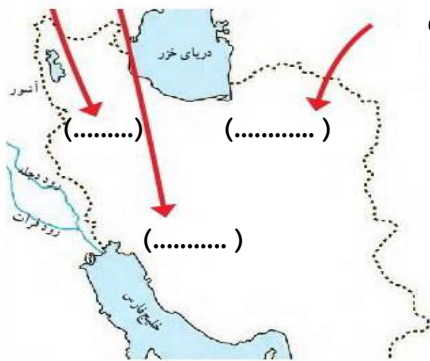













بارم	شرح سوالات	ردیف
	<p>صحيح و غلط بودن هريك از جملات زير را مشخص كنيد.</p> <p>اداره ی امور روستا به عهده ی بخشدار هر منطقه است.</p> <p>سرزمین میان دو رود دجله و فرات بین النهرین نامیده می شود.</p> <p>ص <input type="checkbox"/> غ <input type="checkbox"/></p> <p>ص <input type="checkbox"/> غ <input type="checkbox"/></p>	۱
	<p>پایتخت ایلامی ها کدام شهر بود؟ الف : تیسفون <input type="checkbox"/> ب : شوش <input type="checkbox"/> ج : هگمتانه <input type="checkbox"/> د : اصفهان <input type="checkbox"/></p>	۲
	<p>اولین رهبر مادها چه نام داشت؟ الف : دیاکو <input type="checkbox"/> ب : هُوخِشتر <input type="checkbox"/> ج : داریوش <input type="checkbox"/> د : مهرداد <input type="checkbox"/></p>	۳
	<p>جنس اولین ابزارانسان ها از چه بود؟ الف : چوب <input type="checkbox"/> ب : آهن <input type="checkbox"/> ج : سنگ <input type="checkbox"/> د : استخوان <input type="checkbox"/></p>	۴
	<p>معلمی در کدام دسته از مشاغل قرار دارد؟ الف : تولیدی <input type="checkbox"/> ب : تجاری <input type="checkbox"/> ج : آزاد <input type="checkbox"/> د : خدماتی <input type="checkbox"/></p>	۵
	<p>منبع اصلی غذا ی انسان نخستین چه بود؟ الف : میوه <input type="checkbox"/> ب : دانه <input type="checkbox"/> ج : شکار <input type="checkbox"/> د : ریشه <input type="checkbox"/></p>	۶
	<p>هريك از فلش جهت حرکت و سکونت کدام قوم آریایی رانشان می دهد در جای داده شده بنویسید.</p> 	۷
	<p>در موارد زیر نام جهتی را که هریک قرار دارند بنویسید.</p>  <p>خانه (.....)</p> <p>مدرسه (.....)</p> <p>درخت (.....)</p> <p>هوایما (.....)</p> <p>کوه (.....)</p> <p>مسجد (.....)</p> <p>فیل (.....)</p> <p>جاده (.....)</p>	۸
	<p>نام هشت ویژگی تمدن ها را در جای داده شده بنویسید.</p>  <p>..... (۱)</p> <p>..... (۲)</p> <p>..... (۳)</p> <p>..... (۴)</p> <p>..... (۵)</p> <p>..... (۶)</p> <p>..... (۷)</p> <p>..... (۸)</p>	۹

ردیف	شرح سوالات	بارم
	جای خالی را با کلمات مناسب پر کنید. * مهم ترین وسیله ی یادگیری جغرافیا نام دارد. * وظیفه ی شهرداری زیبانگه داشتن شهر و حفظ است. * قبل از پیدایش پول داد و ستد به صورت انجام می شد. * امام جماعت در صف نماز جماعت جلوتر از همه در قرار می گیرد. * فرمانروایان برای برقراری نظم در سرزمین خود وضع کردند. * به امکاناتی که برای استفاده ی عموم مردم ساخته شده است، گفته می شود.	
۱۱	قطب نما چیست ؟	
۱۲	علل پیدایش خط چه بود؟	
۱۳	چرا آثار باستانی با ارزش هستند؟	
۱۴	راهنمای نقشه چه کمکی به ما می کند؟	
۱۵	چرا آریایی ها به ایران مهاجرت کردند؟	
۱۶	علل شکست مادها از آشوری ها چه بود؟	
۱۸	چرا کشف آتش زندگی انسان ها را تغییر داد؟	
۱۹	چرا نخستین روستاها در کنار رودها پدید آمدند؟	
۲۰	کشاورزی چه اهمیتی در زندگی انسان های گذشته داشت ؟	
۲۱	در مستطیل های خالی نام چهار تمدن ایران قدیم را بنویسید.	






ردیف	شرح سوالات	بارم																														
۲۲	درمسجد چه کارهایی انجام می شود؟																															
۲۳	گنج نامه باکدام خط وبه چه زبان هایی نوشته شده است ؟																															
۲۴	جدول بودجه را تعریف کنید.																															
۲۵	با استفاده از خط تصویری کامل کنید.																															
	<table border="1" style="width: 100%; text-align: center;"> <tr> <td>زبورآلات</td> <td></td> <td>باران</td> <td></td> <td>کودک</td> <td></td> </tr> <tr> <td>لباس</td> <td></td> <td>داس کشاورزی</td> <td></td> <td>گاو</td> <td></td> </tr> <tr> <td>خورشید</td> <td></td> <td>رودخانه</td> <td></td> <td>گندم</td> <td></td> </tr> <tr> <td>ماه</td> <td></td> <td>درست کردن</td> <td></td> <td>نیزه</td> <td></td> </tr> <tr> <td>ماهی</td> <td></td> <td>رفتن</td> <td></td> <td>آب</td> <td></td> </tr> </table>	زبورآلات		باران		کودک		لباس		داس کشاورزی		گاو		خورشید		رودخانه		گندم		ماه		درست کردن		نیزه		ماهی		رفتن		آب		
زبورآلات		باران		کودک																												
لباس		داس کشاورزی		گاو																												
خورشید		رودخانه		گندم																												
ماه		درست کردن		نیزه																												
ماهی		رفتن		آب																												
۲۶	استان چیست ؟																															
۲۷	دانش جغرافیا چه کمکی به ما می کند؟																															
۲۸	پیامبراسلام درمورد رفتارباهمسایه ها چه فرموده اند؟																															
۲۹	اهلی کردن حیوانات چه فوایدی برای انسان های نخستین داشت؟																															
۳۰	دوموردازتفاوت های شهر وروستا را بنویسید.....																															














































<https://gama.ir/teacher/detail/19391>

<http://sohrabshokraneh.blogfa.com/>

((موفق باشید.))

بارم	شرح سوالات	ردیف
	<p>صحيح و غلط بودن هريك از جملات زير را مشخص كنيد.</p> <p>۱ <input type="checkbox"/> ص <input type="checkbox"/> غ اداره ی امور روستا به عهده ی بخشدار هر منطقه است.</p> <p><input type="checkbox"/> غ <input checked="" type="checkbox"/> ص سرزمین میان دو رود دجله و فرات بین النهرین نامیده می شود.</p>	
	<p>۲ پایتخت ایلامی ها کدام شهر بود؟ الف : تیسفون <input type="checkbox"/> ب : شوش <input checked="" type="checkbox"/> ج : هگمتانه <input type="checkbox"/> د : اصفهان <input type="checkbox"/></p>	
	<p>۳ اولین رهبر مادها چه نام داشت؟ الف : دیاکو <input checked="" type="checkbox"/> ب : هُوخِشتر <input type="checkbox"/> ج : داریوش <input type="checkbox"/> د : مهرداد <input type="checkbox"/></p>	
	<p>۴ جنس اولین ابزارانسان ها از چه بود؟ الف : چوب <input type="checkbox"/> ب : آهن <input type="checkbox"/> ج : سنگ <input checked="" type="checkbox"/> د : استخوان <input type="checkbox"/></p>	
	<p>۵ معلمی در کدام دسته از مشاغل قرار دارد؟ الف : تولیدی <input type="checkbox"/> ب : تجاری <input type="checkbox"/> ج : آزاد <input type="checkbox"/> د : خدماتی <input checked="" type="checkbox"/></p>	
	<p>۶ منبع اصلی غذا ی انسان نخستین چه بود؟ الف : میوه <input type="checkbox"/> ب : دانه <input type="checkbox"/> ج : شکار <input checked="" type="checkbox"/> د : ریشه <input type="checkbox"/></p>	
	<p>۷ هریک از فلش جهت حرکت و سکونت کدام قوم آریایی رانشان می دهد در جای داده شده بنویسید.</p> 	
	<p>۸ در موارد زیر نام جهتی را که هریک قرار دارند بنویسید.</p>  <p>خانه (شمال) مدرسه (جنوب) درخت (مشرق) هواپیما (مغرب) کوه (جنوب غربی) مسجد (شمال غربی) فیل (شمال شرقی) جاده (جنوب غربی)</p>	
	<p>۹ نام هشت ویژگی تمدن ها را در جای داده شده بنویسید.</p>  <p>۱ خط ۲ عقاید مذهبی ۳ آثار هنری ۴ داد و ستد ۵ تقسیم کار و مهارت در کارها ۶ حکومت ۷ قانون و مقررات ۸ فرمانروایی</p>	

ردیف	شرح سوالات	بارم
۱۰	<p>جای خالی را با کلمات مناسب پر کنید.</p> <p>❁ مهم ترین وسیله ی یادگیری جغرافیا نقشه نام دارد.</p> <p>❁ وظیفه ی شهرداری زیبانگه داشتن شهر و حفظ پاکیزگی است.</p> <p>❁ قبل از پیدایش پول داد و ستد به صورت مبادله ی به کالا به کالا انجام می شد.</p> <p>❁ امام جماعت در صف نماز جماعت جلوتر از همه در محراب قرار می گیرد.</p> <p>❁ فرمانروایان برای برقراری نظم در سرزمین خود قانون وضع کردند.</p> <p>❁ به امکاناتی که برای استفاده ی عموم مردم ساخته شده است، امکانات عمومی گفته می شود.</p>	
۱۱	قطب نما چیست؟ قطب نما وسیله ای است که جهت قطب شمال و جنوب کره ی زمین را نشان می دهد.	
۱۲	علل پیدایش خط چه بود؟ رونق داد و ستد و نیاز به نوشتن و نگه داشتن اطلاعات زمینه ی پیدایش خط را فراهم آورد.	
۱۳	چرا آثار باستانی با ارزش هستند؟ زیرا این آثار و اشیاء اطلاعات بسیاری درباره ی زندگی گذشتگان به ما می دهند.	
۱۴	راهنمای نقشه چه کمکی به ما می کند؟ راهنمای نقشه به ما کمک می کند معنای رنگ ها و علامت های روی نقشه را بفهمیم.	
۱۵	چرا آریایی ها به ایران مهاجرت کردند؟ آریایی ها به دلیل بودن دشت های سرسبز و خرم به کشور ما مهاجرت کردند.	
۱۶	علل شکست مادها از آشوری ها چه بود؟ با هم متحد نبودند و سپاه منظمی نداشتند.	
۱۸	چرا کشف آتش زندگی انسان ها را تغییر داد؟ زیرا از آتش برای پختن غذا، ساخت ابزار، تأمین امنیت و گرم کردن خود و... بهره برد.	
۱۹	چرا نخستین روستاها در کنار رودها پدید آمدند؟ چون آن جا آب کافی برای نوشیدن و پختن غذا و رعایت بهداشت و کشاورزی بود.	
۲۰	کشاورزی چه اهمیتی در زندگی انسان های گذشته داشت؟ با کشاورزی غذا به اندازه ی کافی تولید و ذخیره می شد.	
۲۱	<p>در مستطیل های خالی نام چهار تمدن ایران قدیم را بنویسید.</p> <p>به ترتیب از بالا به پایین (سیلک، ایلام، شهر سوخته، جیرفت)</p>	

ردیف	شرح سوالات	بارم																														
۲۲	در مسجد چه کارهایی انجام می شود؟ خداپرستی، مراسمات مذهبی، انواع آموزش ها، مشورت برای حل مشکلات و...																															
۲۳	گنج نامه با کدام خط و به چه زبان هایی نوشته شده است؟ با خط میخی و به زبان های پارسی باستان، ایلامی، بابلی																															
۲۴	جدول بودجه را تعریف کنید. به جدولی که در آن درآمدهزینه و پس انداز آمده باشد جدول بودجه می گویند.																															
۲۵	با استفاده از خط تصویری کامل کنید.	<table border="1"> <tbody> <tr> <td>زیرآلات</td> <td></td> <td>باران</td> <td></td> <td>کودک</td> <td></td> </tr> <tr> <td>لباس</td> <td></td> <td>داس کشاورزی</td> <td></td> <td>گاو</td> <td></td> </tr> <tr> <td>خورشید</td> <td></td> <td>رودخانه</td> <td></td> <td>گندم</td> <td></td> </tr> <tr> <td>ماه</td> <td></td> <td>درست کردن</td> <td></td> <td>نیزه</td> <td></td> </tr> <tr> <td>ماهی</td> <td></td> <td>رفتن</td> <td></td> <td>آب</td> <td></td> </tr> </tbody> </table>	زیرآلات		باران		کودک		لباس		داس کشاورزی		گاو		خورشید		رودخانه		گندم		ماه		درست کردن		نیزه		ماهی		رفتن		آب	
زیرآلات		باران		کودک																												
لباس		داس کشاورزی		گاو																												
خورشید		رودخانه		گندم																												
ماه		درست کردن		نیزه																												
ماهی		رفتن		آب																												
۲۶	استان چیست؟ کشور ما ایران را برای اداره ی بهتر به قسمت های بزرگی تقسیم کرده اند به هر یک از این قسمت ها استان گفته می شود.																															
۲۷	دانش جغرافیا چه کمکی به ما می کند؟ دانش جغرافیا به ما کمک می کند محیط زندگی خود و دیگران را بهتر بشناسیم و از چگونگی زندگی مردم در مکان های دیگر آگاه شویم.																															
۲۸	پیامبر اسلام در مورد رفتار با همسایه ها چه فرموده اند؟ اگر می خواهید خدا و پیامبر شما را دوست داشته باشند اما نتدار و راستگو باشید و با همسایگان خود به نیکی رفتار کنید.																															
۲۹	اهلی کردن حیوانات چه فوایدی برای انسان های نخستین داشت؟ از گوشت و شیر آن ها برای تأمین غذا، از پشم و پوست آن برای تهیه ی پوشاک، از استخوان آن برای ساخت ابزار و از نیروی آن برای کار استفاده می نمود.																															
۳۰	دومورد از تفاوت های شهر و روستا را بنویسید. روستاییان به دامداری و باغداری و کشاورزی و صنایع دستی مشغولند و هوای روستا از هوای شهر تمیز تر و سروصدای بسیار کم تر است ولی در شهر مردم بیشتر به کار در کارخانه ها و ادارات مشغولند و هوایش کثیف تر و سروصدا بسیار بیش تر است.																															

<https://gama.ir/teacher/detail/19391>

<http://sohrabshokraneh.blogfa.com/>

((موفق باشید.))