

آزمون ترم دوم مطالعات اجتماعی چهارم

دبستان غیردولتی فرزانه

مدت امتحان: ۶۰ دقیقه

نام و نام خانوادگی:

درست یا نادرست بودن هر یک از عبارتهای زیر را مشخص کنید

- ۱- درختانی مانند نخل و درختچه‌های خاردار در ناحیه‌ی خزری بیشتر رشد می‌کند. درست نادرست
- ۲- به محل زندگی موجودات زنده شبکه غذایی می‌گویند درست نادرست
- ۳- شتر در ناحیه گرم و نیمه خشک کوهستانی زندگی می‌کند درست نادرست
- ۴- به بزرگترین شهر هر استان مرکز استان می‌گویند درست نادرست
- ۵- همه‌ی مکان‌ها به طور دقیق در جهت‌های اصلی قرار گرفته‌اند. درست نادرست

در جاهای خالی کلمه‌ی مناسب بنویسید.

- ۱- به افرادی که اشیاء و وسایلی را که از گذشته به جای مانده است، کشف و مطالعه می‌کنند، می‌گویند.
- ۲- به وسیله‌ای که جهت شمال و جنوب را نشان می‌دهد می‌گویند.
- ۳- عید نوروز یک مناسبت و عید فطر یک مناسبت است.
- ۴- در ناحیه‌ی معتدل و مرطوب خزری درختان و رشد می‌کنند.
- ۵- و برای تعیین آب و هوای یک منطقه مهم هستند.

گزینه صحیح را در هر مورد مشخص کنید.

- ۱- کدام یک از نشانه‌های ملی کشور ایران نمی‌باشد؟
۱) زبان فارسی ۲) خط فارسی ۳) هنر فارسی ۴) سرود ملی
- ۲- در این ناحیه باران فراوان می‌بارد و گرما و سرمای شدید وجود ندارد؟
۱) ناحیه‌ی معتدل و نیمه خشک کوهستانی ۲) ناحیه‌ی گرم و خشک داخلی
۳) ناحیه‌ی معتدل و مرطوب خزری ۴) ناحیه‌ی گرم و شرجی سواحل جنوب
- ۳- اداره‌ی روستا به عهده‌ی کدام یک از نهادهای زیر می‌باشد؟
۱) شهرداری ۲) شهربانی ۳) آموزش و پرورش ۴) شورای اسلامی
- ۴- اگر یک روز آفتابی طوری بایستیم که دست راست ما به طرف خورشید باشد، دست چپ به طرف است.
۱) شمال ۲) جنوب ۳) شرق ۴) غرب
- ۵- ایستگاه اتوبوس جزء امکانات می‌باشد.
۱) عمومی ۲) خصوصی ۳) دولتی ۴) اداری

به سوالات زیر به صورت کوتاه پاسخ دهید:

۱- دو رشته کوه مهم ایران را نام ببرید.

۲- مقدار پولی که برای خرید کالاهای مورد نیاز خرج می‌کنیم؟

۳- به پستی و بلندی های زمین چه می‌گویند؟

۴- بالاترین قسمت کوه چیست؟


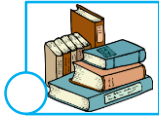
۵- پهناورترین جلگه ی ایران چیست؟

به سوالات زیر به صورت کامل پاسخ دهید:

۱- استان را تعریف کنید.

۲- جلگه چگونه به وجود می‌آید؟

۳- از میان ابزارهای زیر وسایلی را که جغرافی‌دانان در کارهایشان از آنها استفاده می‌کنند را علامت بزنید.



۴- کدام فعالیت‌های انسان باعث آسیب رساندن به محیط زیست شده است؟

۵- سه مورد از ویژگی‌هایی که باعث شده شتر تحمل شرایط سخت صحرا و گرمای شدید آن را داشته باشد بنویسید.

آزمون ترم دوم مطالعات اجتماعی چهارم

دبستان غیردولتی فرزانه

مدت امتحان: ۶۰ دقیقه

نام و نام خانوادگی:

درست یا نادرست بودن هر یک از عبارتهای زیر را مشخص کنید

- ۱- درختانی مانند نخل و درختچه‌های خاردار در ناحیه‌ی خزری بیشتر رشد می‌کند. درست نادرست
- ۲- به محل زندگی موجودات زنده شبکه غذایی می‌گویند درست نادرست
- ۳- شتر در ناحیه گرم و نیمه خشک کوهستانی زندگی می‌کند درست نادرست
- ۴- به بزرگترین شهر هر استان مرکز استان می‌گویند درست نادرست
- ۵- همه‌ی مکان‌ها به طور دقیق در جهت‌های اصلی قرار گرفته‌اند. درست نادرست

در جاهای خالی کلمه‌ی مناسب بنویسید.

- ۱- به افرادی که اشیاء و وسایلی را که از گذشته به جای مانده است، کشف و مطالعه می‌کنند، می‌گویند.
- ۲- به وسیله‌ای که جهت شمال و جنوب را نشان می‌دهد **قطب‌نما** ... می‌گویند.
- ۳- عید نوروز یک مناسبت **ملی** و عید فطر یک مناسبت **مذهبی** است.
- ۴- در ناحیه‌ی معتدل و مرطوب خزری درختان **راش** و **افرا** ... رشد می‌کنند.
- ۵- **پارسی** و **دما** برای تعیین آب و هوای یک منطقه مهم هستند.

گزینه صحیح را در هر مورد مشخص کنید.

- ۱- کدام یک از نشانه‌های ملی کشور ایران نمی‌باشد؟
(۱) زبان فارسی (۲) خط فارسی (۳) هنر فارسی (۴) سرود ملی
- ۲- در این ناحیه باران فراوان می‌بارد و گرما و سرمای شدید وجود ندارد؟
(۱) ناحیه‌ی معتدل و نیمه خشک کوهستانی (۲) ناحیه‌ی گرم و خشک داخلی
(۳) ناحیه‌ی معتدل و مرطوب خزری (۴) ناحیه‌ی گرم و شرجی سواحل جنوب
- ۳- اداره‌ی روستا به عهده‌ی کدام یک از نهادهای زیر می‌باشد؟
(۱) شهرداری (۲) شهربانی (۳) آموزش و پرورش (۴) شورای اسلامی
- ۴- اگر یک روز آفتابی طوری بایستیم که دست راست ما به طرف خورشید باشد، دست چپ به طرف است.
(۱) شمال (۲) جنوب (۳) شرق (۴) غرب
- ۵- ایستگاه اتوبوس جزء امکانات می‌باشد.
(۱) عمومی (۲) خصوصی (۳) دولتی (۴) اداری

به سوالات زیر به صورت کوتاه پاسخ دهید:

۱- دو رشته کوه مهم ایران را نام ببرید. **البرز و زاگرس**

۲- مقدار پولی که برای خرید کالاهای مورد نیاز خرج می‌کنیم؟ **هزینه**

۳- به پستی و بلندی‌های زمین چه می‌گویند؟ **ناهمواری**

۴- بالاترین قسمت کوه چیست؟ **قله**

۵- پهناورترین جلگه‌ی ایران چیست؟ **خوزستان**

به سوالات زیر به صورت کامل پاسخ دهید:


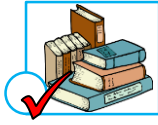
۱- استان را تعریف کنید.

کشور را برای اداره‌ی بهتر به قسمت‌های بزرگی تقسیم می‌کنند به این قسمت‌ها استان می‌گویند

۲- جلگه چگونه به وجود می‌آید؟

وقتی رودها با خود آبرفت‌ها را از بالای کوه به نزدیکی دریا می‌آورند این آبرفت‌ها پس از سالهای طولانی روی هم انباشته می‌شوند و جلگه‌ها را به وجود می‌آورند

۳- از میان ابزارهای زیر وسایلی را که جغرافی‌دانان در کارهایشان از آنها استفاده می‌کنند را علامت بزنید.



۴- کدام فعالیت‌های انسان باعث آسیب رساندن به محیط زیست شده است؟

قطع درختان-کارخانجات-جاده سازی-ساختن خانه و ویلا در ارتفاعات-نابودی محل زندگی جانوران-ریختن زباله...

۵- سه مورد از ویژگی‌هایی که باعث شده شتر تحمل شرایط سخت صحرا و گرمای شدید آن را داشته باشد بنویسید.

پاهای پهن که در شن فرو نرود-پلک‌های بزرگ و مژه‌های بند تا جلوی نور شدید آفتاب و ورود گرد و غبار گرفته شود-کوهان شتر برای ذخیره آب و مواد غذایی-دهان شتر که می‌تواند با آن گیاهان خاردار را بجود