



سازمان آموزش عالی و پرورش

به نام خدای مهربان

اداره آموزش و پرورش منطقه یک تهران

دبستان پسرانه غیر دولتی رشد (دوره دوم)

آزمون نوبت دوم

مطالعات اجتماعی (۴)

مدت پاسخگویی ۴۰ دقیقه

کد:


کلاس: چهارم / .....

تاریخ آزمون:

نام و نام خانوادگی: .....

آموزگار:

بارم	شرح سوال	ردیف
۴	<p><b>گزینه ی صحیح را انتخاب کن.</b></p> <p>(۱) کدام گزینه نشانه ی همکاری بین همسایه ها نیست؟</p> <p>○ الف) عیادت کردن ○ ب) کمک کردن ○ ج) برگزاری جشن های مذهبی ○ د) بی توجهی به مشکلات یکدیگر</p> <p>(۲) کدام یک از شغل های زیر ، تولیدی است؟</p> <p>○ الف) نانوائی ○ ب) خشکشویی ○ ج) بانک ○ د) سوپرمارکت</p> <p>(۳) کدام جهت بین شمال و غرب است؟</p> <p>○ الف) شمال شرقی ○ ب) شمال غربی ○ ج) جنوب شرقی ○ د) جنوب غربی</p> <p>(۴) علت سقوط هخامنشیان کدام است؟</p> <p>○ الف) مرگ کوروش ○ ب) حمله ی اشکانیان ○ ج) حمله ی رومی ها ○ د) بی لیاقتی شاهان و اختلاف های داخلی</p> <p>(۵) در جغرافیا مهمترین وسیله ی مطالعه چیست؟</p> <p>○ الف) فیلم ○ ب) عکس ○ ج) نقشه ○ د) کره جغرافیا</p> <p>(۶) روز پیروزی انقلاب اسلامی چه روزی و چه سالی بود؟</p> <p>○ الف) ۱۲ بهمن ۱۳۵۸ ○ ب) ۲۲ بهمن ۱۳۵۷ ○ ج) ۱۵ خرداد ۱۳۴۲ ○ د) ۱۲ فروردین ۱۳۵۸</p> <p>(۷) کدام یک از روزهای تعطیل زیر جزء مناسبت های ملی می باشد؟</p> <p>○ الف) عید فطر ○ ب) عید غدیر ○ ج) عید نوروز ○ د) عید قربان</p> <p>(۸) پوشش گیاهی ناحیه کوهستانی ، چگونه است؟</p> <p>○ الف) جنگل های راش و افرا ○ ب) جنگل های بلوط و پسته کوهی ○ ج) درختان نخل و گز ○ د) درختچه های خاردار</p>	۱
۳	<p><b>جاهای خالی را کامل کن.</b></p> <p>الف) در یک روستا ، اداره ی آن به عهده ی ..... است.</p> <p>ب) نام کتاب مقدس زرتشتیان ..... است.</p> <p>پ) مادها به رهبری ..... توانستند آشوری ها را شکست دهند.</p> <p>ت) جلگه ی ..... وسیع ترین جلگه ای ایران است.</p> <p>ث) برای تعیین آب و هوای یک منطقه ، دمای هوا و ..... را اندازه گیری می کنند.</p> <p>ج) به زمین های پایین کوه ، ..... می گویند.</p>	۲

۳	<p>جمله های درست یا نادرست را مشخص کن.</p> <p>الف) بوستان یک محله ، مکانی مناسب برای استراحت و ورزش مردم یک محله است. <input type="radio"/> درست <input type="radio"/> نادرست</p> <p>ب) در یک نقشه ،  علامت جاده است. <input type="radio"/> درست <input type="radio"/> نادرست</p> <p>پ) تمدن شهر سوخته در کنار رود کارون تشکیل شد. <input type="radio"/> درست <input type="radio"/> نادرست</p> <p>ت) فرماندهی قدرتمند ایرانی در زمان اشکانیان ، سورنا نام داشت. <input type="radio"/> درست <input type="radio"/> نادرست</p> <p>ث) اگر در یک منطقه تعداد درختان بلوط کم شود ، تعداد موش های آن منطقه کم می شود. <input type="radio"/> درست <input type="radio"/> نادرست</p> <p>ج) بلندترین قلّه ی ایران دماوند است. <input type="radio"/> درست <input type="radio"/> نادرست</p>	۳
۱	<p>مرکز هر یک از استان های زیر را بنویس.</p> <p>خراسان رضوی : .....  خوزستان : .....</p> <p>کرمان : .....  مازندران : .....</p>	۴
۱	<p>یک تمدن چه ویژگیهایی باید داشته باشد؟ ( چهار مورد)</p> <p>۱- .....  ۲- .....  ۳- .....  ۴- .....</p>	۵
۱	<p>دو مورد از فعالیت های داریوش هخامنشی را بنویسید.</p>	۶
۱	<p>چرا در اواخر حکومت ساسانی ، مردم روز به روز ناراضی تر می شدند؟ ( ۲ مورد بنویس)</p>	۷
۱	<p>نام دو رشته کوه مهم ایران را بنویسید : ۱- ..... ۲- .....</p>	۸
۱	<p>ناحیه ی معتدل خزری و گرم و خشک داخلی را با هم مقایسه کنید. ( ۲ مورد بنویس )</p> <p>۱- .....  ۲- .....</p>	۹
۱/۵	<p>سه مورد از فعالیت های انسان که موجب تخریب ( خراب شدن ) زیستگاه ها می شود را بنویسید.</p> <p>۱- .....  ۲- .....  ۳- .....</p>	۱۰

۱	<p>۱۱ مردم ایران چه نشانه های مشترکی دارند؟ ( ۴ مورد )</p> <p>..... -۱</p> <p>..... -۲</p> <p>..... -۳</p> <p>..... -۴</p>	۱۱
۱/۵	<p>۱۲ با توجه به نقشه ایران پاسخ دهید:</p> <p>(۱) دریای .....</p> <p>(۲) دریای .....</p> <p>(۳) قله ی .....</p> <p>(۴) رشته کوه .....</p> <p>(۵) دشت .....</p> <p>(۶) جلگه ی .....</p>	۱۲



مدرسه نمونه  
پارس

به نام خدای مهربان  
اداره آموزش و پرورش منطقه یک تهران

دبستان پسرانه غیر دولتی رشد (دوره دوم)

آزمون نوبت دوم

مطالعات اجتماعی (۴)

کد:

کلاس: چهارم / ....

تاریخ آزمون:


نام و نام خانوادگی: .....


آموزگار:

مدت پاسخگویی ۴۰ دقیقه

بارم	شرح سوال	ردیف
۴	<p>گزینه ی صحیح را انتخاب کن.</p> <p>۱) کدام گزینه نشانه ی همکاری بین همسایه ها نیست؟  <input type="radio"/> الف) عیادت کردن  <input type="radio"/> ب) کمک کردن  <input type="radio"/> ج) برگزاری جشن های مذهبی  <input checked="" type="radio"/> د) بی توجهی به مشکلات یکدیگر</p> <p>۲) کدام یک از شغل های زیر ، تولیدی است؟  <input checked="" type="radio"/> الف) نانوايي  <input type="radio"/> ب) خشکشویی  <input type="radio"/> ج) بانک  <input type="radio"/> د) سوپرمارکت</p> <p>۳) کدام جهت بین شمال و غرب است؟  <input type="radio"/> الف) شمال شرقی  <input checked="" type="radio"/> ب) شمال غربی  <input type="radio"/> ج) جنوب شرقی  <input type="radio"/> د) جنوب غربی</p> <p>۴) علت سقوط هخامنشیان کدام است؟  <input type="radio"/> الف) مرگ کوروش  <input type="radio"/> ج) حمله ی رومی ها  <input type="radio"/> ب) حمله ی اشکانیان  <input checked="" type="radio"/> د) بی لیاقتی شاهان و اختلاف های داخلی</p> <p>۵) در جغرافیا مهمترین وسیله ی مطالعه چیست؟  <input type="radio"/> الف) فیلم  <input type="radio"/> ب) عکس  <input checked="" type="radio"/> ج) نقشه  <input type="radio"/> د) کره جغرافیا</p> <p>۶) روز پیروزی انقلاب اسلامی چه روزی و چه سالی بود؟  <input type="radio"/> الف) ۱۲ بهمن ۱۳۵۸  <input checked="" type="radio"/> ب) ۲۲ بهمن ۱۳۵۷  <input type="radio"/> ج) ۱۵ خرداد ۱۳۴۲  <input type="radio"/> د) ۱۲ فروردین ۱۳۵۸</p> <p>۷) کدام یک از روزهای تعطیل زیر جزء مناسبت های ملی می باشد؟  <input type="radio"/> الف) عید فطر  <input type="radio"/> ب) عید غدیر  <input checked="" type="radio"/> ج) عید نوروز  <input type="radio"/> د) عید قربان</p> <p>۸) پوشش گیاهی ناحیه کوهستانی ، چگونه است؟  <input type="radio"/> الف) جنگل های راش و افرا  <input type="radio"/> ب) جنگل های بلوط و پسته کوهی  <input type="radio"/> ج) درختان نخل و گز  <input type="radio"/> د) درختچه های خاردار</p>	۱
۳	<p>جاهای خالی را کامل کن.</p> <p>الف) در یک روستا ، اداره ی آن به عهده ی <u>سورای اسلام</u> است.</p> <p>ب) نام کتاب مقدس زرتشتیان ..... <u>اوستا</u> ..... است.</p> <p>پ) مادها به رهبری ..... <u>دراک</u> ..... توانستند آشوری ها را شکست دهند.</p> <p>ت) جلگه ی ..... <u>فهرستان</u> ..... وسیع ترین جلگه ای ایران است.</p> <p>ث) برای تعیین آب و هوای یک منطقه ، دمای هوا و ..... <u>میزان بارش</u> ..... را اندازه گیری می کنند.</p> <p>ج) به زمین های پایین کوه ، ..... <u>رودخانه</u> ..... می گویند.</p>	۲



۳	<p>جمله های درست یا نادرست را مشخص کن.</p> <p>(الف) بوستان یک محله ، مکانی مناسب برای استراحت و ورزش مردم یک محله است. <input checked="" type="radio"/> درست <input type="radio"/> نادرست</p> <p>(ب) در یک نقشه ،  علامت جاده است. <input type="radio"/> درست <input checked="" type="radio"/> نادرست</p> <p>(پ) تمدن شهر سوخته در کنار رود کارون تشکیل شد. <input type="radio"/> درست <input checked="" type="radio"/> نادرست</p> <p>(ت) فرماندهی قدرتمند ایرانی در زمان اشکانیان ، سورنا نام داشت. <input type="radio"/> درست <input checked="" type="radio"/> نادرست</p> <p>(ث) اگر در یک منطقه تعداد درختان بلوط کم شود ، تعداد موش های آن منطقه کم می شود. <input type="radio"/> درست <input checked="" type="radio"/> نادرست</p> <p>(ج) بلندترین قلّه ی ایران دماوند است. <input type="radio"/> درست <input checked="" type="radio"/> نادرست</p>	۳
۱	<p>مرکز هر یک از استان های زیر را بنویس.</p> <p>خراسان رضوی : <u>مشهد</u></p> <p>خوزستان : <u>اهواز</u></p> <p>کرمان : <u>بیرجند</u></p> <p>مازندران : <u>ساری</u></p>	۴
۱	<p>یک تمدن چه ویژگیهایی باید داشته باشد؟ (چهار مورد)</p> <p>۱- <u>نظم</u></p> <p>۲- <u>طول عمر و عمارت</u></p> <p>۳- <u>دارو سینه</u></p> <p>۴- <u>عقاید مذهبی</u></p>	۵
۱	<p>دو مورد از فعالیت های داریوش هخامنشی را بنویسید.</p> <p>۱- <u>توسیع پناه ده خوارنوی</u></p> <p>۲- <u>اجداث جاده های</u></p> <p>۳- <u>تقسیم بندی شهر</u></p> <p>۴- <u>ساخت سدهای ط</u></p> <p>۵- <u>ساخت راه ها</u></p>	۶
۱	<p>چرا در اواخر حکومت ساسانی ، مردم روز به روز ناراضی تر می شدند؟ ( ۲ مورد بنویس)</p> <p>۱- <u>به دلیل برداخت مالیات زیاد برای جویی صلب باروس ها</u></p> <p>۲- <u>مخوم بودن از امتیازات صلح آمویش و سواد</u></p> <p>۳- <u>عدم توجه به مردم بدین حوش ندران شاهان</u></p>	۷
۱	<p>نام دو رشته کوه مهم ایران را بنویسید : ۱- <u>زاگرس</u> ۲- <u>البرز</u></p>	۸
۱	<p>ناحیه ی معتدل خزری و گرم و خشک داخلی را با هم مقایسه کنید. ( ۲ مورد بنویس)</p> <p>۱- <u>باران فراوان در ناحیه ی خزری</u></p> <p>۲- <u>زمستان های سرد و تابستان های گرم در ناحیه ی گرم و خشک</u></p> <p>۳- <u>باران کم در ناحیه ی گرم و خشک</u></p>	۹
۱/۵	<p>سه مورد از فعالیت های انسان که موجب تخریب ( خراب شدن ) زیستگاه ها می شود را بنویسید.</p> <p>۱- <u>روشن کردن آتش و خاموش کردن آن</u></p> <p>۲- <u>کاخانه ها و آرمین ها مواریت میماند و سمی را به محیط وارد می کنند</u></p> <p>۳- <u>شکار حیوانات برای تفریح و سرگرمی موجب نابودی آنها می شود</u></p>	۱۰

۱	<p>مردم ایران چه نشانه های مشترکی دارند؟ (۴ مورد)</p> <p>۱- ..... <i>برع کتف</i> .....          ۲- ..... <i>تقویم هجری</i> .....          ۳- ..... <i>سرود ملی</i> .....          ۴- ..... <i>قانون اساسی</i> .....          ۵- <i>خط زمان شرق</i></p>	۱۱
۱/۵	<p>با توجه به نقشه ایران پاسخ دهید:</p>  <p>۱) دریای ..... <i>خزر</i> .....          ۲) دریای ..... <i>خلیج فارس</i> .....          ۳) قله ی ..... <i>رزلوه</i> .....          ۴) رشته کوه ..... <i>البرز</i> .....          ۵) دشت ..... <i>کویر</i> .....          ۶) جلگه ی ..... <i>بستان</i> .....</p>	۱۲