









نمره به عدد:	مهر آموزشگاه دبیرستان فرزنانگان (دوره اول)	آزمون نوبت اول	نام:
نمره به حروف:		درس مطالعات اجتماعی	نام خانوادگی:
طراح: رئیسی فرد- شریفی اصل		پایه: هفتم	نام پدر:
امضا:		مدت امتحان: ۶۰ دقیقه	شماره کارت:
تعداد صفحات: ۳		تاریخ: ۹۴/۱۰/۱۹	نام کلاس:

بارم	سوال را با دقت بخوانید، مطمئن باشید پاسخ در دقت شما نهفته است .	ردیف
۲	<p>الف موارد صحیح و غلط را مشخص کنید. (هر مورد ۰/۵ نمره)</p> <p>۱- توزیع فعالیتی است که بین تولید کننده و مصرف کننده رابطه برقرار می کند. <input type="radio"/> ص <input type="radio"/> غ</p> <p>۲- مصرف گرایی یعنی استفاده از کالا و خدمات به منظور رفع نیازها. <input type="radio"/> ص <input type="radio"/> غ</p> <p>۳- از عکس های معمولی برای تهیه ی نقشه های جغرافیایی استفاده می شود. <input type="radio"/> ص <input type="radio"/> غ</p> <p>۴- یکی از مسئولیت های مهم انسان مراقبت از خودش است. <input type="radio"/> ص <input type="radio"/> غ</p>	الف
۲	<p>ب جای خالی را با عبارت مناسب پر کنید. (هر مورد ۰/۵ نمره)</p> <p>۱- انسان ها از ابتدای خلقت و تولد دارای می شوند.</p> <p>۲- مهم ترین قانون هر کشور، آن است.</p> <p>۳- زمین هایی که از یک سو به کوه و از سوی دیگر به دشت مربوط می شوند را می گویند.</p> <p>۴- یکی از چیزهایی که حیات زیستگاه ها را تهدید می کند، است.</p>	ب
۲	<p>ج گزینه ی صحیح را با علامت (x) مشخص کنید. (هر مورد ۰/۵ نمره)</p> <p>۱- نوعی از بیمه ی اختیاری، مربوط به وسایل نقلیه: <input type="radio"/> الف) بدنه <input type="radio"/> ب) آتش سوزی <input type="radio"/> ج) شخص ثالث <input type="radio"/> د) حوادث</p> <p>۲- مهم ترین عاملی که موجب از بین رفتن برخی گونه های گیاهی و جانوری شده است: <input type="radio"/> الف) تخریب جنگل <input type="radio"/> ب) مهاجرت فصلی جانوران <input type="radio"/> ج) بازیافت زباله <input type="radio"/> د) فعالیت های نادرست انسان</p> <p>۳- یکی از ویژگی های طبیعی دامنه های جنوبی البرز: <input type="radio"/> الف) رطوبت کم <input type="radio"/> ب) برف و باران فراوان <input type="radio"/> ج) جنگل های انبوه <input type="radio"/> د) مجاورت با دریا</p> <p>۴- تولید محصول (کالا)، به این منظور صورت می گیرد: <input type="radio"/> الف) رفع نیاز <input type="radio"/> ب) رونق صادرات <input type="radio"/> ج) رفع خواسته <input type="radio"/> د) الف و ج</p>	ج
۱/۵	<p>پاسخ دهید:</p> <p>۱- هر یک از تصاویر، معرف کدامیک از عوامل تولید است؟</p> <div style="display: flex; justify-content: space-around; align-items: flex-end;"> <div style="text-align: center;">  <p>.....</p> </div> <div style="text-align: center;">  <p>.....</p> </div> <div style="text-align: center;">  <p>.....</p> </div> </div>	د

نام:	آزمون نوبت اول	مهر آموزشگاه دبیرستان فرزنانگان (دوره اول) کلید سؤالات	نمره به عدد:
نام خانوادگی:	درس مطالعات اجتماعی		نمره به حروف:
نام پدر:	پایه: هفتم		طراح: رئیسی فرد- شریفی اصل
شماره کارت:	مدت امتحان: ۶۰ دقیقه		امضا:
نام کلاس:	تاریخ: ۹۴/۱۰/۱۹		تعداد صفحات: ۳

بارم	سوال را با دقت بخوانید، مطمئن باشید پاسخ در دقت شما نهفته است.	ردیف
۲	<p>الف موارد صحیح و غلط را مشخص کنید. (هر مورد ۰/۵ نمره)</p> <p>۱- توزیع فعالیتی است که بین تولید کننده و مصرف کننده رابطه برقرار می کند.</p> <p>۲- مصرف گرایی یعنی استفاده از کالا و خدمات به منظور رفع نیازها.</p> <p>۳- از عکس های معمولی برای تهیه ی نقشه های جغرافیایی استفاده می شود.</p> <p>۴- یکی از مسئولیت های مهم انسان مراقبت از خودش است.</p> <p>○ غ ● ص</p> <p>● غ ○ ص</p> <p>● غ ○ ص</p> <p>○ غ ● ص</p>	الف
۲	<p>ب جای خالی را با عبارت مناسب پر کنید. (هر مورد ۰/۵ نمره)</p> <p>۱- انسان ها از ابتدای خلقت و تولد دارای حقوق طبیعی..... می شوند.</p> <p>۲- مهم ترین قانون هر کشور،قانون اساسی..... آن است.</p> <p>۳- زمین هایی که از یک سو به کوه و از سوی دیگر به دشت مربوط می شوند راکوهپایه..... می گویند.</p> <p>۴- یکی از چیزهایی که حیات زیستگاه ها را تهدید می کند،زباله..... است.</p>	ب
۲	<p>ج گزینه ی صحیح را با علامت (x) مشخص کنید. (هر مورد ۰/۵ نمره)</p> <p>۱- نوعی از بیمه ی اختیاری، مربوط به وسایل نقلیه:</p> <p>الف) بدنه ● ب) آتش سوزی ○ ج) شخص ثالث ○ د) حوادث ○</p> <p>۲- مهم ترین عاملی که موجب از بین رفتن برخی گونه های گیاهی و جانوری شده است:</p> <p>الف) تخریب جنگل ○ ب) مهاجرت فصلی جانوران ○ ج) بازیافت زباله ○ د) فعالیت های نادرست انسان ●</p> <p>۳- یکی از ویژگی های طبیعی دامنه های جنوبی البرز:</p> <p>الف) رطوبت کم ● ب) برف و باران فراوان ○ ج) جنگل های انبوه ○ د) مجاورت با دریا ○</p> <p>۴- تولید محصول (کالا)، به این منظور صورت می گیرد:</p> <p>الف) رفع نیاز ○ ب) رونق صادرات ○ ج) رفع خواسته ○ د) الف و ج ●</p>	ج
۱/۵	<p>پاسخ دهید:</p> <p>۱- هر یک از تصاویر، معرف کدامیک از عوامل تولید است؟</p> <div style="display: flex; justify-content: space-around; align-items: flex-end;"> <div style="text-align: center;">  <p>سرمایه ۰/۵</p> </div> <div style="text-align: center;">  <p>نیرو انسانی ۰/۵</p> </div> <div style="text-align: center;">  <p>منابع طبیعی ۰/۵</p> </div> </div>	د



بارم	ردیف
۱	<p>۲- هر یک از موارد زیر چه پیامدی به دنبال دارد؟</p> <p>الف) دست کاری بخاری کتابخانه: به خطر افتادن امنیت ۰/۵ نمره ب) رانندگی با سرعت بالا و عبور از چراغ قرمز: نقض حقوق دیگران یا برهم زدن نظم و امنیت ۰/۵ نمره</p>
۱	<p>۳- هر یک از تصاویر، کدام مفهوم را در ذهن شما تداعی می کند؟</p> <div style="display: flex; justify-content: space-around; align-items: flex-start;"> <div style="text-align: center;">  <p>حق فرزند ۰/۵ نمره</p> </div> <div style="text-align: center;">  <p>شکرگذاری (مسئولیت) ۰/۵ نمره</p> </div> </div>
۱	<p>۴- واژه ها و مفاهیم مرتبط را به هم وصل کنید:</p> <div style="display: flex; justify-content: center; align-items: center; gap: 20px;"> <div style="border: 1px solid black; padding: 5px; border-radius: 10px;">آینده نگری</div> <div style="border: 1px solid black; padding: 5px; border-radius: 10px;">همدلی</div> </div> <div style="display: flex; justify-content: center; align-items: center; gap: 20px; margin: 10px 0;"> <div style="border: 1px solid black; padding: 5px; border-radius: 10px;">عدالت</div> <div style="border: 1px solid black; padding: 5px; border-radius: 10px;">بیمه</div> </div> <div style="display: flex; justify-content: center; align-items: center; gap: 20px;"> <div style="border: 1px solid black; padding: 5px; border-radius: 10px;">انسان دوستی</div> <div style="border: 1px solid black; padding: 5px; border-radius: 10px;">بیمه</div> </div>
۱	<p>۵- هر یک از موارد زیر جزء کدام دسته هستند؟ حقوق مصرف کننده یا مسئولیت مصرف کننده:</p> <p>((برچسب مشخصات کالا)) ((استاندارد)) ((بازیافت)) ((احتیاط در استفاده از ظروف یک بار مصرف))</p> <p>..... حق ۰/۲۵ حق ۰/۲۵ مسئولیت .. ۰/۲۵ مسئولیت..... ۰/۲۵</p>
۱	<p>۶- پس از خواندن جملات، مفهوم خواسته شده را درون کمانک بنویسید:</p> <p>الف) شورایی که وظیفه ی تطبیق قوانین با احکام اسلام را بر عهده دارد. (...شورای نگهبان. ۰/۵ نمره.) ب) مقرراتی که گروه های اجتماعی به صورت توافق یا عادت، از آن پیروی می کنند. (...قرار داد اجتماعی... ۰/۵ نمره)</p>
۱	<p>۷- هر یک از موارد زیر چگونه باعث تخریب زیستگاه ها می شوند؟</p> <p>الف) فعالیت های کارخانه ای :..... تولید گازهای سمی ۰/۵ نمره ب) شکار بیش از حد و صید بی رویه :..... کاهش نسل و قرار گرفتن در خطر انقراض ۰/۵ نمره</p>
۱	<p>۸- هر کدام از خصوصیات زیر مربوط به کدام ناحیه ی آب و هوایی ذکر شده، می باشد.</p> <p>(قرار گرفتن بین کوه و دریا، تابستان های گرم و خشک، اختلاف زیاد دمای شب و روز، رواج کشت دیم)</p> <p>الف) ناحیه ی آب و هوایی گرم و خشک داخلی: اختلاف زیاد دمای شب و روز ۰/۲۵ تابستان گرم و خشک ۰/۲۵ ب) ناحیه ی آب و هوایی معتدل و مرطوب خزری: رواج کشت دیم ۰/۲۵ قرار گرفتن بین کوه و دریا ۰/۲۵</p>
۱	<p>۹- نقشه چیست؟</p> <p>تصویری افقی از سطح زمین که به نسبت مورد نیاز کوچک شده است.</p> <p style="text-align: center;">۰/۲۵ ۰/۲۵</p>

نمره به عدد:	مهر آموزشگاه دبیرستان فرزنانگان (دوره اول)	آزمون نوبت اول	نام:
نمره به حروف:		درس مطالعات اجتماعی	نام خانوادگی:
طراح: رئیسی فرد - شریفی اصل		پایه: هفتم	نام پدر:
امضا:		مدت امتحان: ۶۰ دقیقه	شماره کارت:
تعداد صفحات: ۳		تاریخ: ۹۴/۱۰/۱۹	نام کلاس:

بارم	ردیف
۱/۵	<p>۱۰- ویژگی های طبیعی و انسانی شهر اهواز را در متن زیر پیدا کنید: (یک ویژگی طبیعی و دو ویژگی انسانی)</p> <p>شهر اهواز، مرکز استان خوزستان است. رود پر آب کارون از این شهر می گذرد. وجود دانشگاه چمران و کارخانجات بزرگ صنعتی، تأسیسات اداری و شرکت ملی حفاری ایران، اهواز را به یکی از مهم ترین مراکز علمی و صنعتی ایران تبدیل کرده است.</p> <p>ویژگی طبیعی (رود کارون ۰/۵ نمره) و ویژگی انسانی (دانشگاه چمران ۰/۵ نمره) و (شرکت ملی حفاری ۰/۵ نمره)</p>
۱	<p>۱۱- متن زیر را خوانده و نظر خود را به صورت مختصر بیان کنید:</p> <p>آقای ایرانی ساکن شهر دزفول است. او می خواهد خانه ای زیبا برای خود و خانواده اش بسازد. به نظر شما برای اینکه هر چه زودتر به این هدف برسد، چه خدماتی می تواند از شهرداری بگیرد؟</p> <p>ابتدا برای شروع کار شهرداری با آقای ایرانی پروانه ساختمان می دهد ۰/۵ نمره آقای ایرانی برای رفت و آمد و حمل و نقل آسان تر از پیاده رو و خیابان های آسفالت شده توسط شهرداری، استفاده می کند. ۰/۵ نمره</p>
۲	<p>۱۲- نقشه را کامل کنید. (هر مورد ۰/۲۵)</p> <p>الف) محل دقیق پدیده ها را روی نقشه مشخص و شماره گذاری کنید:</p> <ol style="list-style-type: none"> ۱- بندر عباس ۲- دشت لوت ۳- قله تفتان <p>ب) موارد زیر را بر روی نقشه نام گذاری کنید:</p> <ol style="list-style-type: none"> ۴- جلگه ای در جنوب غربی ۵- قله ای در کوه های آذربایجان ۶- کوه هایی در شمال شرقی <p>ج) ناحیه ی گرم و شرجی را مشخص و رنگ آمیزی کنید: (۰/۵ نمره)</p>



موفق باشید

بارم	ردیف
۱	<p>۲- هر یک از موارد زیر چه پیامدی به دنبال دارد؟</p> <p>الف) دست کاری بخاری کتابخانه:</p> <p>ب) رانندگی با سرعت بالا و عبور از چراغ قرمز</p>
۱	<p>۳- هر یک از تصاویر، کدام مفهوم را در ذهن شما تداعی می کند؟</p> <div style="display: flex; justify-content: space-around; align-items: center;">   </div> <p>.....</p>
۱	<p>۴- واژه ها و مفاهیم مرتبط را به هم وصل کنید:</p> <div style="display: flex; justify-content: space-around; align-items: center;"> <div style="border: 1px solid black; border-radius: 10px; padding: 5px; margin: 5px;">آینده نگری</div> <div style="border: 1px solid black; border-radius: 10px; padding: 5px; margin: 5px;">همدلی</div> </div> <div style="display: flex; justify-content: space-around; align-items: center; margin: 5px;"> <div style="border: 1px solid black; border-radius: 10px; padding: 5px; margin: 5px;">عدالت</div> <div style="border: 1px solid black; border-radius: 10px; padding: 5px; margin: 5px;">بیمه</div> </div> <div style="display: flex; justify-content: space-around; align-items: center; margin: 5px;"> <div style="border: 1px solid black; border-radius: 10px; padding: 5px; margin: 5px;">انسان دوستی</div> </div>
۱	<p>۵- هر یک از موارد زیر جزء کدام دسته هستند؟ حقوق مصرف کننده یا مسئولیت مصرف کننده:</p> <p>((برچسب مشخصات کالا)) ((استاندارد)) ((بازیافت)) ((احتیاط در استفاده از ظروف یک بار مصرف))</p> <p>.....</p>
۱	<p>۶- پس از خواندن جملات، مفهوم خواسته شده را درون کمانک بنویسید:</p> <p>الف) شورایی که وظیفه ی تطبیق قوانین با احکام اسلام را بر عهده دارد. (.....)</p> <p>ب) مقرراتی که گروه های اجتماعی به صورت توافق یا عادت، از آن پیروی می کنند. (.....)</p>
۱	<p>۷- هر یک از موارد زیر چگونه باعث تخریب زیستگاه ها می شوند؟</p> <p>الف) فعالیت های کارخانه ای:</p> <p>ب) شکار بیش از حد و صید بی رویه:</p>
۱	<p>۸- هر کدام از خصوصیات زیر مربوط به کدام ناحیه ی آب و هوایی ذکر شده، می باشد.</p> <p>(قرار گرفتن بین کوه و دریا، تابستان های گرم و خشک، اختلاف زیاد دمای شب و روز، رواج کشت دیم)</p> <p>الف) ناحیه ی آب و هوایی گرم و خشک داخلی:</p> <p>ب) ناحیه ی آب و هوایی معتدل و مرطوب خزری:</p>
۱	<p>۹- نقشه چیست؟</p> <p>.....</p>

نمره به عدد:	مهر آموزشگاه دبیرستان فرزنانگان (دوره اول)	آزمون نوبت اول	نام:
نمره به حروف:		درس مطالعات اجتماعی	نام خانوادگی:
طراح: رئیسی فرد - شریفی اصل		پایه: هفتم	نام پدر:
امضا:		مدت امتحان: ۶۰ دقیقه	شماره کارت:
تعداد صفحات: ۳		تاریخ: ۹۴/۱۰/۱۹	نام کلاس:

بارم	ردیف
------	------

۱/۵	<p>۱۰- ویژگی های طبیعی و انسانی شهر اهواز را در متن زیر پیدا کنید: (یک ویژگی طبیعی و دو ویژگی انسانی)</p> <p>شهر اهواز، مرکز استان خوزستان است. رود پر آب کارون از این شهر می گذرد. وجود دانشگاه چمران و کارخانجات بزرگ صنعتی، تأسیسات اداری و شرکت ملی حفاری ایران، اهواز را به یکی از مهم ترین مراکز علمی و صنعتی ایران تبدیل کرده است.</p> <p>ویژگی طبیعی و ویژگی انسانی</p>
-----	---

۱	<p>۱۱- متن زیر را خوانده و نظر خود را به صورت مختصر بیان کنید:</p> <p>آقای ایرانی ساکن شهر دزفول است. او می خواهد خانه ای زیبا برای خود و خانواده اش بسازد. به نظر شما برای اینکه هر چه زودتر به این هدف برسد، چه خدماتی می تواند از شهرداری بگیرد؟</p> <p>.....</p> <p>.....</p>
---	---

۲	<p>۱۲- نقشه را کامل کنید. (هر مورد ۰/۲۵)</p> <p>الف) محل دقیق پدیده ها را روی نقشه مشخص و شماره گذاری کنید:</p> <ol style="list-style-type: none"> ۱- بندر عباس ۲- دشت لوت ۳- قله تفتان <p>ب) موارد زیر را بر روی نقشه نام گذاری کنید:</p> <ol style="list-style-type: none"> ۴- جلگه ای در جنوب غربی ۵- قله ای در کوه های آذربایجان ۶- کوه هایی در شمال شرقی <p>ج) ناحیه ی گرم و شرجی را مشخص و رنگ آمیزی کنید: (۰/۵ نمره)</p>
---	---



موفق باشید