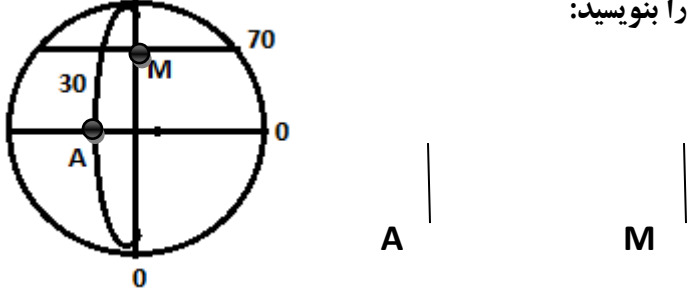
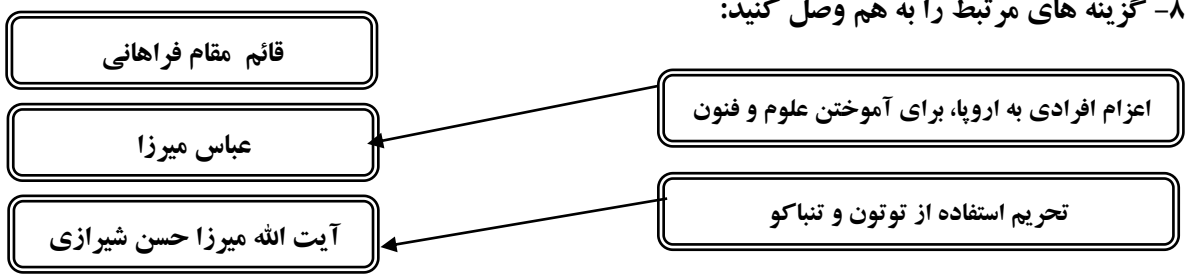


نام:	آزمون نوبت اول	مهر آموزشگاه دیرستان فرزنانگان (دوره اول)	نمره به عدد:
نام خانوادگی:	درس مطالعات اجتماعی		نمره به حروف:
نام پدر:	پایه: نهم		طراح سؤال: رئیسی فرد
شماره کارت:	مدت امتحان: ۶۰ دقیقه		امضا:
نام کلاس:	تاریخ: ۹۴/۱۰/۲۳		تعداد صفحات: ۳

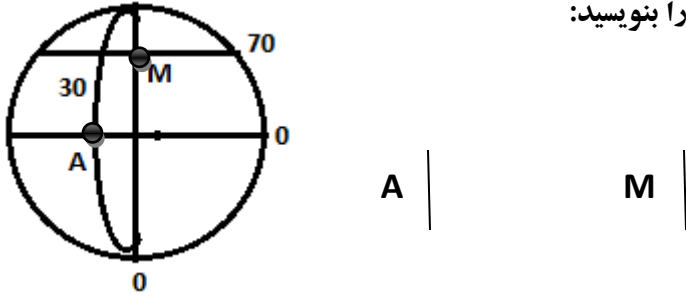
بارم	سوال را با دقت بخوانید، مطمئن باشید پاسخ در دقت شما نهفته است.	ردیف
۲	<p>موارد صحیح و غلط را مشخص کنید. (هر مورد ۰/۵ نمره)</p> <p>۱- در اول تیر ماه، خورشید در نیم کره شمالی به مدار رأس السرطان، عمود می‌تابد. <input type="radio"/> ص <input type="radio"/> غ</p> <p>۲- کوه های بسیار مرتفع جزء ناهمواری های جوان هستند. <input type="radio"/> ص <input type="radio"/> غ</p> <p>۳- ناحیه ای کم عمق با ژرفای کم تراز ۲۰۰ متر، در اقیانوس را شیب قاره می‌گویند. <input type="radio"/> ص <input type="radio"/> غ</p> <p>۴- امید به زندگی یامتوسط طول عمر به معنای سطح مطلوب زندگی ورفاه اجتماعی است. <input type="radio"/> ص <input type="radio"/> غ</p>	الف
۲	<p>جای خالی را با عبارت مناسب پر کنید. (هر مورد ۰/۵ نمره)</p> <p>۱- در میان چهار سیاره نزدیک به خورشید بزرگ ترین است.</p> <p>۲- نتیجه حرکت وضعی زمین، پدید آمدن شب و روز و است.</p> <p>۳- وضعیت گذرا و موقتی هوا کره (اتمسفر) را گویند.</p> <p>۴- از وسیع ترین زیست بوم ها، است که در جنوب توندر را گسترش یافته است.</p>	ب
۲	<p>گزینه ی صحیح را با علامت (×) مشخص کنید. (هر مورد ۰/۵ نمره)</p> <p>۱- علاوه بر رشد طبیعی جمعیت، عامل دیگری که موجب افزایش جمعیت می شود:</p> <p>الف) مهاجرت <input type="radio"/> ب) رفاه اجتماعی <input type="radio"/> ج) جنگ داخلی <input type="radio"/> د) آب و هوای مساعد <input type="radio"/></p> <p>۲- از جمله کشورهای آفریقایی که در آن شکار گسترده فیل صورت می گیرد:</p> <p>الف) تایلند <input type="radio"/> ب) کنیا <input type="radio"/> ج) سومالی <input type="radio"/> د) آفریقای جنوبی <input type="radio"/></p> <p>۳- زیست بومی با دو فصل بارانی (مرطوب) و خشک :</p> <p>الف) ساوان <input type="radio"/> ب) سواحل مدیترانه <input type="radio"/> ج) قطب جنوب <input type="radio"/> د) جنگل های استوایی <input type="radio"/></p> <p>۴- در صد بالایی از هوا کره را این گازها تشکیل می دهند:</p> <p>الف) هلیم و نیتروژن <input type="radio"/> ب) ازن <input type="radio"/> ج) نیتروژن و اکسیژن <input type="radio"/> د) کربن و اکسیژن <input type="radio"/></p>	ج
۱	<p>پاسخ دهید:</p> <p>۱- تنوع آب و هوایی مناطق نام برده، به کدام یک از عوامل زیر بستگی دارد؟ ((زاویه تابش خورشید و عرض جغرافیایی، دوری و نزدیکی به اقیانوس، ارتفاع از سطح زمین))</p> <p>..... ** منطقه گرم در دو طرف استوا</p> <p>..... ** منطقه معتدل جزیره انگلستان</p>	د

نام:	آزمون نوبت اول	نمره به عدد:
نام خانوادگی:	درس مطالعات اجتماعی	نمره به حروف:
نام پدر:	پایه : نهم	طراح سؤال : رئیسی فرد
شماره کارت:	مدت امتحان: ۶۰ دقیقه	امضا:
نام کلاس:	تاریخ: ۹۴/۱۰/ ۲۳	تعداد صفحات: ۳

ردیف	سوال را با دقت بخوانید، مطمئن باشید پاسخ در دقت شما نهفته است .	بارم
الف	<p>موارد صحیح و غلط را مشخص کنید. (هر مورد ۰/۵ نمره)</p> <p>۱- در اول تیر ماه، خورشید در نیم کره شمالی به مدار رأس السرطان، عمود می تابد. <input checked="" type="radio"/> ص <input type="radio"/> غ</p> <p>۲- کوه های بسیار مرتفع جزء ناهمواری های جوان هستند. <input checked="" type="radio"/> ص <input type="radio"/> غ</p> <p>۳- ناحیه ای کم عمق با ژرفای کم تراز ۲۰۰ متر، در اقیانوس را شیب قاره می گویند. <input type="radio"/> ص <input checked="" type="radio"/> غ</p> <p>۴- امید به زندگی یامتوسط طول عمر به معنای سطح مطلوب زندگی ورفاه اجتماعی است. <input type="radio"/> ص <input checked="" type="radio"/> غ</p>	۲
ب	<p>جای خالی را با عبارت مناسب پر کنید.(هر مورد ۰/۵ نمره)</p> <p>۱- در میان چهار سیاره نزدیک به خورشید ...<u>زمین</u>... بزرگ ترین است.</p> <p>۲- نتیجه حرکت وضعی زمین، پدید آمدن شب و روز و<u>اختلاف ساعت</u>..... است.</p> <p>۳- وضعیت گذرا و موقتی هوا کره (اتمسفر) را<u>هوا</u>..... گویند.</p> <p>۴- از وسیع ترین زیست بوم ها،.....<u>تایگا</u>..... است که در جنوب توندرا گسترش یافته است.</p>	۲
ج	<p>گزینه ی صحیح را با علامت (x) مشخص کنید. (هر مورد ۰/۵ نمره)</p> <p>۱- علاوه بر رشد طبیعی جمعیت، عامل دیگری که موجب افزایش جمعیت می شود:</p> <p>الف) مهاجرت <input checked="" type="radio"/> ب) رفاه اجتماعی <input type="radio"/> ج) جنگ داخلی <input type="radio"/> د) آب و هوای مساعد <input type="radio"/></p> <p>۲- از جمله کشورهای آفریقایی که در آن شکار گسترده فیل صورت می گیرد:</p> <p>الف) تایلند <input type="radio"/> ب) کنیا <input checked="" type="radio"/> ج) سومالی <input type="radio"/> د) آفریقای جنوبی <input type="radio"/></p> <p>۳- زیست بومی با دو فصل بارانی (مرطوب) و خشک :</p> <p>الف) ساوان <input checked="" type="radio"/> ب) سواحل مدیترانه <input type="radio"/> ج) قطب جنوب <input type="radio"/> د) جنگل های استوایی <input type="radio"/></p> <p>۴- در صد بالایی از هوا کره را این گازها تشکیل می دهند:</p> <p>الف) هلیوم و نیتروژن <input type="radio"/> ب) ازن <input type="radio"/> ج) نیتروژن و اکسیژن <input checked="" type="radio"/> د) کربن و اکسیژن <input type="radio"/></p>	۲
د	<p>پاسخ دهید:</p> <p>۱- تنوع آب و هوایی مناطق نام برده، به کدام یک از عوامل زیر بستگی دارد؟ ((زاویه تابش خورشید و عرض جغرافیایی، دوری و نزدیکی به اقیانوس، ارتفاع از سطح زمین)) ** منطقه گرم در دو طرف استوا پاسخ: زاویه تابش خورشید و عرض جغرافیایی ۰/۵ نمره ** منطقه معتدل جزیره انگلستان پاسخ: دوری و نزدیکی به اقیانوس ۰/۵ نمره</p>	۱

بارم	ردیف
۱	<p>۲- هر کدام از مجموعه خصوصیات زیر مربوط به چه زیست بومی است؟ * آب و هوای گرم و مرطوب، جنگل های انبوه، تنوع بالای زیستی : پاسخ : منطقه استوایی ۰/۵ نمره * زمین های پوشیده از یخ و برف، تابستان های کوتاه، پوشش گیاهی خزه و گلسنگ : پاسخ: توندرا ۰/۵ نمره</p>
۱	<p>۳- هر یک از عوامل زیر باعث به وجود آمدن چه پدیده ای می شوند؟ * مایل بودن محور قطب هاپاسخ : پیدایش فصل ها ۰/۵ نمره * خمیدگی (چین خوردگی) لایه های رسوبی پاسخ : پیدایش کوه ۰/۵ نمره</p>
۱	<p>۴- مختصات جغرافیایی نقاط مشخص شده را بنویسید: A = 30 , 0 M = 0 , 70 نمره ۰/۵</p> 
۱	<p>۵- مهم ترین عوامل از بین رفتن پوشش گیاهی و نابودی گونه های جانوری را ذکر کنید. ۲ مورد. ۱- فعالیت های صنعتی و تولید انبوه کالا در کارخانه ۳- ایجاد و گسترش شهر ها و روستاها ۲- مصرف گرایی و تولید انبوه ۴- شکار و تجارت اعضای بدن حیوانات (۲ مورد کافی است. هر مورد ۰/۵ نمره)</p>
۱	<p>۶- هر یک از عوامل زیر چگونه می توانند باعث دفع جمعیت از یک ناحیه شوند. الف) آب و هوا و پوشش گیاهی پاسخ : آب و هوای گرم و خشک و پوشش گیاهی فقیر ۰/۵ نمره ب) ناهمواری پاسخ : مناطق مرتفع و سنگلاخی، شیب کوه ها ۰/۵ نمره</p>
۱/۵	<p>۷- علل داخلی و خارجی عقب ماندگی کشور سیرالئون را در متن مشخص کنید. (۱ مورد از عوامل خارجی ، ۲ مورد داخلی) * توجه * عبارت داخلی یا خارجی را حتما ذکر کنید. سیرالئون کشوری در غرب آفریقا، که پایتخت آن فری تاون است. این کشور سال ها زیر سلطه کشور استعمار گر انگلیس قرار داشت. خارجی ۰/۵ نمره سیرالئون در دهه های متمادی درگیر جنگ داخلی بوده و با فقر و فساد و کمبود مدیریت در اقتصاد دست به گریبان است. داخلی ۰/۵ نمره داخلی ۰/۵ نمره</p>
۱	<p>** بخش تاریخ ** ۸- گزینه های مرتبط را به هم وصل کنید:</p>  <p>۰/۵ نمره ۰/۵ نمره</p>

نام:	آزمون نوبت اول	مهر آموزشگاه دبیرستان فرزائگان (دوره اول)	نمره به عدد:
نام خانوادگی:	درس مطالعات اجتماعی		نمره به حروف:
نام پدر:	پایه : نهم		طراح سوال: رئیسی فرد
شماره کارت:	مدت امتحان: ۶۰ دقیقه		امضا
نام کلاس:	تاریخ: ۹۴/۱۰/۲۳		تعداد صفحات: ۳
ردیف	بارم		
	۹- دلایل رونق تجارت در زمان شاه عباس اول (در زمان صفویه) را ذکر کنید. ۲مورد.		۱
	۱- ایجاد راه ها و کاروانسراها ۳- استفاده رایگان از کاروانسراها و اقامت در آنها (۲ مورد کافی. هر مورد ۰/۵ نمره) ۲- ایجاد بازار های بزرگ ۴- اجازه فعالیت به شرکت های تجاری کشورهای اروپایی در ایران.		
	۱۰- هر یک از اقدامات زیر مربوط به کدام یک از پادشاهان صفوی است ؟ **رسمی کردن مذهب شیعه** * پاسخ : شاه اسماعیل اول ۰/۵ نمره ** تغییر پایتخت از تبریز به قزوین** * پاسخ : شاه تهماسب اول ۰/۵ نمره		۱
	۱۱- امیر کبیر در سیاست خارجی خود، به چه مسائلی توجه ویژه داشت ؟ حفظ استقلال کشور ۰/۵ نمره قطع نفوذ و دخالت های روسیه و انگلیس در ایران ۰/۵ نمره		۱
	۱۲- هر یک از سرزمین های ذکر شده بر اساس کدام عهد نامه از ایران جدا شد ؟ (عهدنامه پاریس، عهدنامه ترکمانچای، عهدنامه گلستان) ** سرزمین های ایرانی در شمال رود ارس** * پاسخ : ترکمانچای ۰/۵ نمره ** افغانستان (هرات)** * پاسخ : پاریس ۰/۵ نمره		۱
	۱۳-۱۲- پاسخ صحیح را با خط تیره مشخص کنید. الف) حکومت شاهان صفوی، حکومتی...((شورایی)) ((استبدادی)) ب) اهمیت به صلح، آرامش و آسایش، در دوره ی...((کریم خان زند)) ((نادر شاه افشار)) ج) از نتایج آشنایی ایرانیان با تمدن اروپا در دوره ی قاجار...((ایجاد مدارس جدید)) ((پیشرفت اقتصادی))		۱/۵
پایان			
موفق باشید و سر بلند!			

بارم	ردیف
۱	<p>۲- هر کدام از مجموعه خصوصیات زیر مربوط به چه زیست بومی است؟</p> <p>**آب و هوای گرم و مرطوب، جنگل های انبوه، تنوع بالای زیستی:</p> <p>**زمین های پوشیده از یخ و برف، تابستان های کوتاه، پوشش گیاهی خزه و گلسنگ:</p>
۱	<p>۳- هر یک از عوامل زیر باعث به وجود آمدن چه پدیده ای می شوند؟</p> <p>** مایل بودن محور قطب ها</p> <p>** خمیدگی (چین خوردگی) لایه های رسوبی</p>
۱	<p>۴- مختصات جغرافیایی نقاط مشخص شده را بنویسید:</p> 
۱	<p>۵- مهم ترین عوامل از بین رفتن پوشش گیاهی و نابودی گونه های جانوری را ذکر کنید. ۲ مورد.</p> <p>۱-</p> <p>۲-</p>
۱	<p>۶- هر یک از عوامل زیر چگونه می توانند باعث دفع جمعیت از یک ناحیه شوند.</p> <p>الف) آب و هوا و پوشش گیاهی.....</p> <p>ب) ناهمواری</p>
۱/۵	<p>۷- علل داخلی و خارجی عقب ماندگی کشور سیرالئون را در متن مشخص کنید. (۱ مورد از عوامل خارجی ، ۲ مورد داخلی)</p> <p>* توجه * عبارت داخلی یا خارجی را حتما ذکر کنید.</p> <p>سیرالئون کشوری در غرب آفریقا، که پایتخت آن فری تاون است. این کشور سال ها زیر سلطه کشور استعمار گر انگلیس قرار داشت.</p> <p>سیرالئون در دهه های متمادی درگیر جنگ داخلی بوده و با فقر و فساد و کمبود مدیریت در اقتصاد دست به گریبان است.</p>
۱	<p>** بخش تاریخ **</p> <p>۸- گزینه های مرتبط را به هم وصل کنید:</p> <div style="display: flex; justify-content: space-around;"> <div style="border: 1px solid black; border-radius: 10px; padding: 5px; width: 30%;">قائم مقام فراهانی</div> <div style="border: 1px solid black; border-radius: 10px; padding: 5px; width: 30%;">اعزام افرادی به اروپا، برای آموختن علوم و فنون</div> </div> <div style="display: flex; justify-content: space-around; margin-top: 10px;"> <div style="border: 1px solid black; border-radius: 10px; padding: 5px; width: 30%;">عباس میرزا</div> <div style="border: 1px solid black; border-radius: 10px; padding: 5px; width: 30%;">تحریم استفاده از توتون و تنباکو</div> </div> <div style="display: flex; justify-content: space-around; margin-top: 10px;"> <div style="border: 1px solid black; border-radius: 10px; padding: 5px; width: 30%;">آیت الله میرزا حسن شیرازی</div> </div>

نام:	آزمون نوبت اول	مهر آموزشگاه دبیرستان فرزنانگان (دوره اول)	نمره به عدد:
نام خانوادگی:	درس مطالعات اجتماعی		نمره به حروف:
نام پدر:	پایه : نهم		طراح سوال: رئیسی فرد
شماره کارت:	مدت امتحان: ۶۰ دقیقه		امضا
نام کلاس:	تاریخ: ۹۴/۱۰/۲۳		تعداد صفحات: ۳
ردیف	بارم		
	۹- دلایل رونق تجارت در زمان شاه عباس اول (در زمان صفویه) را ذکر کنید. ۲ مورد.		۱
 ۱-		
 ۲-		
	۱۰- هر یک از اقدامات زیر مربوط به کدام یک از پادشاهان صفوی است ؟		۱
	رسمی کردن مذهب شیعه		
	تغییر پایتخت از تبریز به قزوین		
	۱۱- امیر کبیر در سیاست خارجی خود، به چه مسائلی توجه ویژه داشت؟		۱
		
	۱۲- هر یک از سرزمین های ذکر شده بر اساس کدام عهد نامه از ایران جدا شد ؟		۱
	(عهدنامه پاریس، عهدنامه ترکمانچای، عهدنامه گلستان)		
	** سرزمین های ایرانی در شمال رود ارس **		
	** افغانستان (هرات) **		
	۱۳-۱۲- پاسخ صحیح را با خط تیره مشخص کنید.		۱/۵
	الف) حکومت شاهان صفوی، حکومتی... ((شورایی)) ((استبدادی))		
	ب) اهمیت به صلح، آرامش و آسایش، در دوره ی... ((کریم خان زند)) ((نادر شاه افشار))		
	ج) از نتایج آشنایی ایرانیان با تمدن اروپا در دوره ی قاجار... ((ایجاد مدارس جدید)) ((پیشرفت اقتصادی))		
	پایان		
	موفق باشید و سر بلند!		