

تاریخ آزمون: ۹۵/۰۲/۲۲
 وقت آزمون: ۷۰ دقیقه
 تعداد اوراق: ۴
 ساعت آزمون: ۱۰ صبح

باسمه تعالی
 اداره کل آموزش و پرورش استان فارس
 اداره سنجش و ارزشیابی تحصیلی
 اداره آموزش و پرورش

نام و نام خانوادگی:
 نام پدر:
 نام آموزشگاه:
 شعبه:

سؤالات آزمون هماهنگ استانی درس مطالعات اجتماعی [گرمسیر] پایه نهم در خردادماه ۹۵

صفحه ۱

مقام معظم رهبری: انضباط اجتماعی به معنای نظام پذیری در همه امور است.

*** بخش اجباری: دانش آموزان عزیز، لطفاً به همه سؤالات فصل هفتم تا دوازدهم پاسخ دهید.**

فصل ششم:

- ۱- انقلاب مشروطه در دوره حکومت مظفرالدین شاه در ایران رخ داد. (۵/۵. نمره) ص غ
- ۲- پس از ماجرای به چوب بستن بازرگانان در آغاز انقلاب مشروطه، مردم و علما در کجا به بست نشستند؟ مهم ترین خواسته آنها چه بود؟ (۱ نمره)
- ۳- کدام اقدامات رضاشاه در جهت تضعیف ارزش های اسلامی و تخریب فرهنگ ایرانی بود؟ (دو مورد) (۱ نمره)

فصل هشتم:

- ۴- پس از سخنرانی امام خمینی در مخالفت با کاپیتولاسیون حکومت پهلوی ایشان را به الجزایر تبعید کرد. (۵/۵. نمره) ص غ
- ۵- جمله زیر، نقل قول کدام شخصیت و در وصف چه کسی گفته شده است؟ (۵/۵. نمره)
 « این انقلاب در هیچ کجای جهان بی نام او شناخته نیست. »
- الف) امام خمینی - آیت الله خامنه ای ب) آیت الله خامنه ای - امام خمینی
 ج) امام خمینی - آیت الله مطهری د) آیت الله خامنه ای - آیت الله مطهری
- ۶- دو مورد از عوامل مؤثر در موفقیت و پیروزی انقلاب اسلامی را بنویسید. (۵/۵. نمره)
- ۷- در آغاز پیروزی انقلاب اسلامی، نهادهای انقلابی به فرمان امام خمینی شکل گرفتند؛ دو مورد از آنها که نقش مؤثری در پیشبرد اهداف انقلاب داشتند را نام ببرید. (۱ نمره)

فصل نهم:

- ۸- جنبه های مختلف فرهنگ را می توان به لایه های یک پیاز تشبیه کرد، شما عزیزان این لایه ها را در پرانتز مربوط به خود بنویسید. (۱ نمره)
- الف) لایه های خارجی یا بیرونی فرهنگ () - ()
 ب) لایه های عمیق تر فرهنگ () - ()
- ۹- ما در شکل گیری ویژگی های اکتسابی هویت خود نقشی نداریم. (۵/۵. نمره) ص غ
- ۱۰- براساس آثار تاریخی برای مردمی که در سرزمین ایران زندگی می کرده اند، کدام موضوع اهمیت داشته است؟ (۵/۵. نمره)
- الف) میراث فرهنگی ب) دین ج) حفظ مرزها و محدوده جغرافیایی د) زبان مشترک
- ۱۱- با توجه به شکل، عمده ترین عناصر هویت ملی را نام ببرید. (دو مورد) (۵/۵. نمره)



(۱) (۲)

نمره با عدد:	مصحح اول (دبیر مربوط)
نمره با حروف:	نام و نام خانوادگی:
امضا:	امضا:
نمره با عدد:	مصحح دوم (پس از رسیدگی به اعتراض)
نمره با حروف:	نام و نام خانوادگی:
امضا:	امضا:
نمره با عدد:	مصحح سوم (مرسورث نیاز)
نمره با حروف:	نام و نام خانوادگی:
امضا:	امضا:

تاریخ آزمون: ۹۵/۰۲/۲۲
وقت آزمون: ۷۰ دقیقه
تعداد اوراق: ۴
ساعت آزمون: ۱۰ صبح

باسمه تعالی
اداره کل آموزش و پرورش استان فارس
اداره سنجش و ارزشیابی تحصیلی
اداره آموزش و پرورش

نام خانوادگی:
نام پدر:
نام آموزشگاه:
شعبه:

صفحه ۲ **سؤالات آزمون هماهنگ استانی درس مطالعات اجتماعی [گرمسیر] پایه نهم در خردادماه ۹۵**

مقام معظم رهبری: انضباط اجتماعی به معنای نظام پذیری در همه امور است.

فصل دهم:

ص	غ
<input type="checkbox"/>	<input type="checkbox"/>
<input type="checkbox"/>	<input type="checkbox"/>
<input type="checkbox"/>	<input type="checkbox"/>

- ۱۲- عبارت های صحیح یا غلط را با علامت (×) مشخص کنید. (هر مورد ۰.۵ نمره)
الف) امروزه خانواده ها نقش بیشتری در همسرگزینی فرزندان خود نسبت به گذشته دارند.
ب) اگر اختلاف سلیقه والدین و فرزندان به خوبی مدیریت شود، به رشد و کمال اعضای خانواده می انجامد.
ج) اطاعت از والدین و خودداری از بی احترامی به آنها در هر شرایطی واجب است.
۱۳- چرا اجتماعی شدن یا جامعه پذیری هم نیاز فرد و هم نیاز جامعه است؟ (۱ نمره)

فصل یازدهم:

- ۱۴- دسترسی به آموزش و پرورش و مراکز فرهنگی و ورزشی جزء کدام یک از حقوق شهروندی است؟ (۰.۵ نمره)
الف) برخورداری از عدالت قانونی
ب) برخورداری از رفاه و تأمین اجتماعی
ج) برخورداری از عدالت قضایی
د) حقوق فرهنگی
۱۵- دو مورد از مهم ترین وظایف و اختیارات رهبر جمهوری اسلامی را بنویسید. (۱ نمره)
..... (۲)

۱۶- مالیات و عوارض چه تفاوتی با هم دارند؟ (۱ نمره)

فصل دوازدهم:

- ۱۷- در دنیای امروز، تولید با چه هدفی انجام می گیرد؟ (۰.۵ نمره)
الف) بهره وری بیشتر با حفظ محیط زیست
ب) تولید کالای بیشتر
ج) کسب سود بیشتر
د) کیفیت بیشتر کالا
۱۸- منظور از تنظیم بودجه ماهانه خانواده چیست؟ (۱ نمره)

۱۹- امسال یعنی سال ۱۳۹۵ توسط رهبر فرزانه کشورمان به نام اقتصاد مقاومتی، اقدام و عمل نامگذاری شده است. در مورد آن دو جمله بنویسید. (۱ نمره)

تاریخ آزمون: ۹۵/۰۲/۲۲
 وقت آزمون: ۷۰ دقیقه
 تعداد اوراق: ۴
 ساعت آزمون: ۱۰ صبح

باسمه تعالی
 اداره کل آموزش و پرورش استان فارس
 اداره سنجش و ارزشیابی تحصیلی
 اداره آموزش و پرورش

نام و نام خانوادگی:
 نام پدر:
 نام آموزشگاه:
 شعبه:

صفحه ۳ **سؤالات آزمون هماهنگ استانی درس مطالعات اجتماعی [گرمسیر] پایه نهم در خردادماه ۹۵**

مقام معظم رهبری: انضباط اجتماعی به معنای نظام پذیری در همه امور است.

*** بخش اختیاری: دانش آموزان عزیز، لطفاً از شش فصل اول کتاب، فقط دو فصل را انتخاب و به سؤالات همان دو فصل پاسخ دهید.**

فصل اول:

۱- مدارها نیم دایره های فرضی هستند که از قطب شمال تا قطب جنوب کشیده شده اند. (۵/۱ نمره) ص غ

۲- کدام گزینه در مورد سیاره زمین صحیح نیست؟ (۵/۱ نمره)

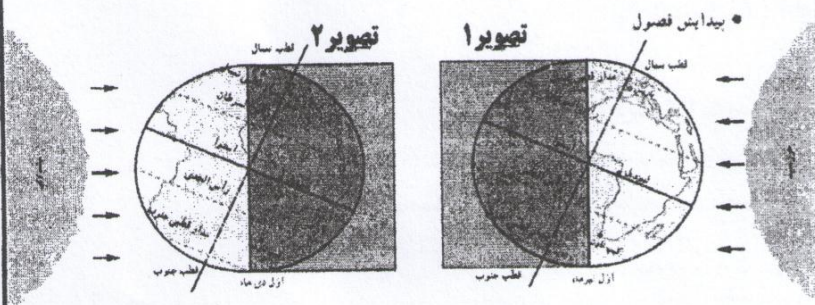
الف) بخش کوچکی از منظومه خورشیدی است.
 ب) در میان چهار سیاره نزدیک به خورشید، بزرگترین است.
 ج) چهارمین سیاره منظومه و در فاصله ۱۵۰ کیلومتری خورشید است.
 د) فقط یک قمر به نام ماه دارد.

۳- با توجه به تصاویر به سؤالات زیر پاسخ دهید. (۵/۱ نمره)

الف) کدام تصویر، فصل تابستان را در نیمکره شمالی نشان می دهد؟ ()

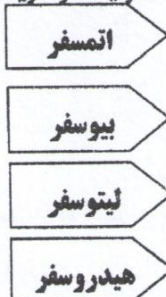
ب) در کدام تصویر، طول روز در نیمکره جنوبی بیشتر است؟ ()

۴- نتایج حرکت وضعی زمین را بنویسید. (۱ نمره)



فصل دوم:

۵- سیاره زمین که ما بر روی آن زندگی می کنیم از چهار محیط تشکیل شده است؛ هر یک از گزینه های سمت راست را به محیط مربوط به خود در سمت چپ وصل کنید. (۷۵/۱ نمره)



الف) بخش خارجی زمین که از سنگ و خاک تشکیل شده است.

ب) اقیانوس ها، آب های سطحی و زیرزمینی و نزولات جوی

ج) محیطی که برای زندگی انسان و دیگر موجودات مناسب است.

۶- به طور کلی از یکسان نتابیدن خورشید به سطح زمین، سه منطقه در روزی زمین پدید می آید؛ آن سه منطقه را نام ببرید. (۷۵/۱ نمره)

(۱) (۲) (۳)

۷- هوا و آب و هوا چه تفاوتی با هم دارند؟ (۱ نمره)

فصل سوم:

۸- عبارت های صحیح و غلط را با علامت (x) مشخص کنید. (۱ نمره)

ص
 غ

الف) جنگل های بارانی استوایی از پیچیده ترین زیست بوم های جهان است که غنی ترین تنوع گیاهی و جانوری را دارد.

ب) آب و هوای بیابان در تمام طول سال گرم است و در زیست بوم آن دو فصل خشک و مرطوب دیده می شود.

۹- کدام گزینه از مهم ترین عواملی که باعث از بین رفتن پوشش گیاهی و جانوری و آلودگی آب و خاک و هوای زیستگاه ها می شوند؛ نیست؟

الف) ایجاد و گسترش شهرها، ساخت پل ها و جاده ها همراه با توجه به جنبه های زیست محیطی (۵/۱ نمره)

ب) فعالیت های صنعتی و تولید انبوه کالا در کارخانه ها

ج) مصرف گرایی و تولید انبوه زباله

د) شکار و تجارت اعضای بدن حیوانات

۱۰- وجود هر زیست بوم در یک ناحیه به چه عواملی بستگی دارد؟ (۴ مورد) (۱ نمره)

(۱) (۲) (۳) (۴)

تاریخ آزمون: ۹۵/۰۲/۲۲
وقت آزمون: ۷۰ دقیقه
تعداد اوراق: ۴
ساعت آزمون: ۱۰ صبح

باسمه تعالی
اداره کل آموزش و پرورش استان فارس
اداره سنجش و ارزشیابی تحصیلی
اداره آموزش و پرورش

نام و نام خانوادگی:
نام پدر:
نام آموزشگاه:
شعبه:

صفحه ۴ سوالات آزمون هماهنگ استانی درس مطالعات اجتماعی [گرمسیر] پایه نهم در خردادماه ۹۵

مقام معظم رهبری: انضباط اجتماعی به معنای نظام پذیری در همه امور است.

فصل چهارم:

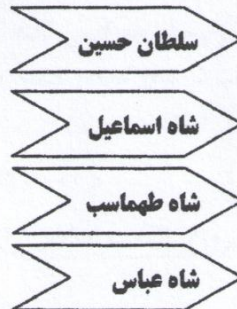
- ۱۱- تفاوت میان موالید و مرگ و میر رشد طبیعی جمعیت را نشان می دهد. (۵/۵ نمره) ص غ
- ۱۲- عواملی که موجب جذب جمعیت در یک ناحیه می شوند یا طبیعی هستند، یا انسانی. کدام گزینه زیر از عوامل طبیعی جذب جمعیت نیست؟
- الف (نواحی معتدل با باران کافی) ب (نواحی صنعتی و دارای کارخانه های متعدد) (۵/۵ نمره)
- ج (دشت ها و جلگه های هموار) د (نواحی دارای معادن و ذخایر زیرزمینی)
- ۱۳- متوسط طول عمر یا امید به زندگی در یک جامعه یعنی چه؟ (۵/۵ نمره)

۱۴- دو مورد از علل و عوامل داخلی نابرابری در جهان امروز را بنویسید. (۱ نمره)

(۱) (۲)

فصل پنجم:

۱۵- حوادث و رخدادهای زیر، مربوط به دوران کدام پادشاه است. با خط به هم وصل کنید. (۷۵/۵ نمره)



الف (جنگ چالدران)

ب (شورش افغان ها)

ج (انتقال پایتخت از قزوین به اصفهان)

۱۶- در دوره صفوی چه کسانی در اداره کشور نقش داشتند؟ به ترتیب فقط نام ببرید. (۷۵/۵ نمره)

۱۷- چرا در عصر صفوی تجارت داخلی و خارجی ایران پررونق بود؟ (۱ نمره)

فصل ششم:

۱۸- عهدنامه گلستان بین ایران و کدام کشور بسته شد؟ به موجب این عهدنامه چه قسمت هایی از ایران جدا شد؟ (دو مورد) (۱ نمره)

۱۹- دو مورد از اقدامات عباس میرزا در جهت اصلاح کشور و پیشرفت ایران را بنویسید. (۱ نمره)

۲۰- من کیستم؟ (۵/۵ نمره)

« در دوره قاجار به سمت صدراعظمی منصوب شدم. در آن زمان، حکومت قاجار با مشکلات بسیاری از قبیل شورش در ایالت ها و اختلال در امور کشوری و لشکری و خالی بودن خزانه روبرو بود. من اقدامات اصلاحی گسترده ای با هدف مبارزه با مفاسد اداری و اقتصادی آغاز کردم. از مهم ترین اقدامات من تأسیس مدرسه دارالفنون بود.